



## 合同な図形 5

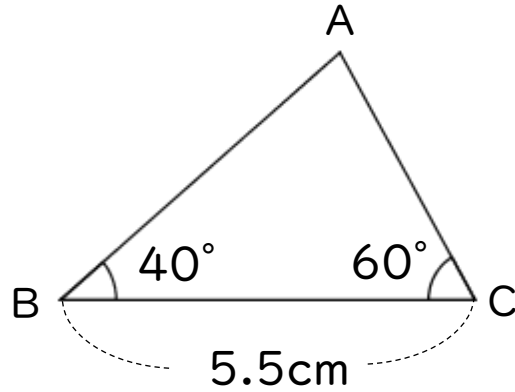
● 合同な三角形の作図  
(1組の辺とその両端の角)




日にち：            月            日

名まえ \_\_\_\_\_

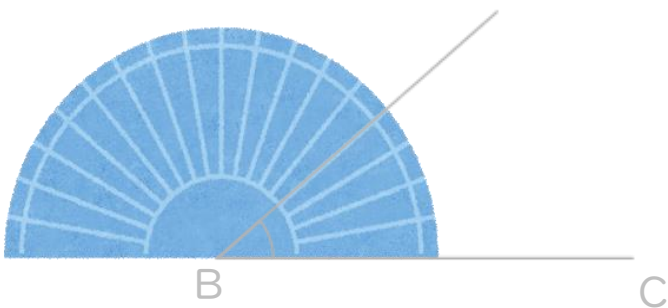
・ 次の三角形ABCと合同な三角形をかきなさい。(うすい字はなぞろう)



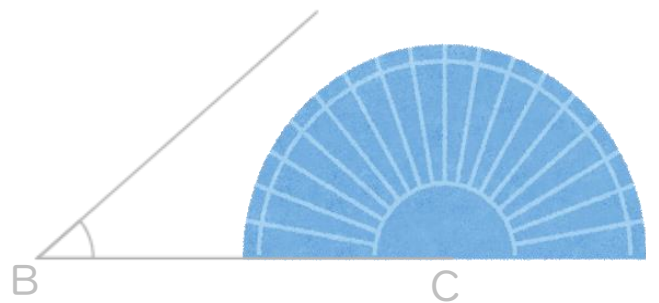
① 5.5cmの辺を引く。



② 分度器を使って40°はかる。



③ 分度器を使って60°はかる。





## 合同な図形 5

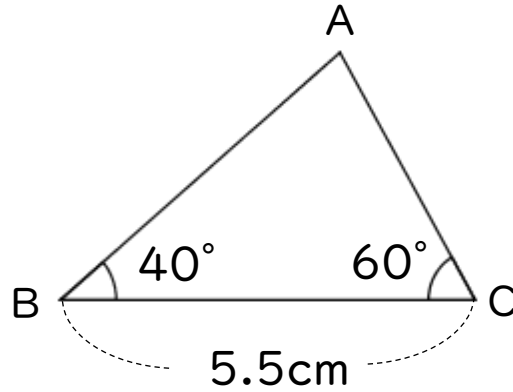
● 合同な三角形の作図  
(1組の辺とその両端の角)



日にち：            月            日

名まえ \_\_\_\_\_

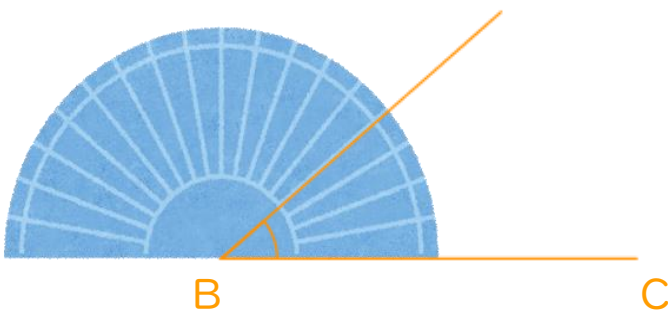
・ 次の三角形ABCと合同な三角形をかきなさい。(うすい字はなぞろう)



① 5.5cmの辺を引く。



② 分度器を使って $40^\circ$ をはかる。



③ 分度器を使って $60^\circ$ をはかる。

