



合同な図形 4

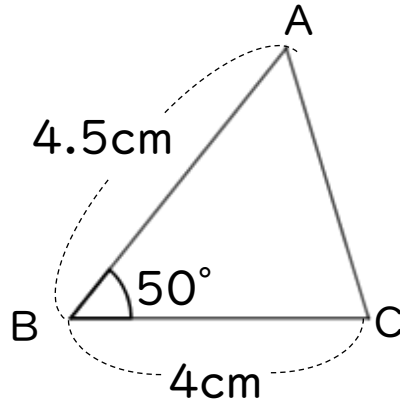
● 合同な三角形の作図
(2組の辺とその挟む角)




日にち： 月 日

名まえ _____

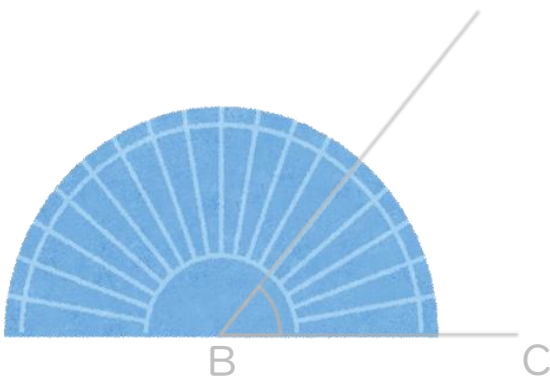
・ 次の三角形ABCと合同な三角形をかきなさい。(うすい字はなぞろう)



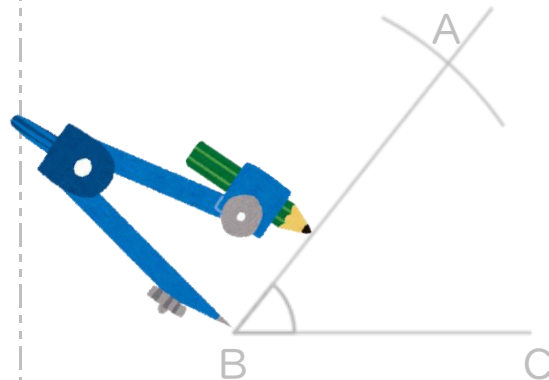
① 4cmの辺を引く。



② 分度器を使って50°はかる。



③ コンパスで4.5cmはかる。



④ AとCを結ぶ。



合同な図形 4

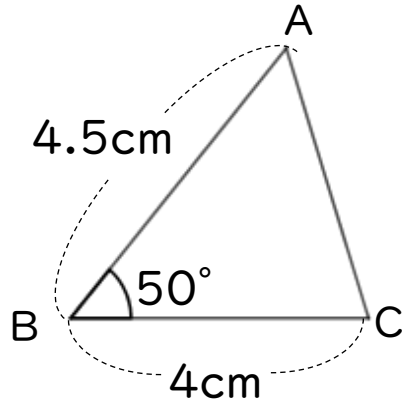
● 合同な三角形の作図
(2組の辺とその挟む角)




日にち： 月 日

名まえ _____

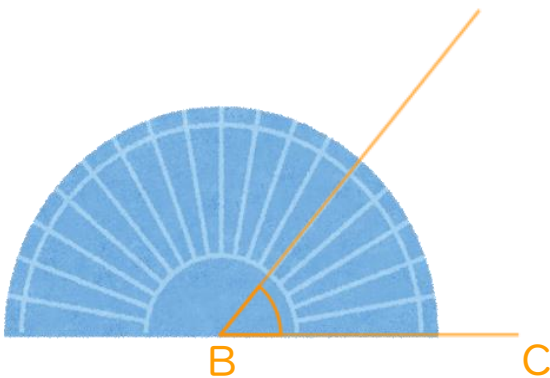
・ 次の三角形ABCと合同な三角形をかきなさい。(うすい字はなぞろう)



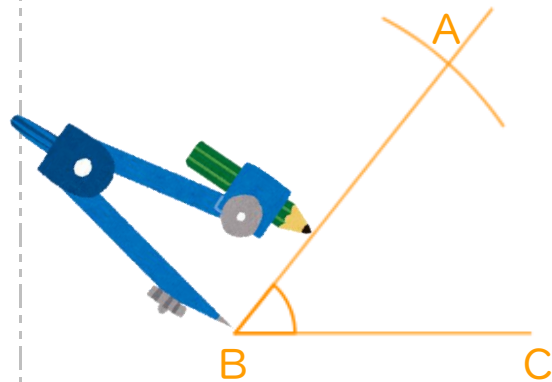
① 4cmの辺を引く。



② 分度器を使って50°はかる。



③ コンパスで4.5cmはかる。



④ AとCを結ぶ。

