



合同な図形 6

◎ 合同な三角形の作図
(3組の辺)

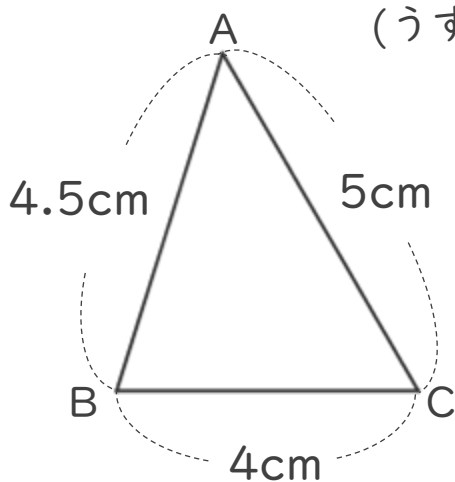


日にち： 月 日

名まえ _____

・ 次の三角形ABCと合同な三角形をかきましょう。

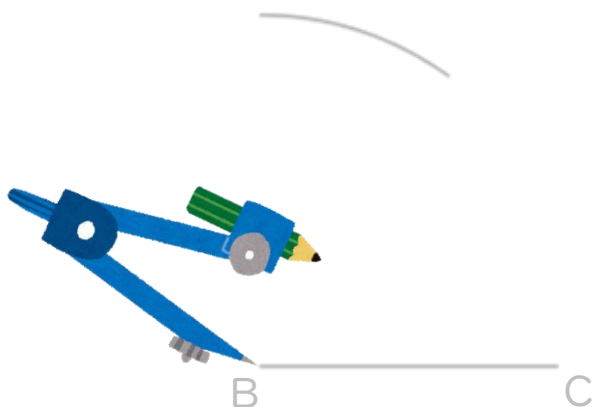
(うすい字は、なぞりましょう。)




① 4cmの辺を引く。



② コンパスで4.5cmはかる。



③ コンパスで5cmはかる。



④ AとB、AとCを結ぶ。



合同な図形 6

◎ 合同な三角形の作図
(3組の辺)

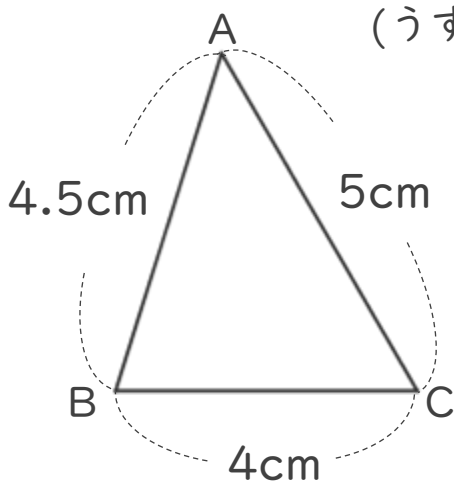


日にち： 月 日

名まえ _____

・ 次の三角形ABCと合同な三角形をかきましょう。

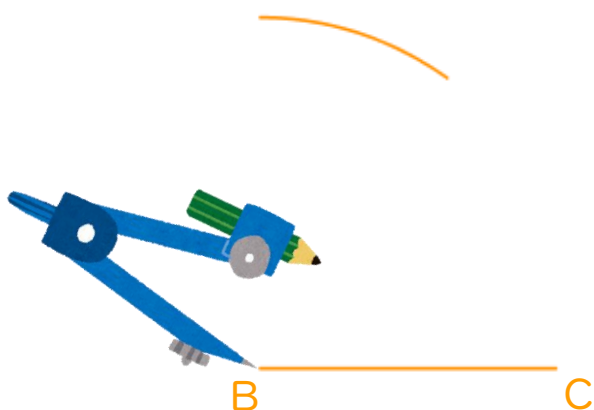
(うすい字は、なぞりましょう。)



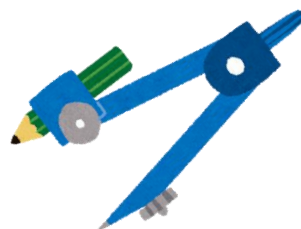
① 4cmの辺を引く。



② コンパスで4.5cmはかる。



③ コンパスで5cmはかる。



④ AとB、AとCを結ぶ。

