



正多角形と  
円周の長さ！

2

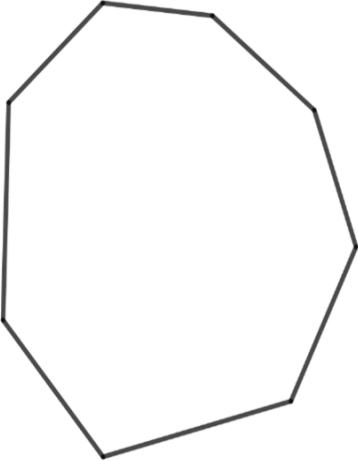
● 多角形の名前

日にち：      月      日

名まえ \_\_\_\_\_

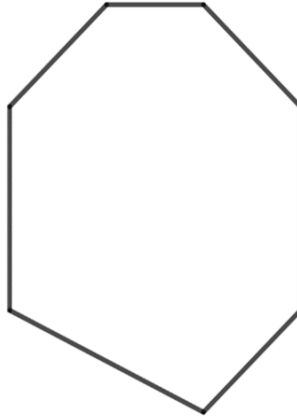
・ 次の図形の名前を書きましょう。(うすい字はしっかりなぞりましょう。)

①



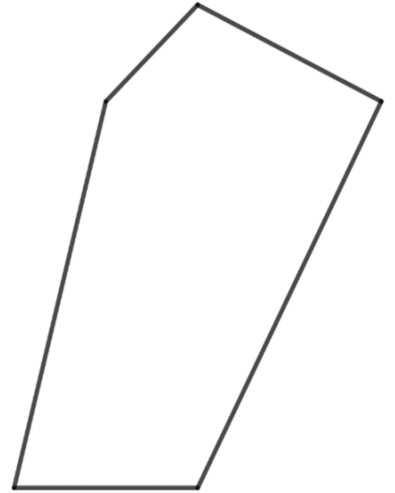
答え： 八角形

②



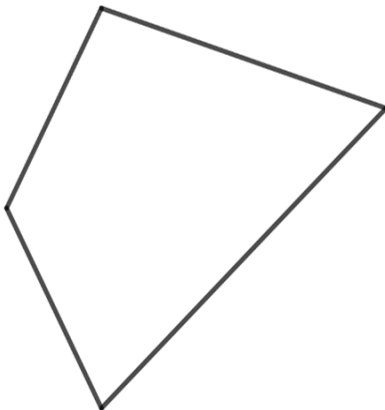
答え： 七角形

③



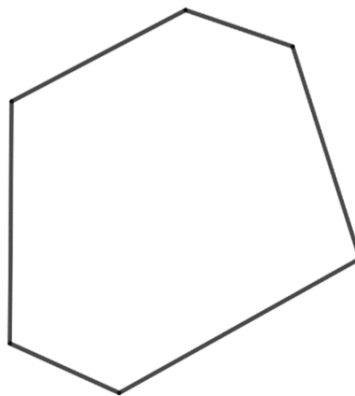
答え： \_\_\_\_\_

④



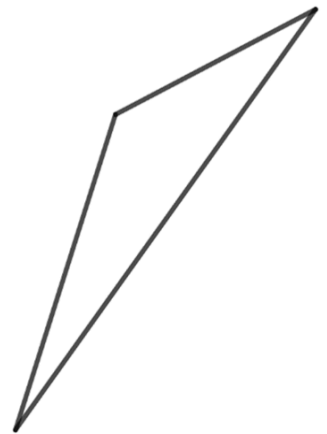
答え： \_\_\_\_\_

⑤



答え： \_\_\_\_\_

⑥



答え： \_\_\_\_\_





正多角形と  
円周の長さ！  
◎ 多角形の名前

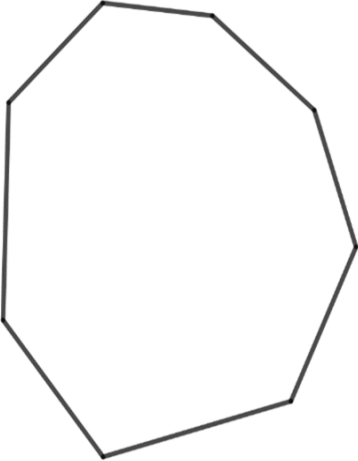
2

日にち：      月      日

名まえ \_\_\_\_\_

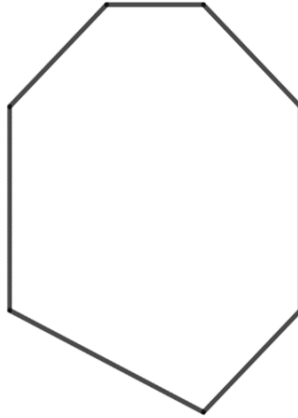
・ 次の図形の名前を書きましょう。(うすい字はしっかりなぞりましょう。)

①



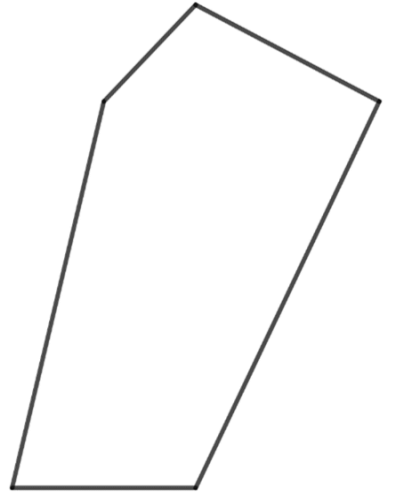
答え： 八角形

②



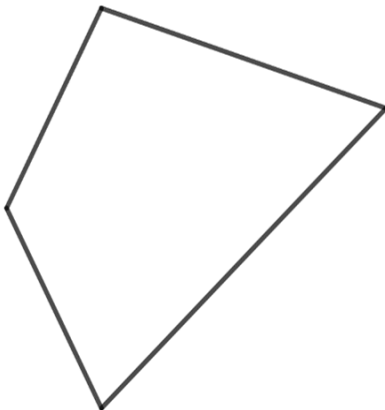
答え： 七角形

③



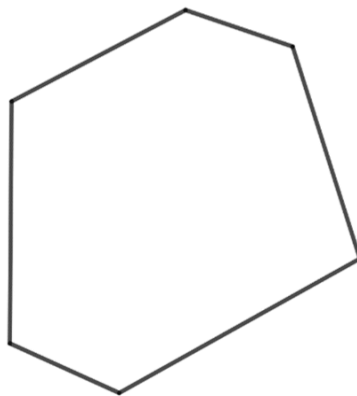
答え： 五角形

④



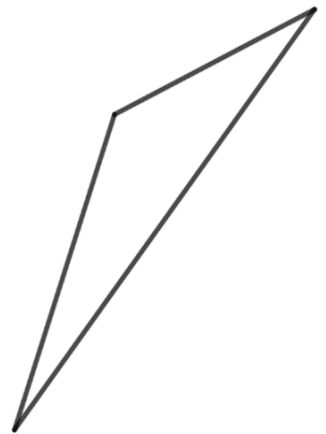
答え： 四角形

⑤



答え： 六角形

⑥



答え： 三角形

