



小数のわり算21

◎ 帯小数÷真小数の文章題

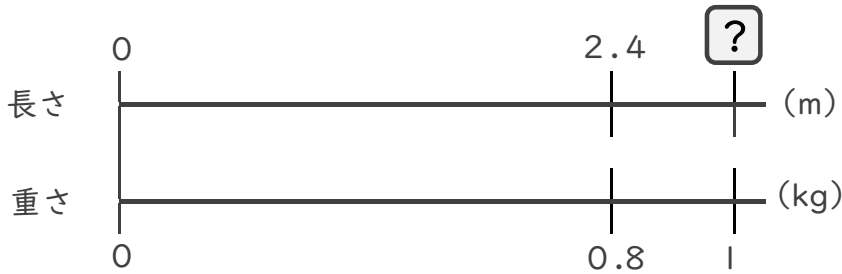


日にち： 月 日

名まえ _____

・ 次の問いに答えましょう。(うすい字は、なぞりましょう。)

1 2.4mの重さが、0.8kgのホースがあります。このホースの1kgあたりの長さは何mになるでしょうか。



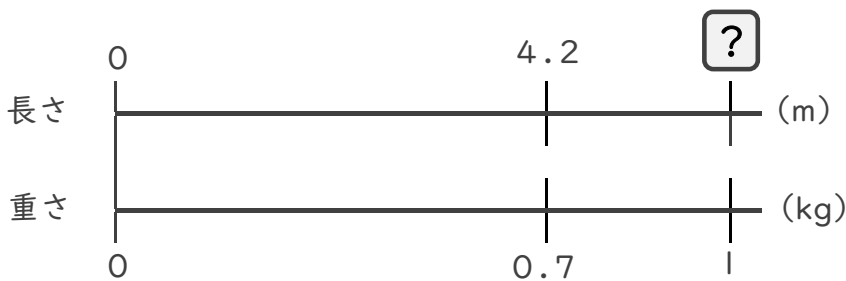
$$\square \times 0.8 = 2.4$$

$$\square = 2.4 \div 0.8$$

$$\square =$$

答え： _____ m

2 4.2mの重さが、0.7kgの金属があります。この金属の1kgあたりの長さは何mになるでしょうか。



$$\square \times \quad =$$

$$\square =$$

$$\square =$$

答え： _____



小数のわり算21

◎ 帯小数÷真小数の文章題

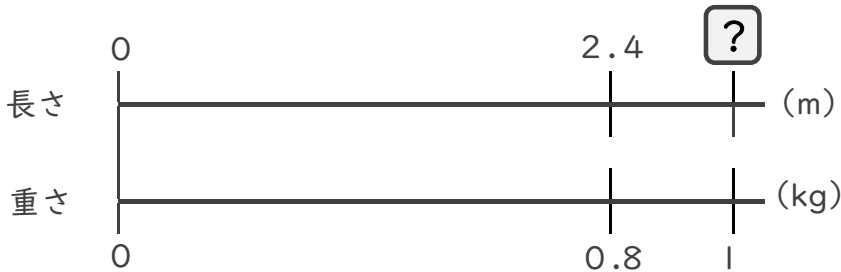


日にち： 月 日

名まえ _____

・ 次の問いに答えましょう。(うすい字は、なぞりましょう。)

1 2.4mの重さが、0.8kgのホースがあります。このホースの1kgあたりの長さは何mになるでしょうか。



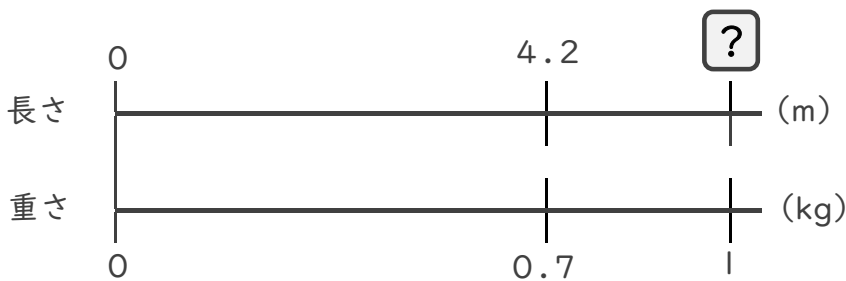
$$\square \times 0.8 = 2.4$$

$$\square = 2.4 \div 0.8$$

$$\square = 3$$

答え： 3 m

2 4.2mの重さが、0.7kgの金属があります。この金属の1kgあたりの長さは何mになるでしょうか。



$$\square \times 0.7 = 4.2$$

$$\square = 4.2 \div 0.7$$

$$\square = 6$$

答え： 6 m