

分数のたし算とひき算 ①

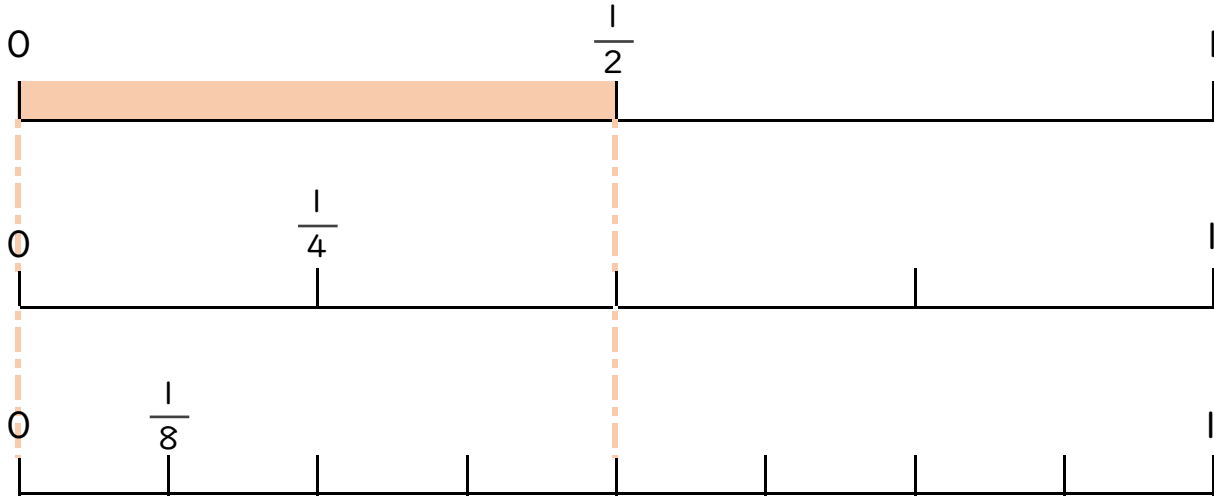
◎ 数直線と大きさの等しい分数



日にち： 月 日

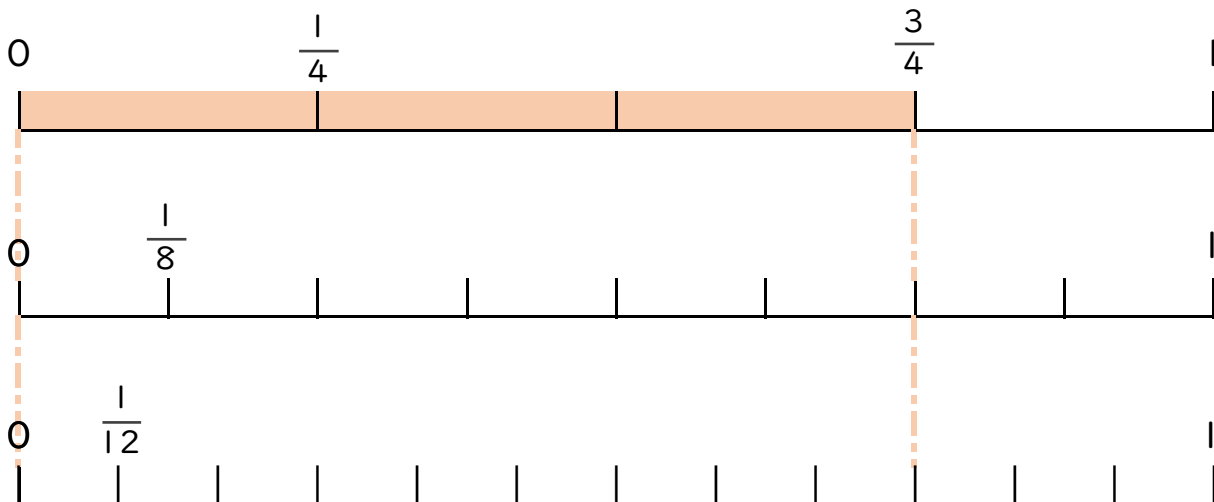
名まえ _____

1 $\frac{1}{2}$ と大きさの等しい分数を2つ見つけましょう(うすい字はなぞろう)




答え $\frac{2}{4}$ と $\frac{4}{8}$

2 $\frac{3}{4}$ と大きさの等しい分数を2つ見つけましょう。



答え _____



分数のたし算とひき算 1

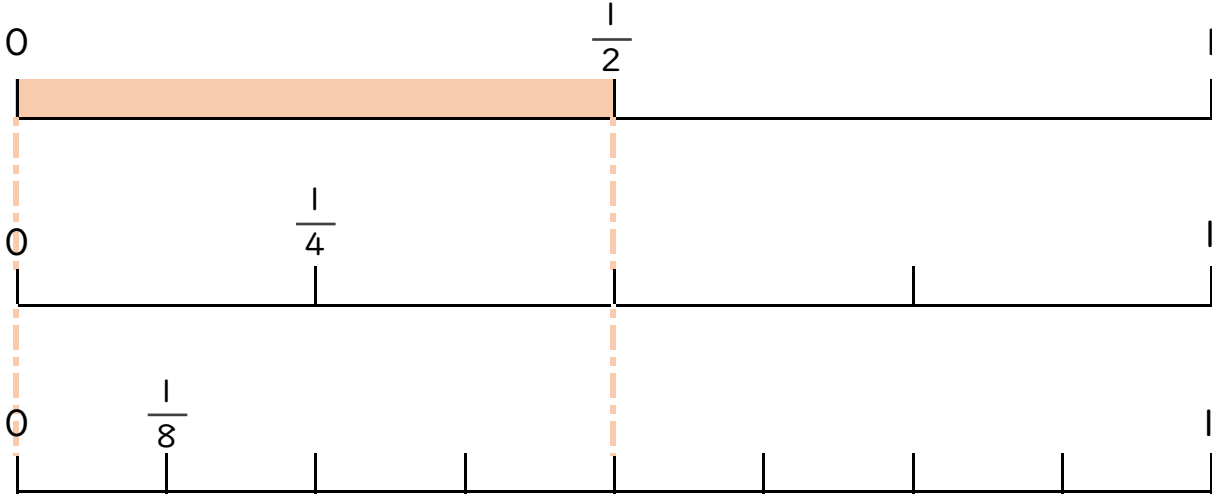
◎ 数直線と大きさの等しい分数



日にち： 月 日

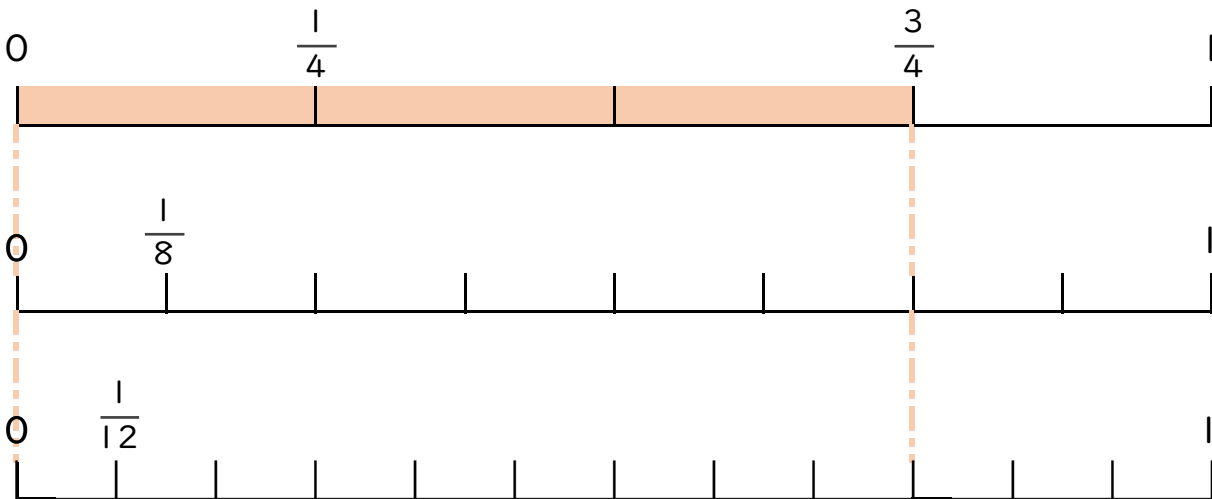
名まえ _____

1 $\frac{1}{2}$ と大きさの等しい分数を2つ見つけましょう(うすい字はなぞろう)



答え $\frac{2}{4}$ と $\frac{4}{8}$

2 $\frac{3}{4}$ と大きさの等しい分数を2つ見つけましょう。



答え $\frac{6}{8}$ と $\frac{9}{12}$