



# 分数のたし算とひき算 I

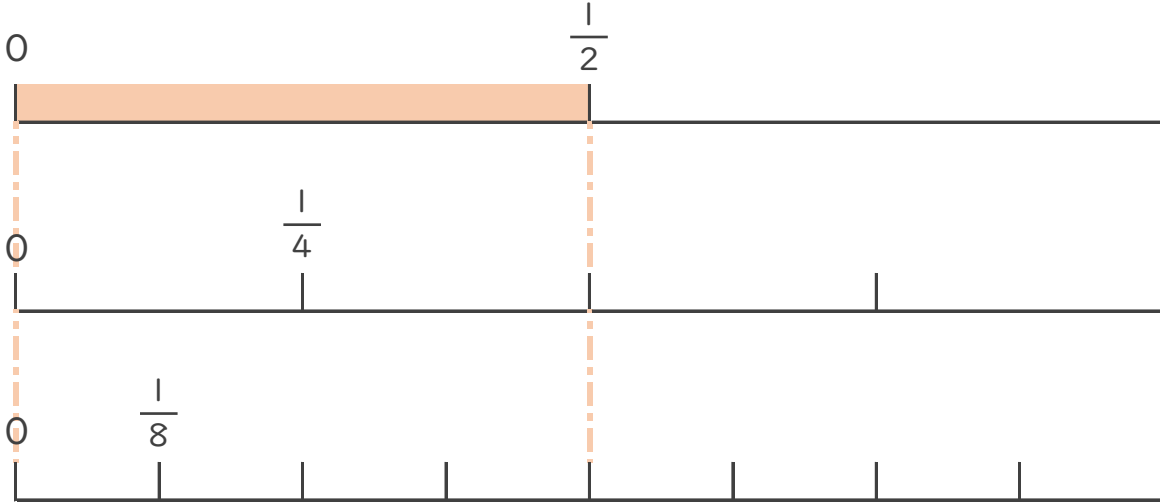
◎ 数直線と大きさの等しい分数



日にち：            月            日

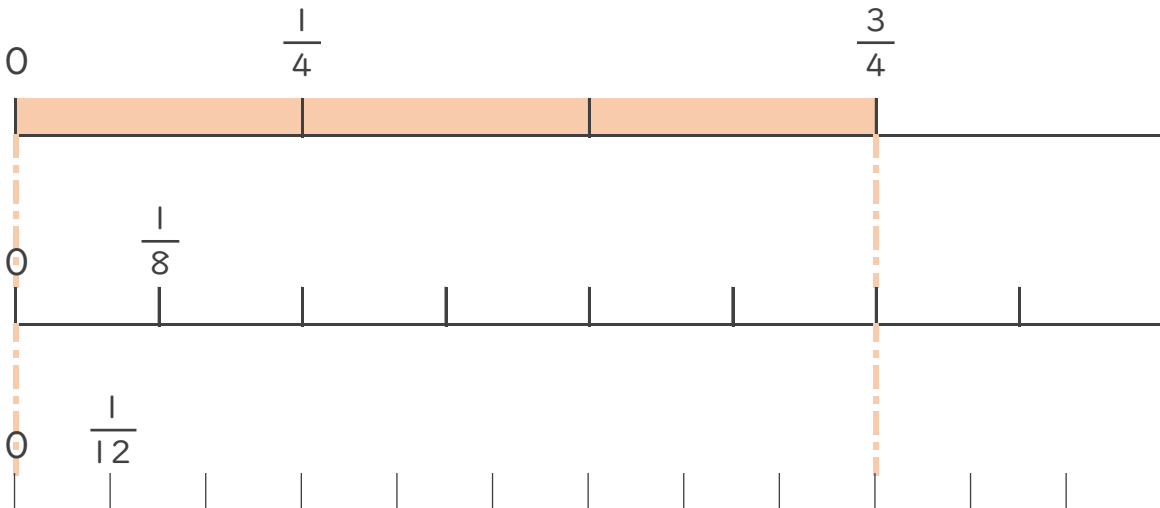
名まえ \_\_\_\_\_

1  $\frac{1}{2}$  と大きさの等しい分数を2つ見つけましょう。  
(うすい字は、なぞりましょう。)



答え  $\frac{2}{4}$  と  $\frac{4}{8}$

2  $\frac{3}{4}$  と大きさの等しい分数を2つ見つけましょう。



答え



# 分数のたし算とひき算 1

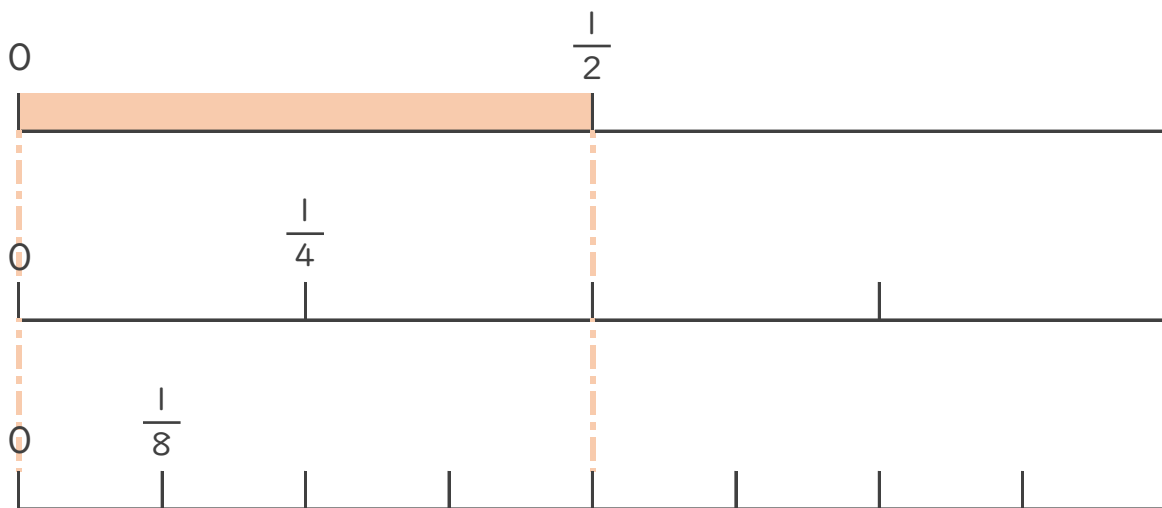
◎ 数直線と大きさの等しい分数



日にち：            月            日

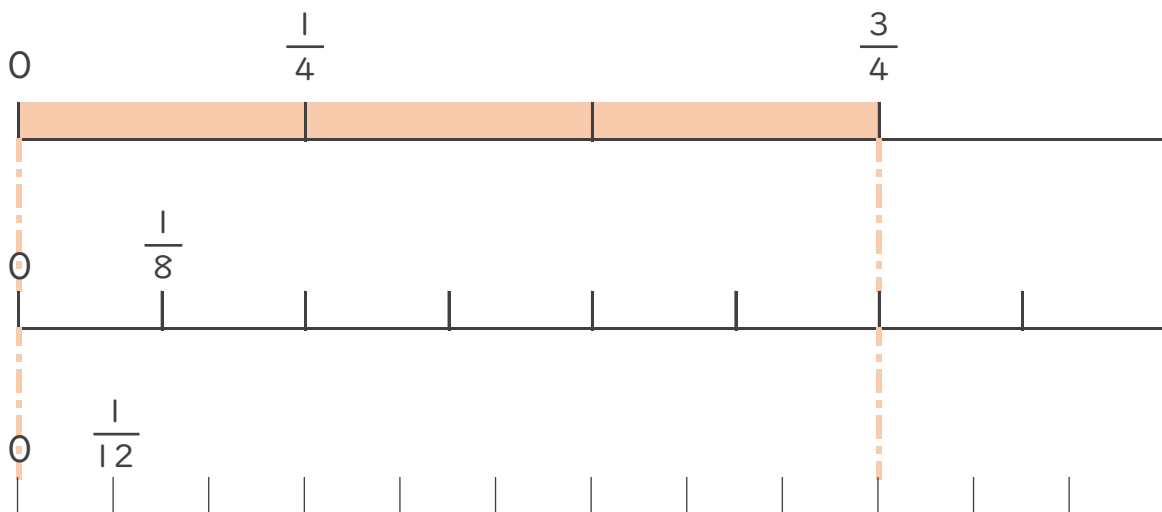
名まえ \_\_\_\_\_

- 1  $\frac{1}{2}$  と大きさの等しい分数を2つ見つけましょう。  
(うすい字は、なぞりましょう。)



答え  $\frac{2}{4}$  と  $\frac{4}{8}$

- 2  $\frac{3}{4}$  と大きさの等しい分数を2つ見つけましょう。



答え  $\frac{6}{8}$  と  $\frac{9}{12}$