



# 角柱と円柱 4



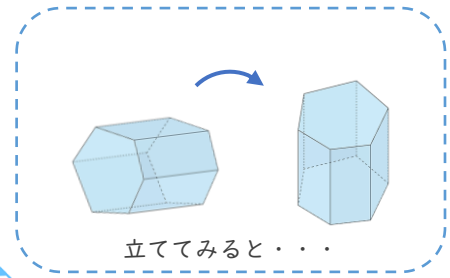
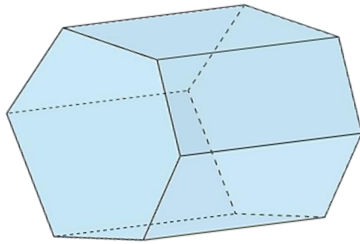
● 横にたおれた角柱

日にち：            月            日

名まえ \_\_\_\_\_

・次のような角柱があります、何という角柱ですか。□にあうことばを書き、  
{ }の中の正しいものを○で囲みましょう。(うすい字はなぞりましょう。)

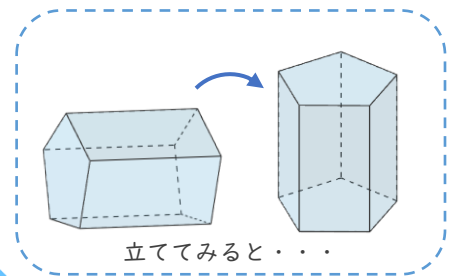
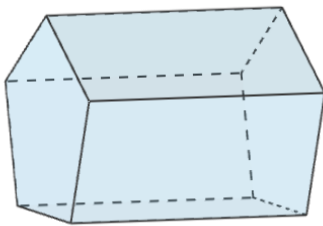
①



・この角柱は、の形が  だから、

{ 四角柱 ・ 五角柱 ・ 六角柱 } です。

②



・この角柱は、の形が  だから、

{ 四角柱 ・ 五角柱 ・ 六角柱 } です。





# 角柱と円柱 4

## 2

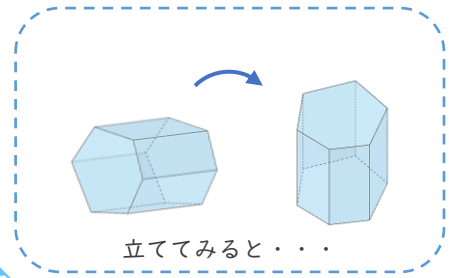
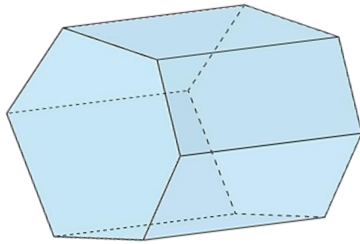
● 横にたおれた角柱

日にち：            月            日

名まえ \_\_\_\_\_

・次のような角柱があります、何という角柱ですか。□にあうことばを書き、{ }の中の正しいものを○で囲みましょう。(うすい字はなぞりましょう。)

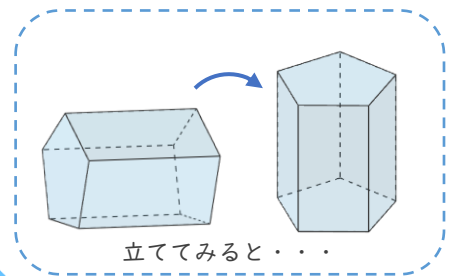
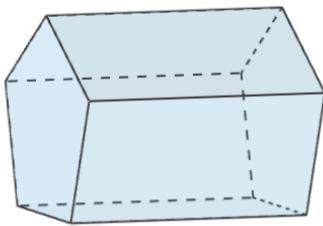
①



・この角柱は、**底面**の形が**六角形**だから、

{ 四角柱 ・ 五角柱 ・ **六角柱** } です。

②



・この角柱は、**底面**の形が**五角形**だから、

{ 四角柱 ・ **五角柱** ・ 六角柱 } です。

