



小数のわり算20

◎ 真小数÷帯小数の文章題

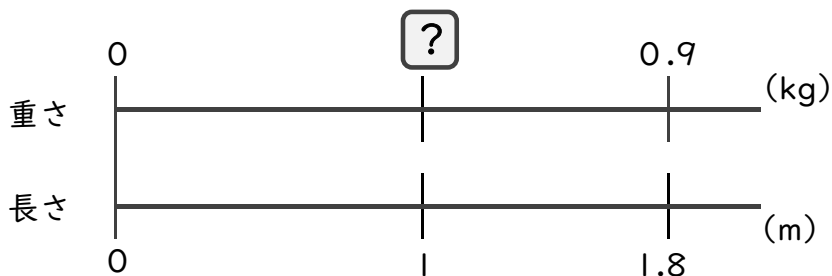


日にち： 月 日

名まえ _____

・次の問いに答えましょう。(うすい字はしっかりなぞりましょう)

1 1.8mの重さが、0.9kgのホースがあります。このホースの1mあたりの重さは何kgになるでしょうか。



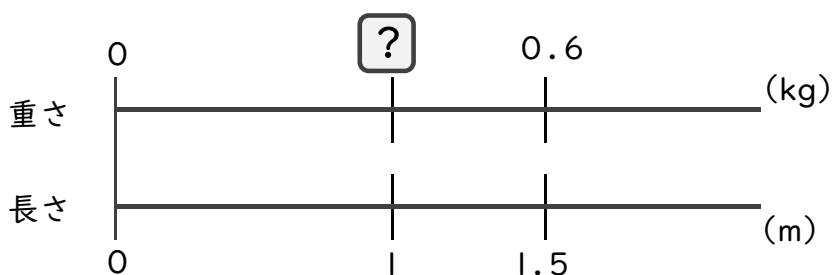
式： × 1.8 = 0.9

= 0.9 ÷ 1.8

=

答え： _____ kg

2 1.5mの重さが、0.6kgのホースがあります。このホースの1mあたりの重さは何kgになるでしょうか。



式： × =

=

=

答え： _____



小数のわり算20

◎ 真小数÷帯小数の文章題

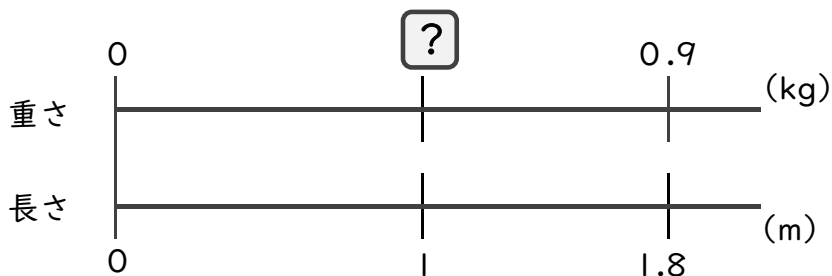


日にち： 月 日

名まえ _____

・次の問いに答えましょう。(うすい字はしっかりなぞりましょう)

1 1.8mの重さが、0.9kgのホースがあります。このホースの1mあたりの重さは何kgになるでしょうか。



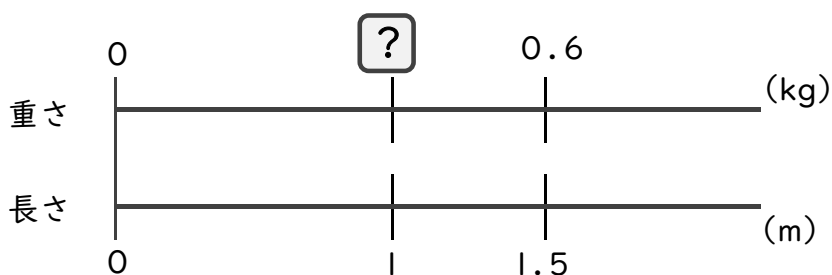
式： × 1.8 = 0.9

= 0.9 ÷ 1.8

= 0.5

答え：0.5 kg

2 1.5mの重さが、0.6kgのホースがあります。このホースの1mあたりの重さは何kgになるでしょうか。



式： × 1.5 = 0.6

= 0.6 ÷ 1.5

= 0.4

答え：0.4 kg