



# 小数のわり算20

◎ 真小数÷帯小数の文章題

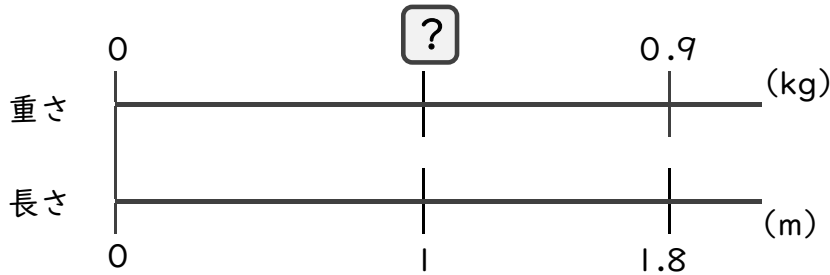


日にち：            月            日

名まえ \_\_\_\_\_

・ 次の問いに答えましょう。(うすい字は、なぞりましょう。)

1 1.8mの重さが、0.9kgのホースがあります。このホースの1mあたりの重さは何kgになるでしょうか。



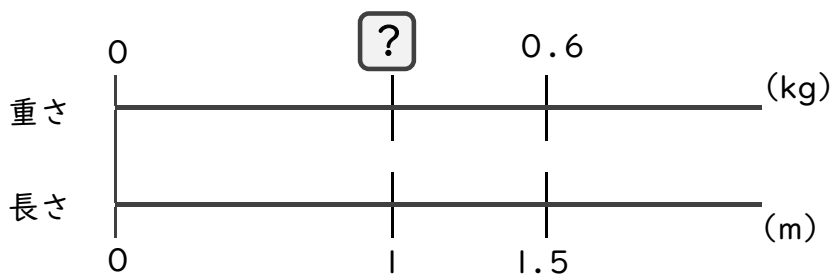
式： × 1.8 = 0.9

= 0.9 ÷ 1.8

=

答え： \_\_\_\_\_ kg

2 1.5mの重さが、0.6kgのホースがあります。このホースの1mあたりの重さは何kgになるでしょうか。



式： ×            =

=

=

答え： \_\_\_\_\_



# 小数のわり算20

◎ 真小数÷帯小数の文章題

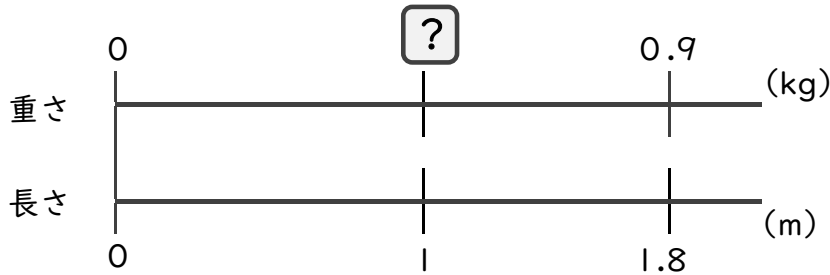


日にち：            月            日

名まえ \_\_\_\_\_

・ 次の問いに答えましょう。(うすい字は、なぞりましょう。)

1 1.8mの重さが、0.9kgのホースがあります。このホースの1mあたりの重さは何kgになるでしょうか。



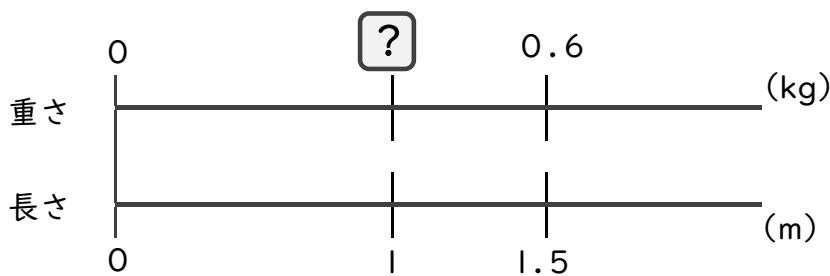
式： × 1.8 = 0.9

= 0.9 ÷ 1.8

= 0.5

答え：0.5 kg

2 1.5mの重さが、0.6kgのホースがあります。このホースの1mあたりの重さは何kgになるでしょうか。



式： × 1.5 = 0.6

= 0.6 ÷ 1.5

= 0.4

答え：0.4 kg