



小数の倍2

◎ 短いリボンは長いリボンの何倍？

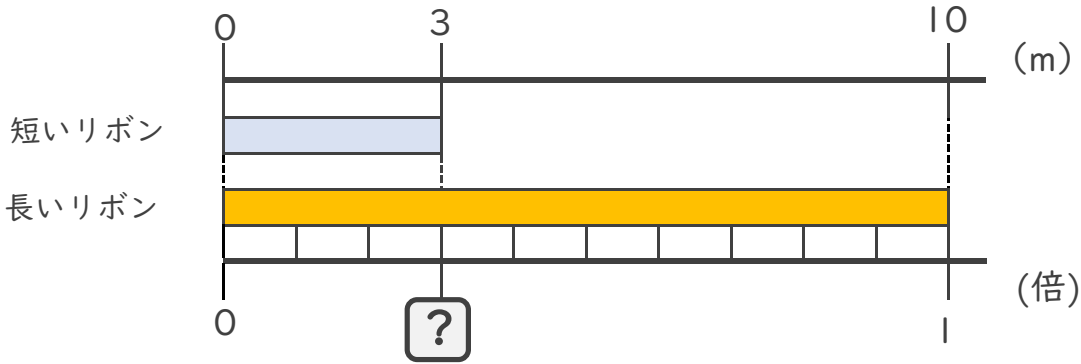


日にち： 月 日

名まえ _____

・ 次の問いに答えましょう。

① 短いリボンは長いリボンの何倍でしょうか？



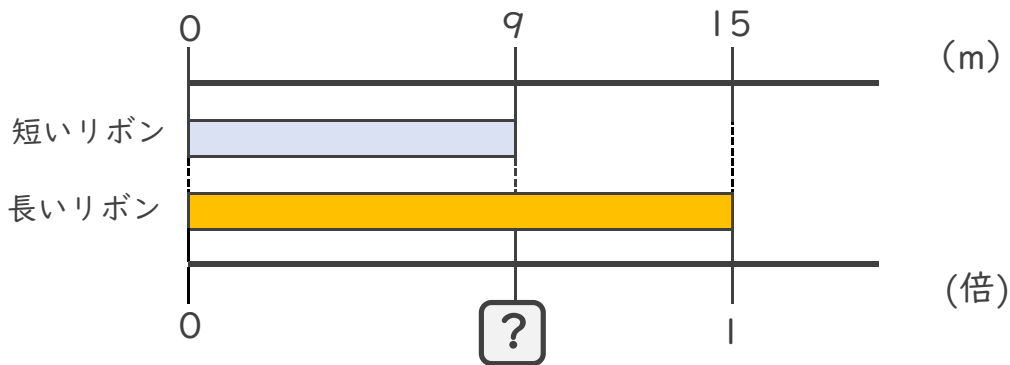
式： $10 \times \square = 3$

$\square = 3 \div$

$\square =$

答え： _____ 倍

② 短いリボンは長いリボンの何倍でしょうか？



式： $\times \square = 9$

$\square = 9 \div$

$\square =$

答え： _____





小数の倍2

◎ 短いリボンは長いリボンの何倍？

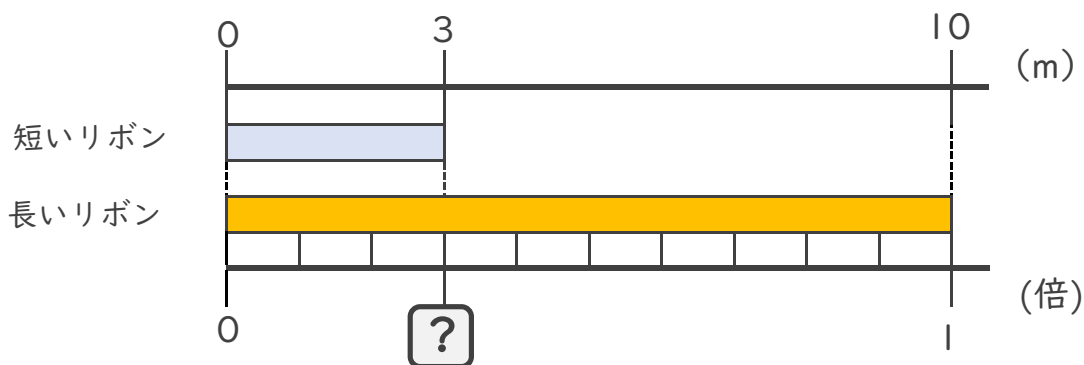


日にち： 月 日

名まえ _____

・ 次の問いに答えましょう。

① 短いリボンは長いリボンの何倍でしょうか？



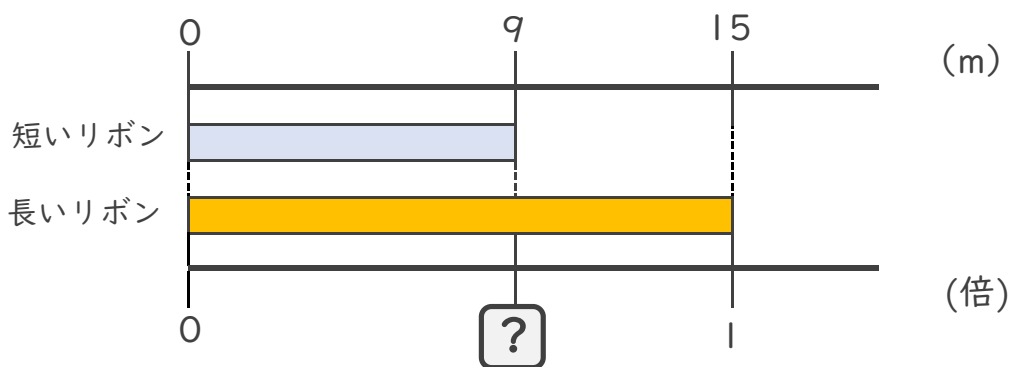
式： $10 \times \square = 3$

$\square = 3 \div 10$

$\square = 0.3$

答え： 0.3倍

② 短いリボンは長いリボンの何倍でしょうか？



式： $15 \times \square = 9$

$\square = 9 \div 15$

$\square = 0.6$

答え： 0.6倍

