



角柱と円柱 ①

◎ 立体を調べる

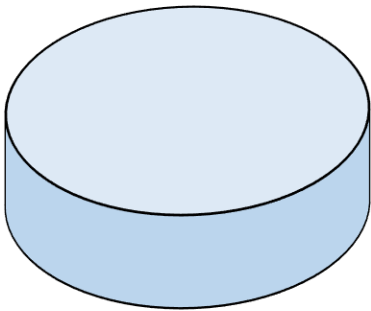


日にち： 月 日

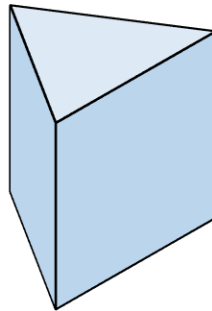
名まえ _____

・ 次の立体を、立体を^{かこ}囲む面に注目して、2つのグループに分けて に
① ~ ⑤ を書きましょう。

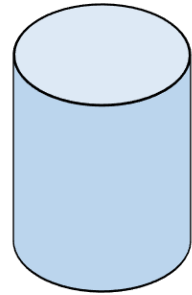
①



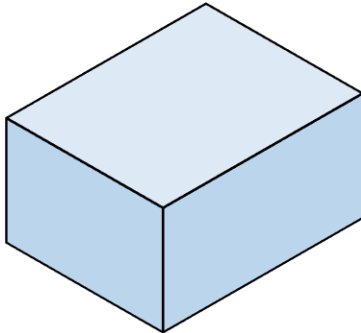
②



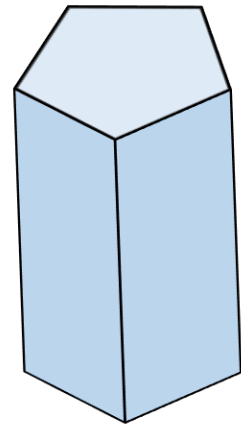
③



④



⑤



1つめのグループ

①、

2つめのグループ

②、





角柱と円柱 ①

◎ 立体を調べる

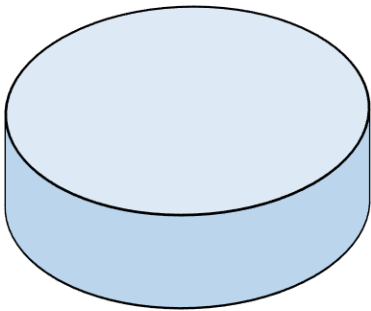
2

日にち： 月 日

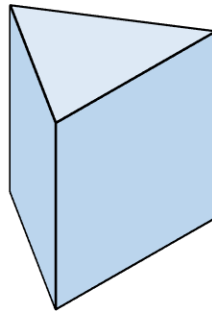
名まえ _____

・ 次の立体を、立体を^{かこ}囲む面に注目して、2つのグループに分けて に
① ~ ④ を書きましょう。

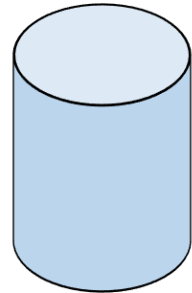
①



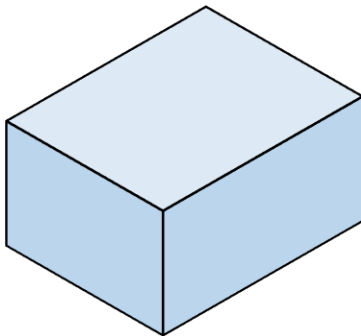
②



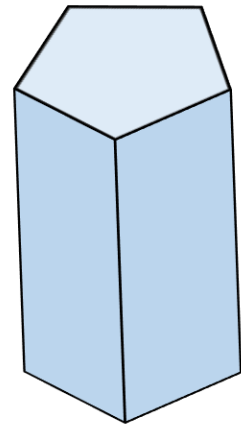
③



④



⑤



1つめのグループ

①、③

2つめのグループ

②、④、⑤

