



角柱と円柱

2

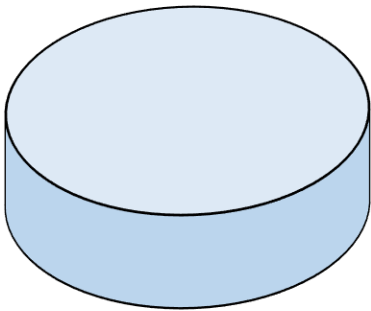
◎ 立体を調べる

日にち： 月 日

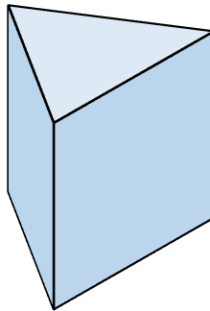
名まえ _____

・ 次の立体を、立体を囲む面かこに注目して、2つのグループに分けて に
① ~ ④ を書きましょう。（うすい字は、なぞりましょう。）

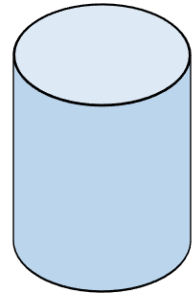
①



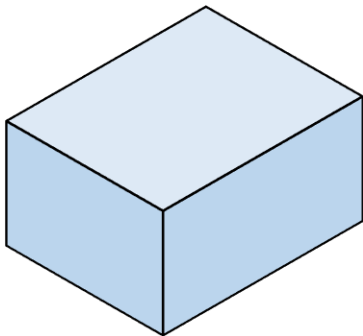
②



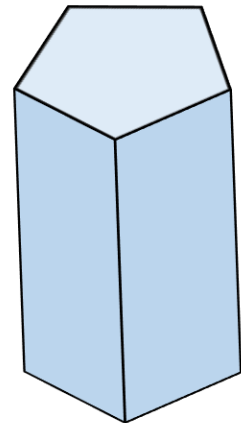
③



④



⑤



1つめのグループ

2つめのグループ



角柱と円柱



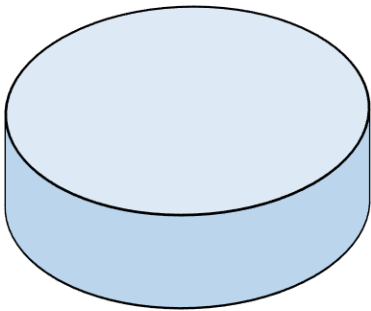
◎ 立体を調べる

日にち： 月 日

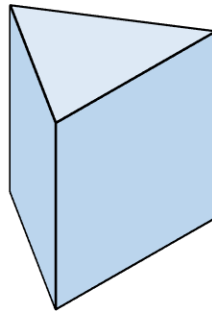
名まえ _____

・ 次の立体を、立体を囲む面かこに注目して、2つのグループに分けて に
① ~ ④ を書きましょう。（うすい字は、なぞりましょう。）

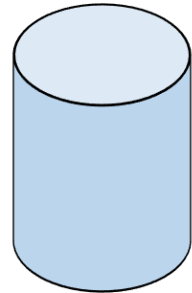
①



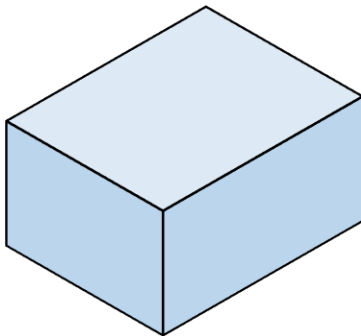
②



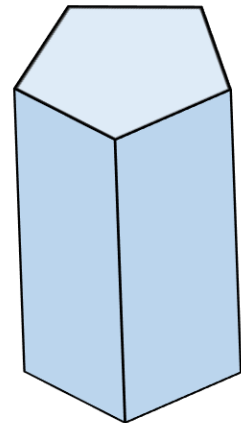
③



④



⑤



1つめのグループ

①、③

2つめのグループ

②、④、⑤

