



角柱と円柱 6

● 角柱と円柱の特ちょう

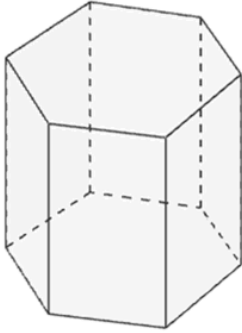


日にち： 月 日

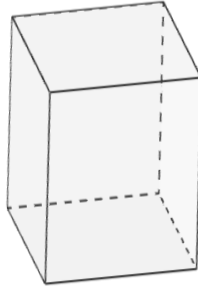
名まえ _____

・ 図を見て次の問いに答えましょう。（うすい字はなぞりましょう。）

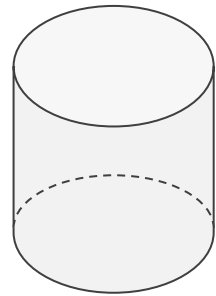
ア



イ



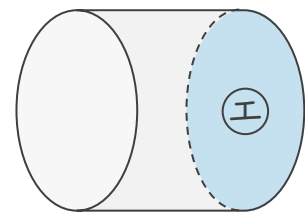
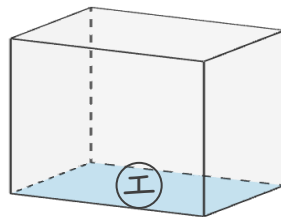
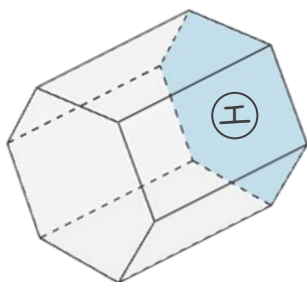
ウ



① 次の表に合う数や言葉を書き、表を完成させましょう。

	ア	イ	ウ
立体の名前	六角柱	四角柱	
側面の数	6		
底面の形	六角形		

② ㊦の面と平行な面に色をぬりましょう。





角柱と円柱 6

● 角柱と円柱の特ちょう

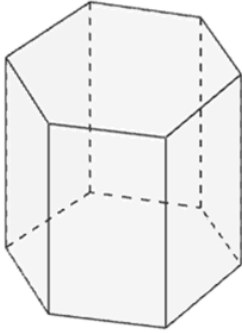


日にち： 月 日

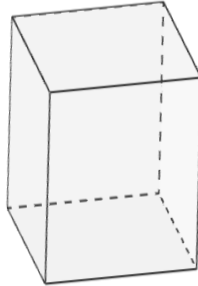
名まえ _____

・ 図を見て次の問いに答えましょう。（うすい字はなぞりましょう。）

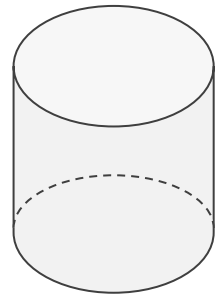
ア



イ



ウ



① 次の表に合う数や言葉を書き、表を完成させましょう。

	ア	イ	ウ
立体の名前	六角柱	四角柱	円柱
側面の数	6	4	1
底面の形	六角形	四角形	円

② ①の面と平行な面に色をぬりましょう。

