

小数の倍①

◎ 長いリボンは
短いリボンの何倍？

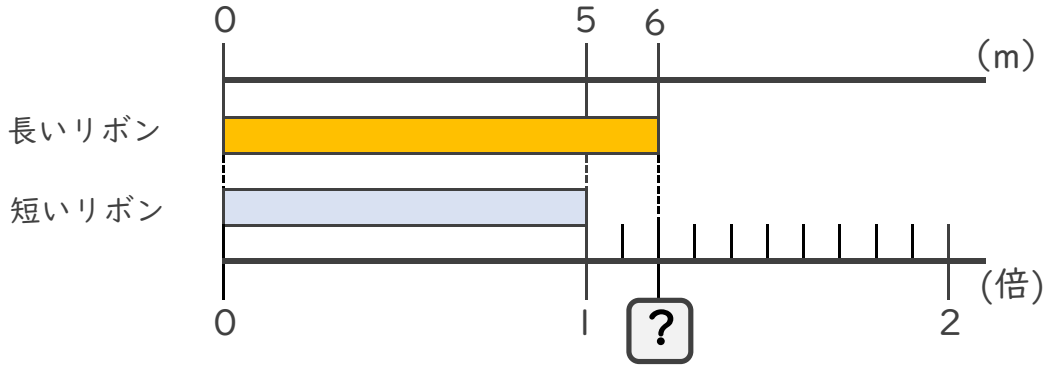


日にち： 月 日

名まえ _____

・ 次の問いに答えましょう。

① 長いリボンは短いリボンの何倍でしょうか？



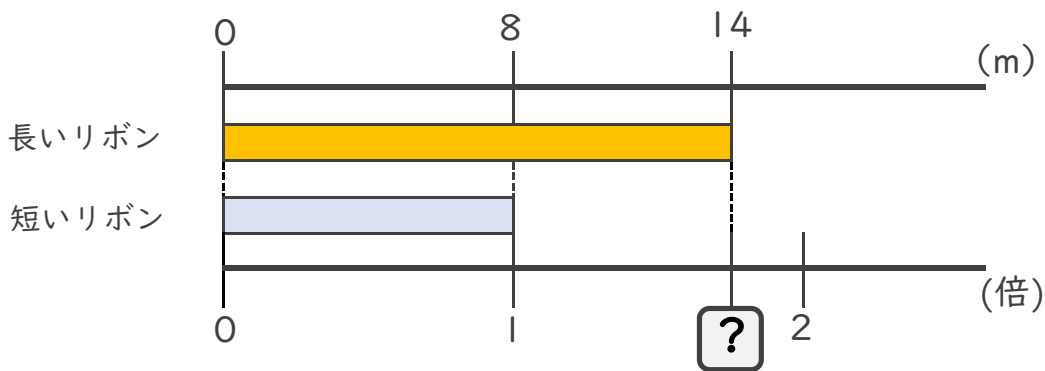
式： $5 \times \square = 6$

$\square = 6 \div 5$

$\square =$

答え： _____ 倍

② 長いリボンは短いリボンの何倍でしょうか？



式： $8 \times \square = 14$

$\square =$ \div

$\square =$

答え： _____





小数の倍①

◎ 長いリボンは
短いリボンの何倍？

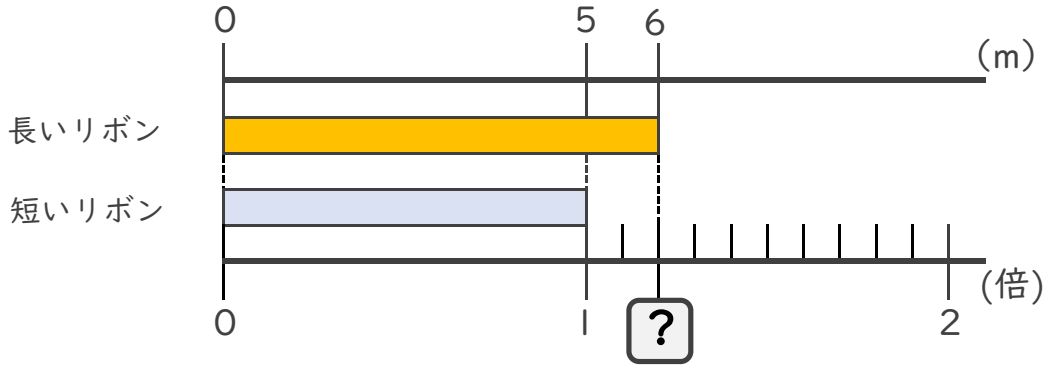


日にち： 月 日

名まえ _____

・ 次の問いに答えましょう。

① 長いリボンは短いリボンの何倍でしょうか？



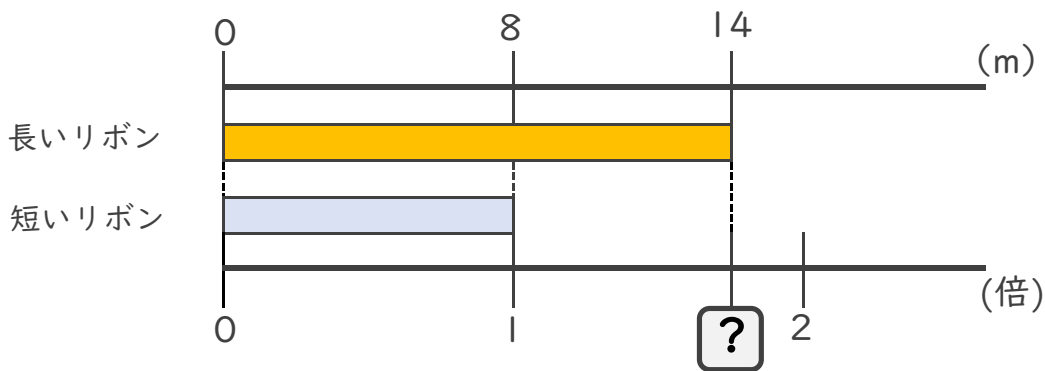
式： $5 \times \square = 6$

$\square = 6 \div 5$

$\square = 1.2$

答え： 1.2倍

② 長いリボンは短いリボンの何倍でしょうか？



式： $8 \times \square = 14$

$\square = 14 \div 8$

$\square = 1.75$

答え： 1.75倍

