



# 小数の倍①

◎ 長いリボンは  
短いリボンの何倍？

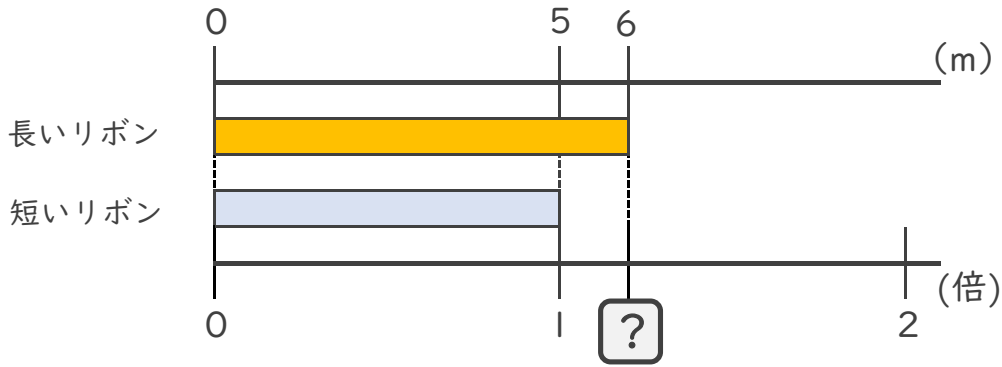


日にち：        月        日

名まえ \_\_\_\_\_

・ 次の問いに答えましょう。(うすい字は、なぞりましょう。)

① 長いリボンは短いリボンの何倍ですか。



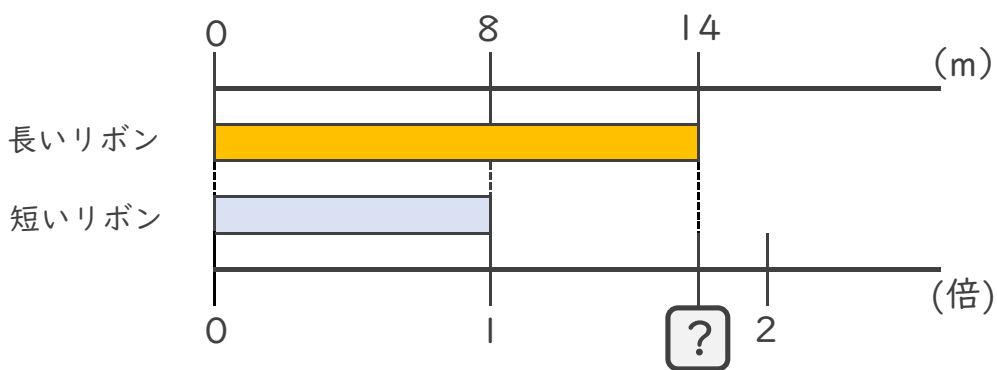
式：  $5 \times \square = 6$

$\square = 6 \div 5$

$\square =$

答え： \_\_\_\_\_ 倍

② 長いリボンは短いリボンの何倍ですか。



式：  $8 \times \square = 14$

$\square = \quad \div$

$\square =$

答え： \_\_\_\_\_





# 小数の倍①

◎ 長いリボンは  
短いリボンの何倍？

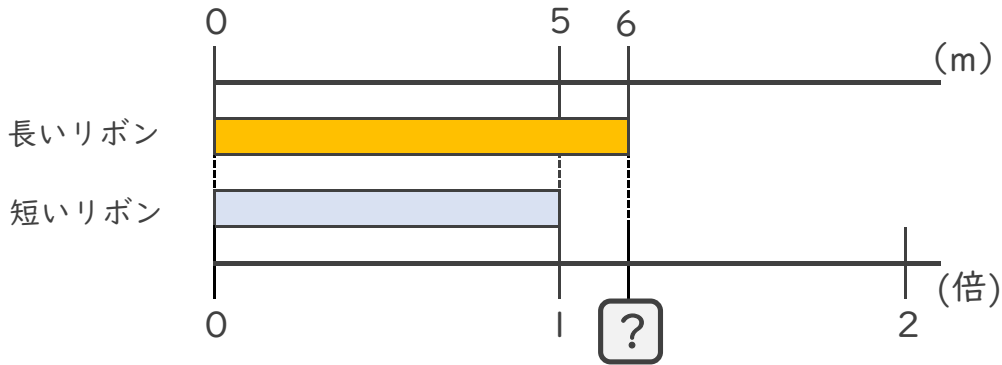


日にち：        月        日

名まえ \_\_\_\_\_

・ 次の問いに答えましょう。(うすい字は、なぞりましょう。)

① 長いリボンは短いリボンの何倍ですか。



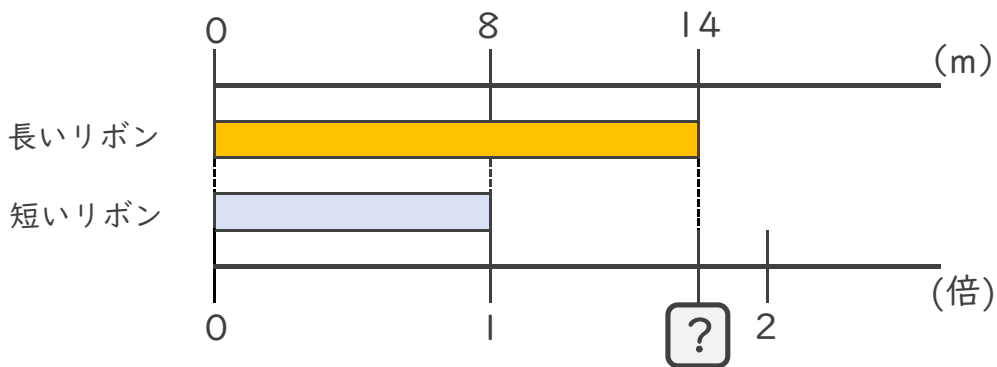
式：  $5 \times \square = 6$

$\square = 6 \div 5$

$\square = 1.2$

答え： 1.2倍

② 長いリボンは短いリボンの何倍ですか。



式：  $8 \times \square = 14$

$\square = 14 \div 8$

$\square = 1.75$

答え： 1.75倍

