



小数のかけ算 16

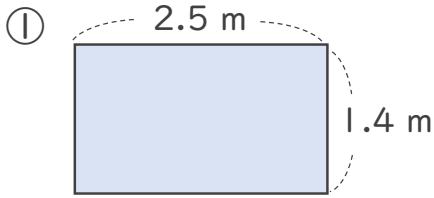
◎ 長方形の面積



日にち： 月 日

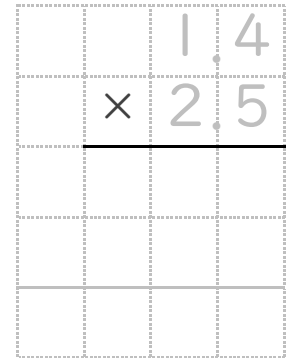
名まえ _____

・ 次の長方形の面積は何㎡でしょうか。(うすい字は、なぞりましょう。)

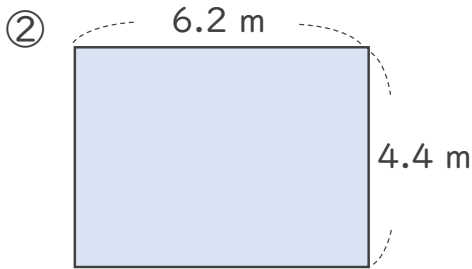


式： $\overset{\text{たて}}{1.4} \times \overset{\text{よこ}}{2.5} = \overset{\text{面積}}{\quad}$

<筆算>

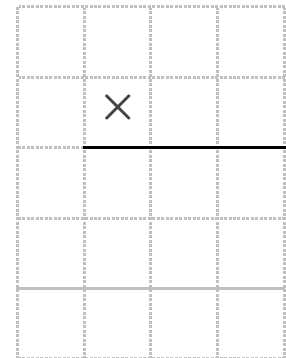


答え： _____ m^2



式： $\overset{\text{たて}}{\quad} \times \overset{\text{よこ}}{\quad} = \overset{\text{面積}}{\quad}$

<筆算>



答え： _____ m^2





小数のかけ算 16

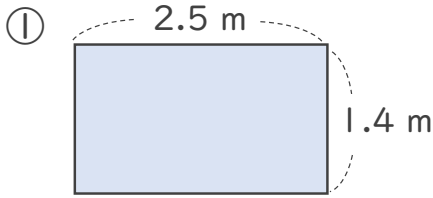
◎ 長方形の面積



日にち： 月 日

名まえ _____

・ 次の長方形の面積は何㎡でしょうか。(うすい字は、なぞりましょう。)

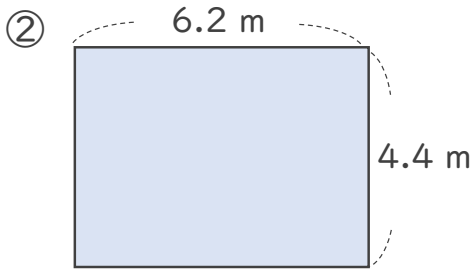


式：
$$\begin{array}{c} \text{たて} \\ 1.4 \end{array} \times \begin{array}{c} \text{よこ} \\ 2.5 \end{array} = \begin{array}{c} \text{面積} \\ 3.5 \end{array}$$

<筆算>

		1	.	4
	×	2	.	5
		7	0	
		2	8	
		3	.	5 0

答え： 3.5 m²



式：
$$\begin{array}{c} \text{たて} \\ 4.4 \end{array} \times \begin{array}{c} \text{よこ} \\ 6.2 \end{array} = \begin{array}{c} \text{面積} \\ 27.28 \end{array}$$

<筆算>

		4	.	4
	×	6	.	2
		8	8	
		2	6	4
		2	7	. 2 8

答え： 27.28 m²

② 確認 答え



すらすらぷりん