



比例 1

● 2つの量の変わり方

2

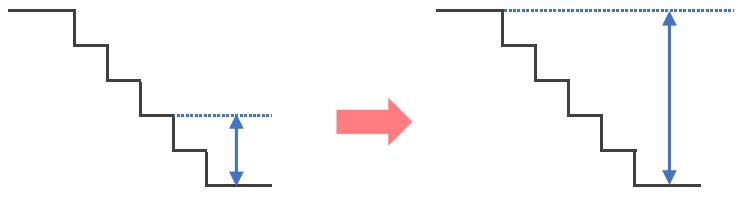
日にち： 月 日

名まえ _____

・ 2つの量の変わり方について調べます。(うすい字はなぞりましょう。)

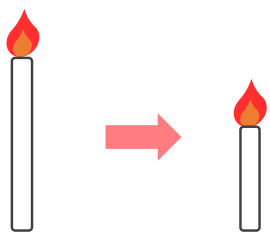
2つの量の一方が増えらると、
それにともなつてもう一方が増えるものには「増える」、
一方が増えらると、
それにともなつてもう一方が減るものに「減る」と〔 〕に書きましよう。

① 階段をのぼる段数が増えらると、下からの高さは？



〔 増える 〕

② ろうそくに火をつけている時間が増えらると、ろうそくの残りの長さは？



〔 減る 〕

③ 10個入りのアイスを食べた数が増えらると、残りの数は？



〔 〕

④ 水そうに入れた水の量が増えらると、水の深さは？



〔 〕



比例 1

● 2つの量の変わり方



日にち： 月 日

名まえ _____

- ・ 2つの量の変わり方について調べます。(うすい字はなぞりましょう。)

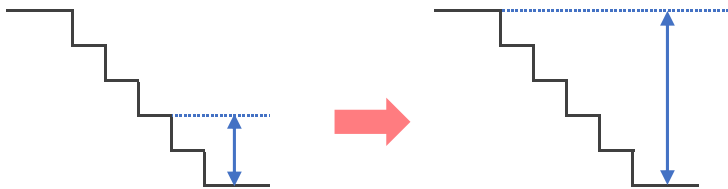
2つの量の一方が増えると、

それにもなってもう一方が増えるものには「増える」、

一方が増えると、

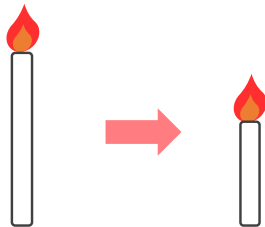
それにもなってもう一方が減るものに「減る」と〔 〕に書きましょう。

- ① 階段をのぼる段数が増えると、下からの高さは？



〔 増える 〕

- ② ろうそくに火をつけている時間が増えると、ろうそくの残りの長さは？



〔 減る 〕

- ③ 10個入りのアイスを食べた数が増えると、残りの数は？



〔 減る 〕

- ④ 水そうに入れた水の量が増えると、水の深さは？



〔 増える 〕