



小数のわり算 18

㊦ あまりのあるわり算
(商が整数)

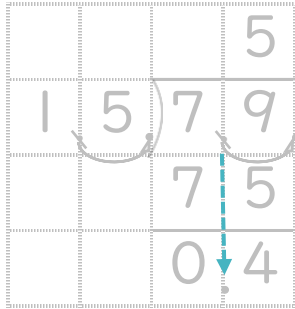


日にち： 月 日

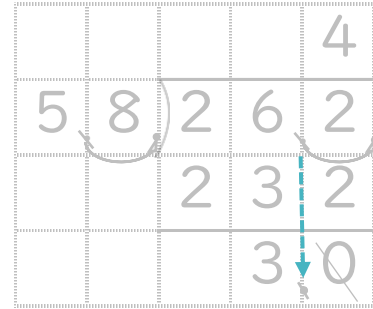
名まえ _____

- ・ 商は一の位まで求めて、あまりも出しましょう。
(うすい字は、なぞりましょう。)

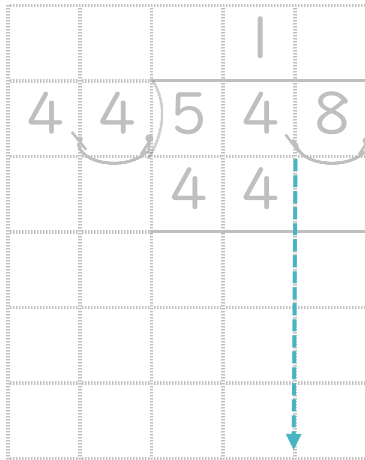
① $7.9 \div 1.5$



② $26.2 \div 5.8$



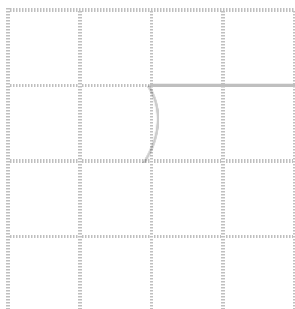
③ $54.8 \div 4.4$




④ $94.4 \div 2.9$



⑤ $7.8 \div 2.4$



⑥ $7.3 \div 1.6$





小数のわり算 18

◎ あまりのあるわり算
(商が整数)

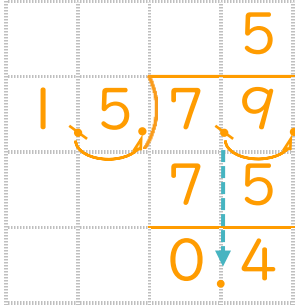


日にち： 月 日

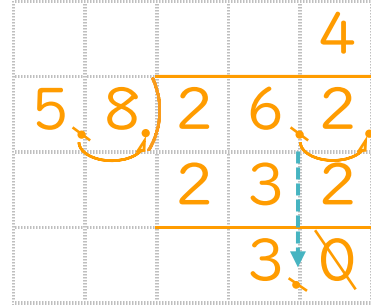
名まえ _____

- ・ 商は一の位まで求めて、あまりも出しましょう。
(うすい字は、なぞりましょう。)

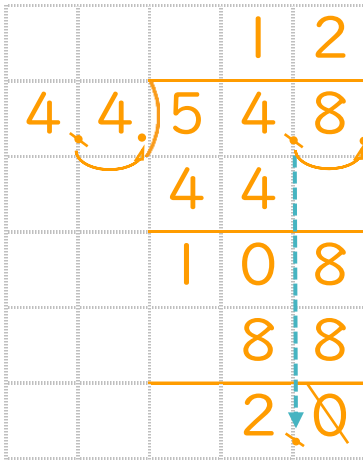
① $7.9 \div 1.5$



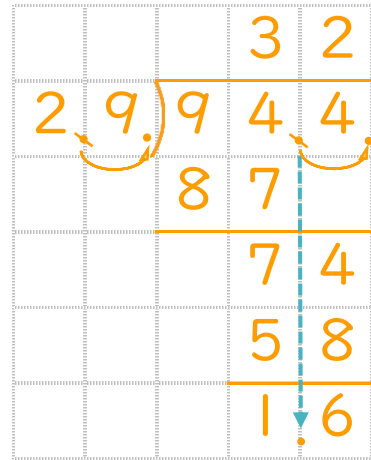
② $26.2 \div 5.8$



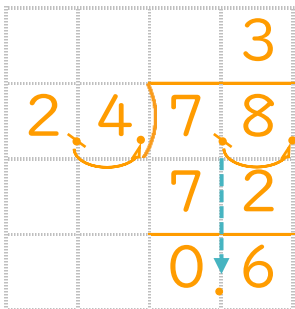
③ $54.8 \div 4.4$



④ $94.4 \div 2.9$



⑤ $7.8 \div 2.4$



⑥ $7.3 \div 1.6$

