



## 割合 8

● もとにする量・割合・  
比べられる量を見分ける

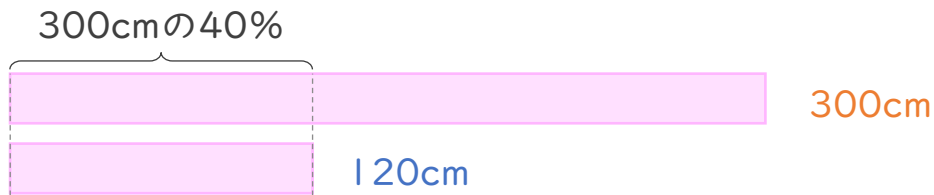


日にち：            月            日

名まえ \_\_\_\_\_

・ 次の文について、問題に答えましょう。（うすい字はなぞりましょう。）

300cm の 40% は、 120cm です。



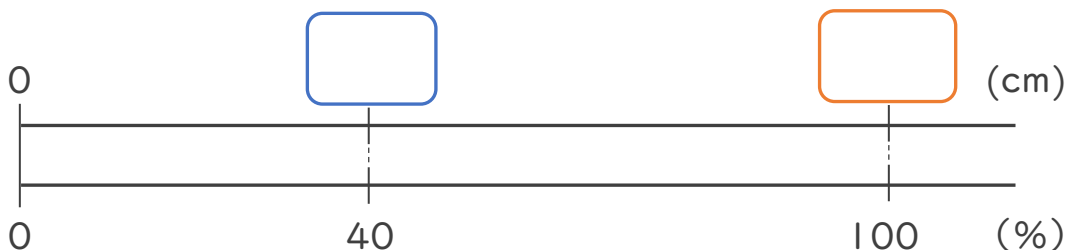
① 上の文で、もとにする量、<sup>りょう</sup>比べられる量、<sup>わりあい</sup>割合は、それぞれ何ですか。

もとにする量・・・ (            cm )

比べられる量・・・ (            cm )

割合・・・ (            % )

② 下の図で、□にあてはまる数を書きましょう。



③ 次の□にあてはまる言葉を書きましょう。

割合 =  ÷





## 割合 8

● もとにする量・割合・  
比べられる量を見分ける

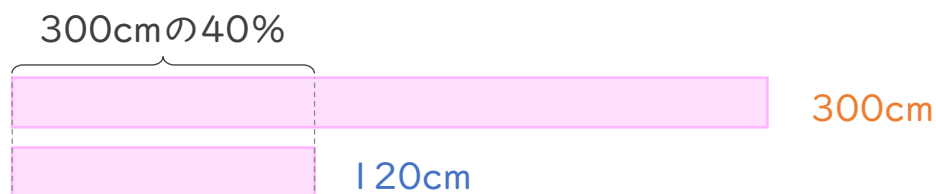


日にち：            月            日

名まえ \_\_\_\_\_

・ 次の文について、問題に答えましょう。（うすい字はなぞりましょう。）

300cm の 40% は、120cm です。



① 上の文で、もとにする量、比べられる量、割合は、それぞれ何ですか。

もとにする量・・・ ( 300cm )

比べられる量・・・ ( 120cm )

割合・・・ ( 40% )

② 下の図で、□にあてはまる数を書きましょう。



③ 次の□にあてはまる言葉を書きましょう。

割合 = 比べられる量 ÷ もとにする量

