

小数の倍3

◎ リボンを小数倍した長さ

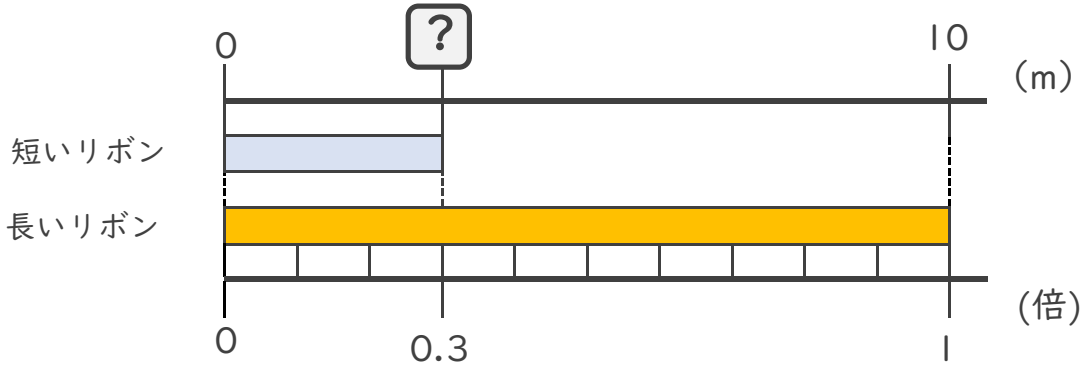


日にち： 月 日

名まえ _____

・ 次の問いに答えましょう。

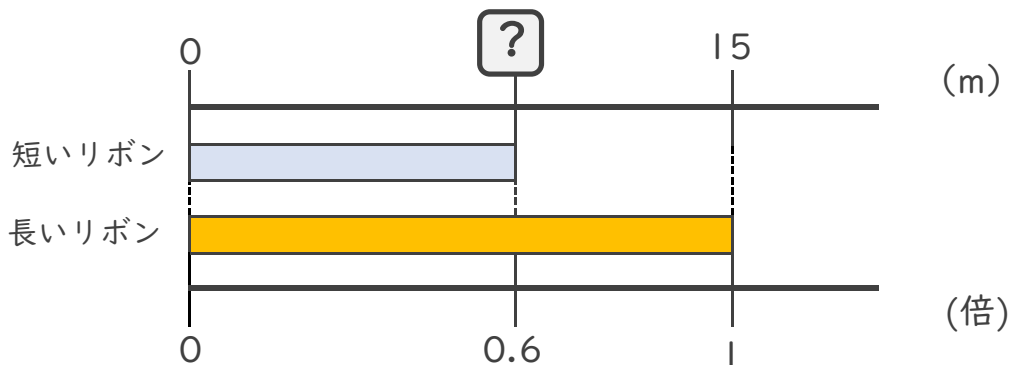
① 短いリボンは長いリボンの0.3倍の長さです。短いリボンの長さをもとめましょう。



式： $10 \times 0.3 =$

答え： _____ m

② 短いリボンは長いリボンの0.6倍の長さです。短いリボンの長さをもとめましょう。



式：

答え： _____





小数の倍3

◎ リボンを小数倍した長さ

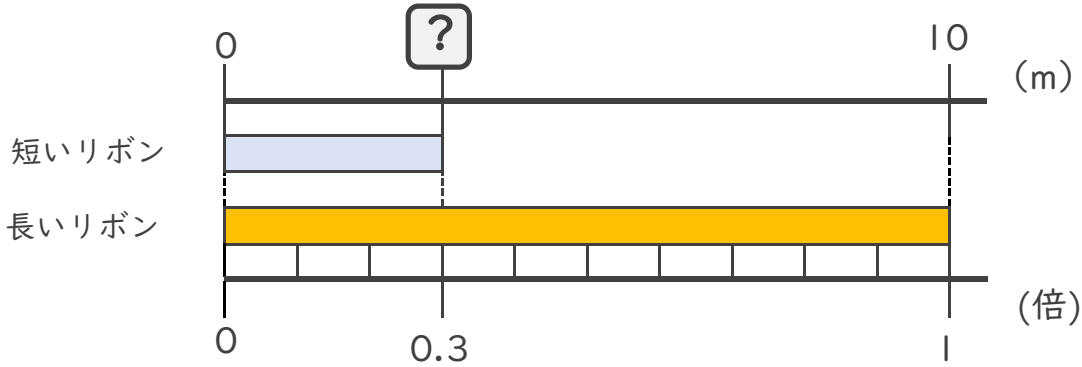


日にち： 月 日

名まえ _____

・ 次の問いに答えましょう。

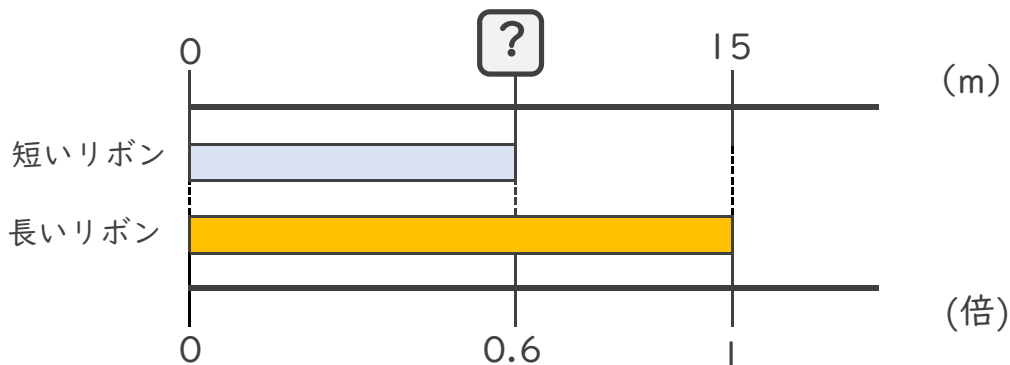
① 短いリボンは長いリボンの0.3倍の長さです。短いリボンの長さをもとめましょう。



式： $10 \times 0.3 = 3$

答え： 3m

② 短いリボンは長いリボンの0.6倍の長さです。短いリボンの長さをもとめましょう。



式： $15 \times 0.6 = 9$

答え： 9m

