



# 小数の倍 4

何倍かを求める文章題

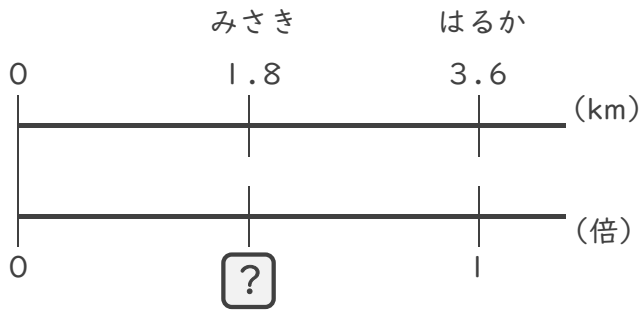


日にち： 月 日

名まえ

・ 次の問いに答えましょう。(うすい字は、なぞりましょう。)

1 はるかさんの家から駅までの道のりは3.6 km、みさきさんの家から駅までの道のりは1.8 kmあります。はるかさんの道のりをもとにすると、みさきさんの道のりは何倍ですか。



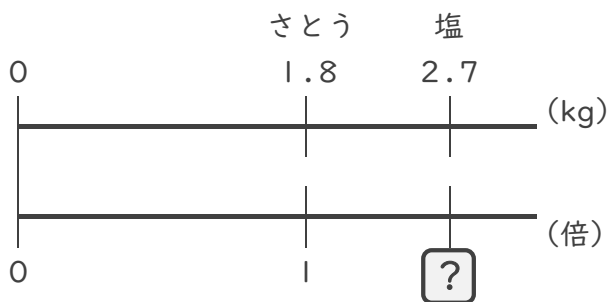
式：  $\times$   =

$\div$   =

=

答え： \_\_\_\_\_ 倍

2 さとうが1.8 kg、塩が2.7 kgあります。さとうの重さをもとにすると、塩の重さは何倍ですか。



式：  $\times$   =

$\div$   =

=

答え： \_\_\_\_\_



# 小数の倍4

何倍かを求める文章題

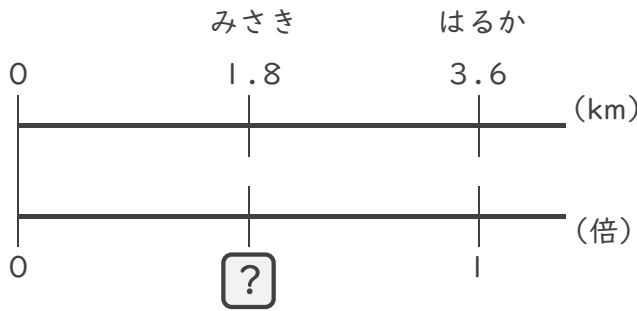


日にち：            月            日

名まえ \_\_\_\_\_

・ 次の問いに答えましょう。(うすい字は、なぞりましょう。)

1 はるかさんの家から駅までの道のりは3.6 km、みさきさんの家から駅までの道のりは1.8 kmあります。はるかさんの道のりをもとにすると、みさきさんの道のりは何倍ですか。



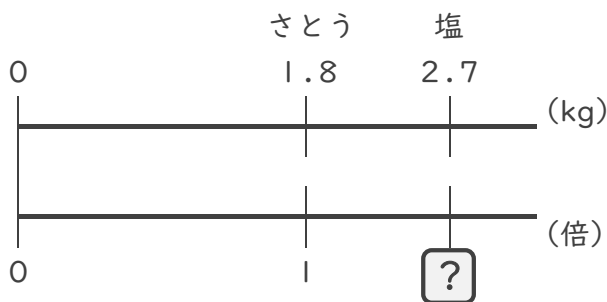
式：  $3.6 \times \square = 1.8$

$\square = 1.8 \div 3.6$

$\square = 0.5$

答え： 0.5 倍

2 さとうが1.8 kg、塩が2.7 kgあります。さとうの重さをもとにすると、塩の重さは何倍ですか。



式：  $1.8 \times \square = 2.7$

$\square = 2.7 \div 1.8$

$\square = 1.5$

答え： 1.5 倍