



偶数と奇数  
倍数と約数 3

● 公倍数と最小公倍数  
(数直線あり)



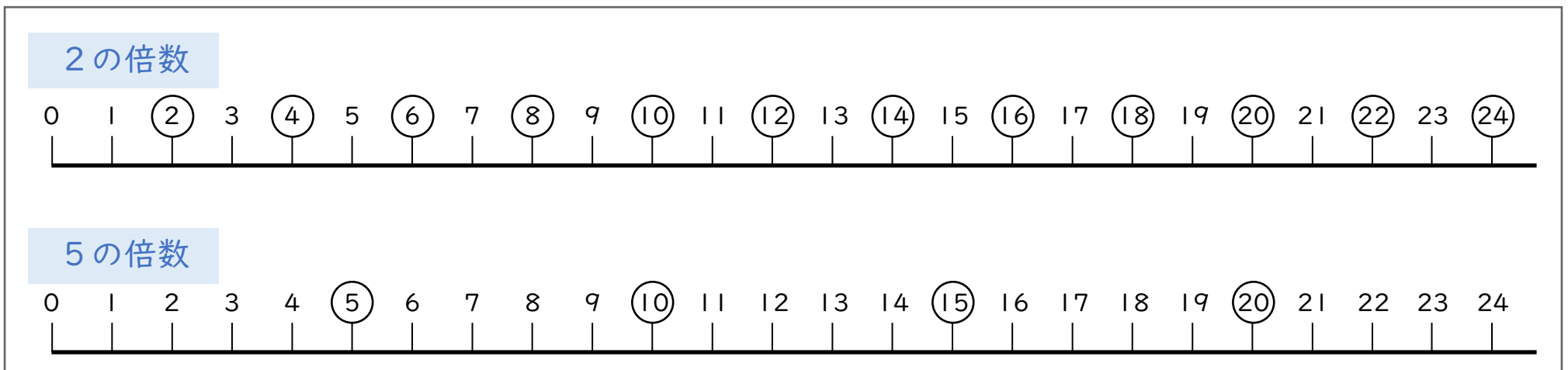
日にち：        月        日

名まえ \_\_\_\_\_

1 次の  にあてはまる言葉をかきましょう。

- ・ 2と3の共通な倍数を、2と3の  といいます。
- ・ 公倍数のうちいちばん小さい数を、  といいます。

2 図を見て次の問いに答えましょう。



- ① 2と5の公倍数を小さいほうから2つ書きましょう。      答え (                      ,                      )
- ② 2と5の最小公倍数を書きましょう。                      答え (                      )



## 偶数と奇数 倍数と約数 3

● 公倍数と最小公倍数  
(数直線あり)

3

日にち： 月 日

名まえ \_\_\_\_\_

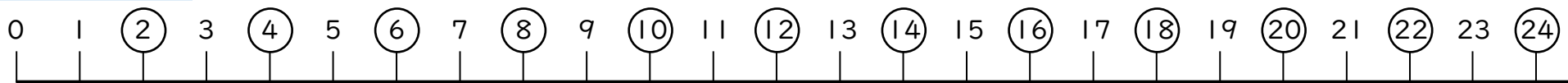
1 次の  にあてはまる言葉をかきましょう。

・ 2と3の共通な倍数を、2と3の こうばいすう **公倍数** といいます。

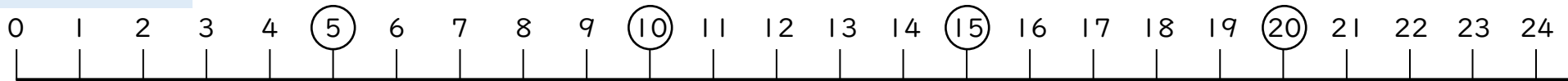
・ 公倍数のうちいちばん小さい数を、さいしょうこうばいすう **最小公倍数** といいます。

2 図を見て次の問いに答えましょう。

2の倍数



5の倍数



① 2と5の公倍数を小さいほうから2つ書きましょう。 答え ( 10 , 20 )

② 2と5の最小公倍数を書きましょう。 答え ( 10 )

