



# 角柱と円柱 5

3

● 円柱とは

日にち：        月        日

名まえ \_\_\_\_\_

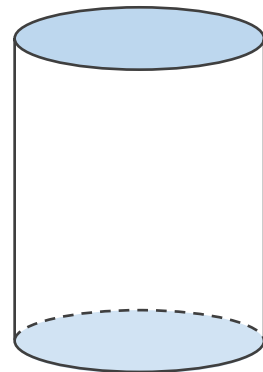
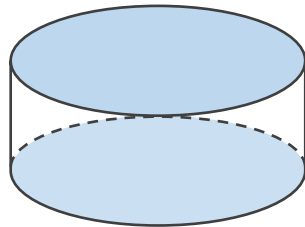
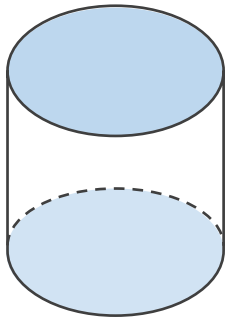
1 下の図について、次の□にあてはまる言葉を書きましょう。

① 下の図のような立体を □ といいいます。

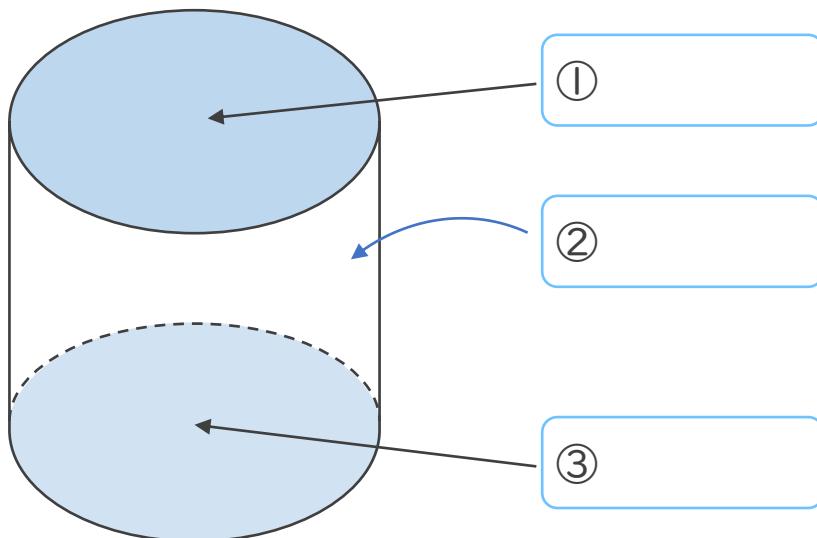
② 形も大きさも同じで、平行な2つの面を □ といいいます。

③ 周りの面を □ といいいます。

④ 円柱の側面は、平面ではなく □ になっています。



2 □ に名前を書きましょう。





# 角柱と円柱 5

# 3

● 円柱とは

日にち：            月            日

名まえ \_\_\_\_\_

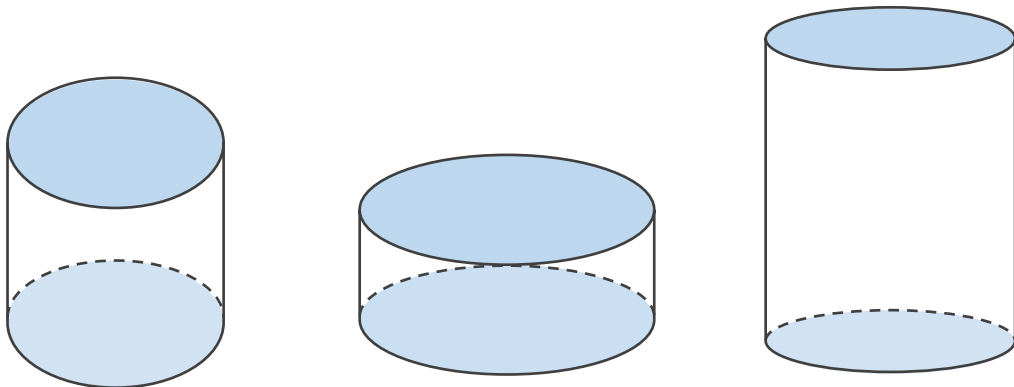
1 下の図について、次の□にあてはまる言葉を書きましょう。

① 下の図のような立体を えん ちゆう  
円柱 といいます。

② 形も大きさも同じで、平行な2つの面を ていめん  
底面 といいます。

③ 周りの面を そくめん  
側面 といいます。

④ 円柱の側面は、平面ではなく きょくめん  
曲面 になっています。



2 □に名前を書きましょう。

