



分数と小数
整数の関係 3

● 分数の倍

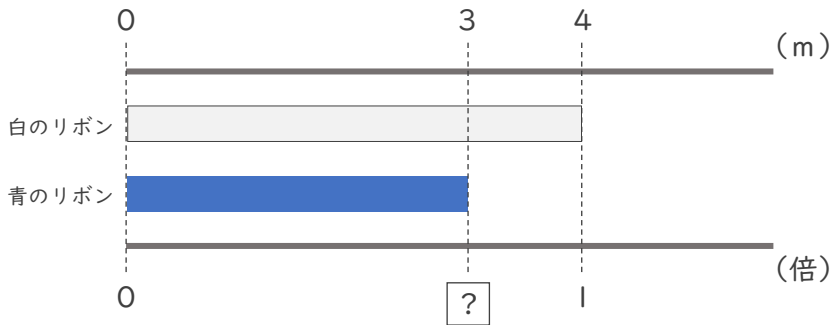


日にち： 月 日

名まえ _____

・次の問いに分数で答えましょう。（うすい字はなぞりましょう。）


① 青のリボンは白のリボンの何倍ですか。



青のリボン 白のリボン

÷ で $\frac{\text{□}}{\text{□}}$ 倍

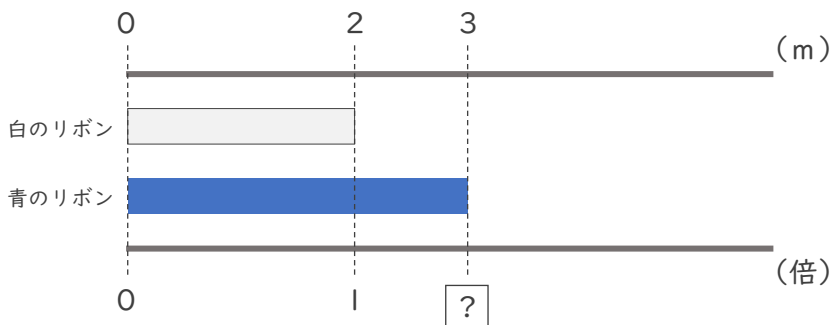
② 赤のリボンは白のリボンの何倍ですか。



赤のリボン 白のリボン

÷ で $\frac{\text{□}}{\text{□}}$ 倍

③ 青のリボンは白のリボンの何倍ですか。



青のリボン 白のリボン

÷ で $\frac{\text{□}}{\text{□}}$ 倍





分数と小数
整数の関係 3

● 分数の倍

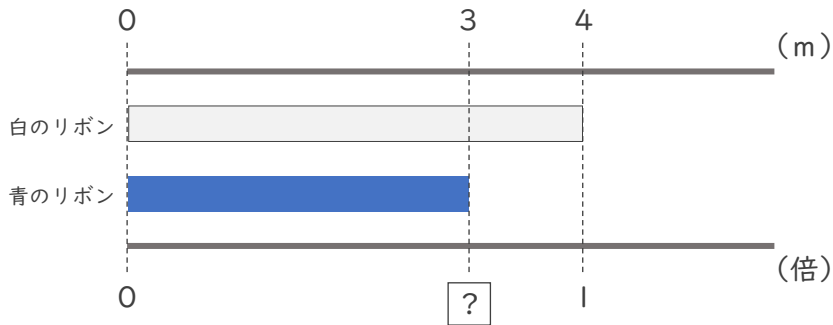


日にち： 月 日

名まえ _____


・次の問いに分数で答えましょう。(うすい字はなぞりましょう。)

① 青のリボンは白のリボンの何倍ですか。



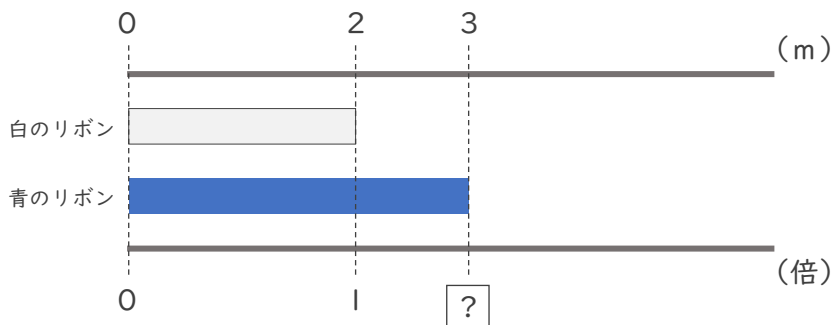
青のリボン ÷ 白のリボン で $\frac{3}{4}$ 倍

② 赤のリボンは白のリボンの何倍ですか。



赤のリボン ÷ 白のリボン で $\frac{1}{4}$ 倍

③ 青のリボンは白のリボンの何倍ですか。



青のリボン ÷ 白のリボン で $\frac{3}{2}$ 倍

