



単位量あたりの
大きさ 4

● 単位量から
比べられる量を求める

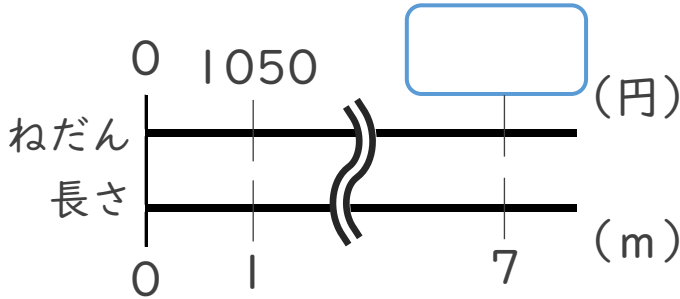


日にち： 月 日

名まえ _____

・ 次の問いに答えなさい。(うすい字はなぞりましょう。)

1 1 mあたりのねだんが1050円の布の7 mのねだんはいくらでしょう。

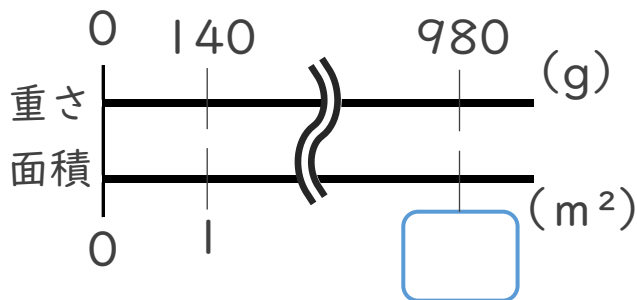


式： $1050 \times 7 =$

筆算

答え： _____

2 庭園に、1 m²あたり140 gの肥料をまきます。肥料は980 g 必要です。
庭園の面積を求めましょう。



式：

筆算

答え： _____



単位量あたりの
大きさ 4

● 単位量から
比べられる量を求める

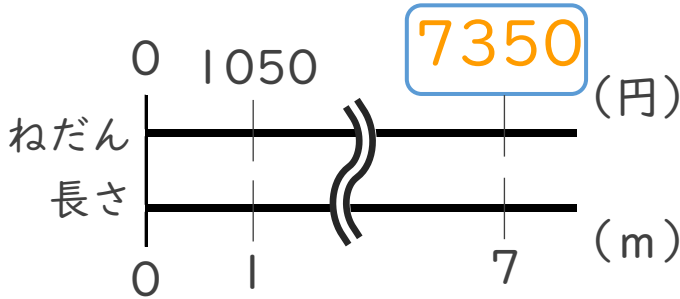


日にち： 月 日

名まえ _____

・ 次の問いに答えなさい。(うすい字はなぞりましょう。)

1 1 mあたりのねだんが1050円の布の7 mのねだんはいくらでしょう。

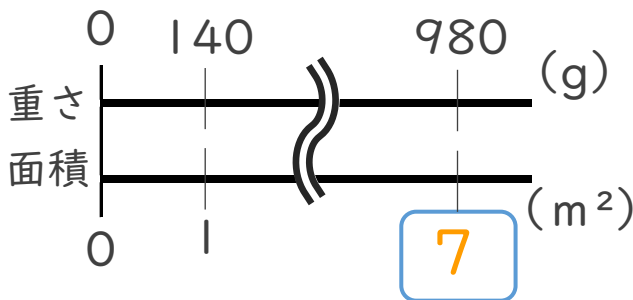


式： $1050 \times 7 = 7350$

筆算

答え：7350 円

2 庭園に、1 m²あたり140 gの肥料をまきます。肥料は980 g 必要です。
庭園の面積を求めましょう。



式： $980 \div 140 = 7$

筆算

答え：7 m²

