



合同な図形 5

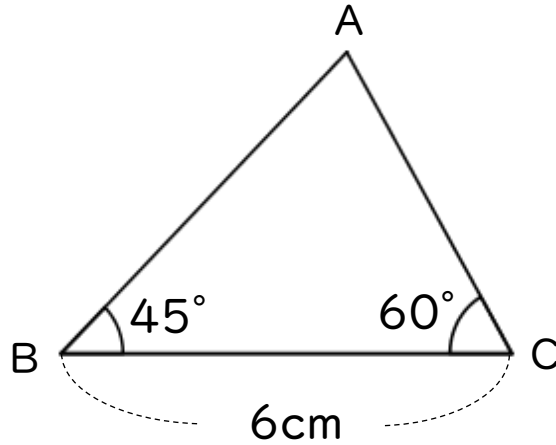
● 合同な三角形の作図
(1組の辺とその両端の角)



日にち： 月 日

名まえ _____

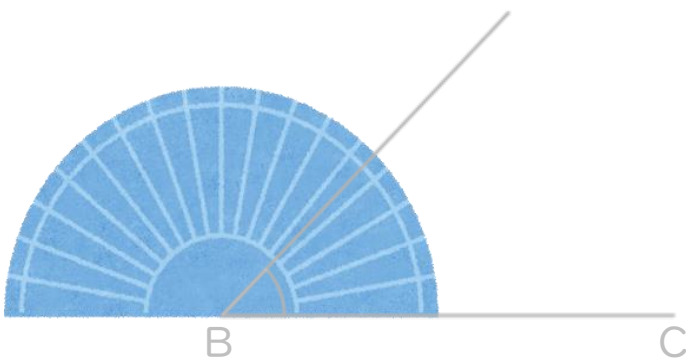
・ 次の三角形ABCと合同な三角形をかきなさい。(うすい字はなぞろう)



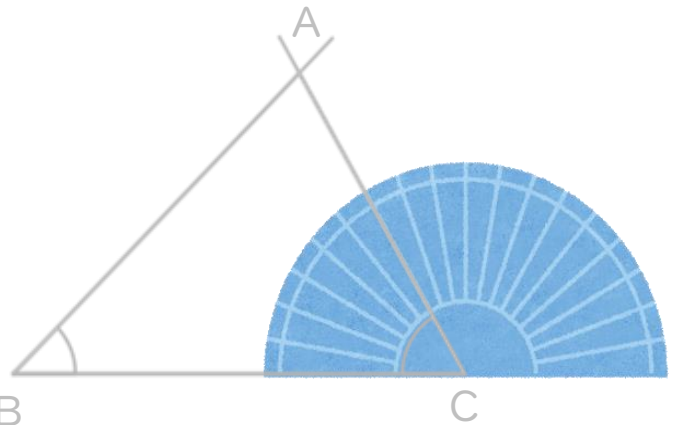
① 6cmの辺を引く。



② 分度器を使って45°はかる。



③ 分度器を使って60°はかる。





合同な図形 5

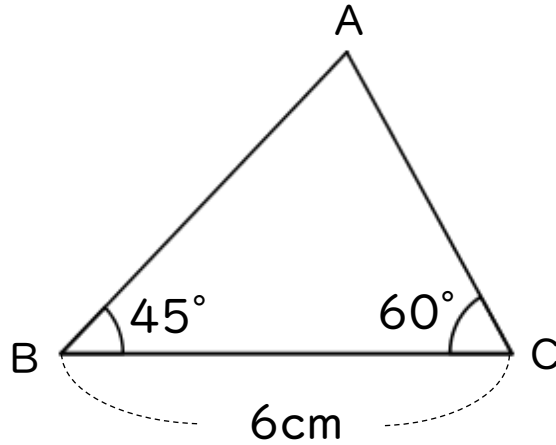
● 合同な三角形の作図
(1組の辺とその両端の角)



日にち： 月 日

名まえ _____

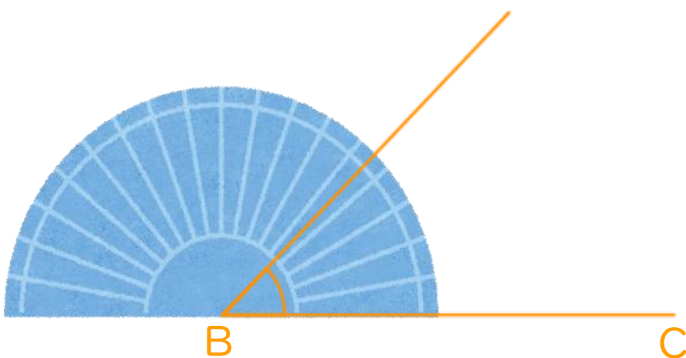
・ 次の三角形ABCと合同な三角形をかきなさい。(うすい字はなぞろう)



① 6cmの辺を引く。



② 分度器を使って45°はかる。



③ 分度器を使って60°はかる。

