



## 合同な図形 4

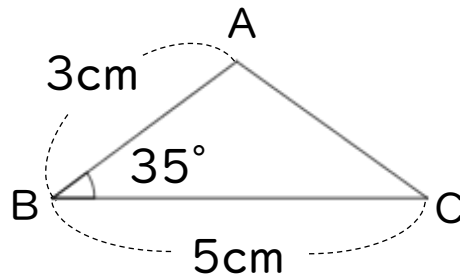
● 合同な三角形の作図  
(2組の辺とその挟む角)



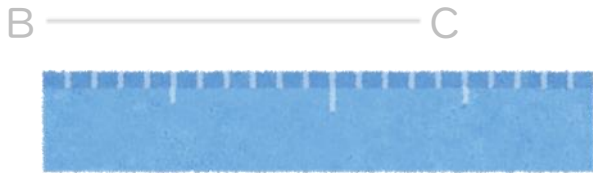
日にち：            月            日

名まえ \_\_\_\_\_

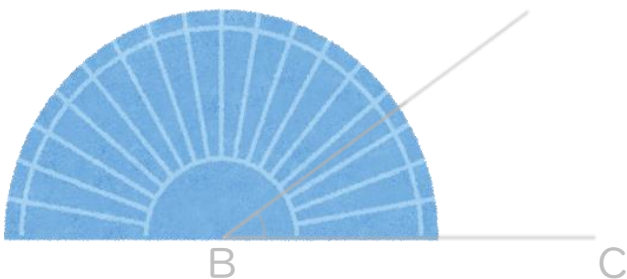
・ 次の三角形ABCと合同な三角形をかきなさい。(うすい字はなぞろう)



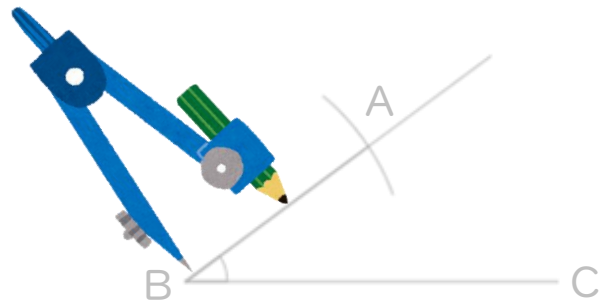
① 5cmの辺を引く。



② 分度器を使って35°はかる。



③ コンパスで3cmはかる。



④ AとCを結ぶ。



## 合同な図形 4

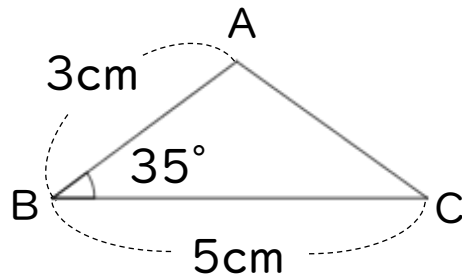
● 合同な三角形の作図  
(2組の辺とその挟む角)



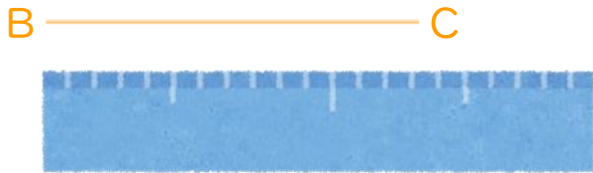
日にち：            月            日

名まえ \_\_\_\_\_

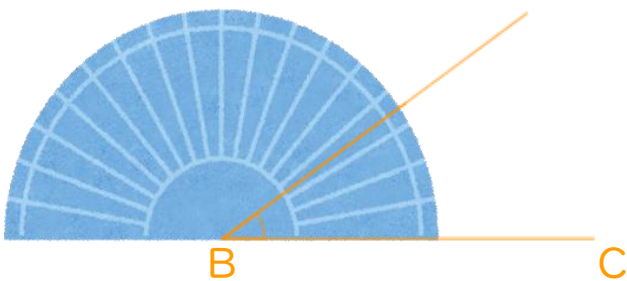
・ 次の三角形ABCと合同な三角形をかきなさい。(うすい字はなぞろう)



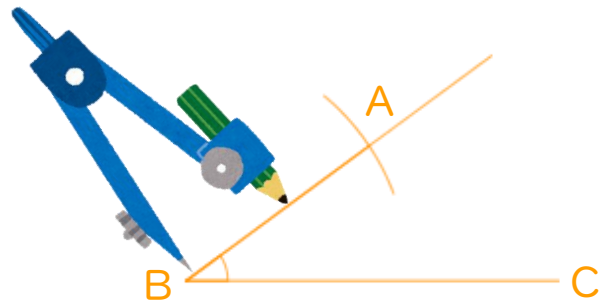
① 5cmの辺を引く。



② 分度器を使って35°はかる。



③ コンパスで3cmはかる。



④ AとCを結ぶ。

