



合同な図形2

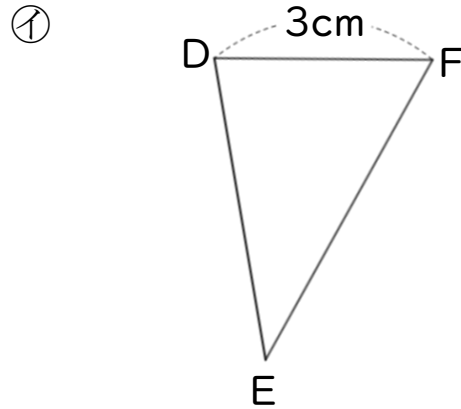
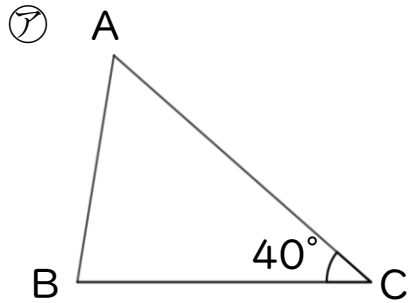
◎ 対応する辺や角探し

3

日にち： 月 日

名まえ _____

・ ㊦と㊧の三角形は合同です。



① 辺BCに対応する辺はどれですか。

答え： _____

② 角Aに対応する角はどれですか。

答え： _____

③ 角Bと大きさの等しい角はどれですか。

答え： _____

④ 辺ABの長さは何cmですか。

答え： _____

⑤ 角Eの大きさは何度ですか。

答え： _____





合同な図形2

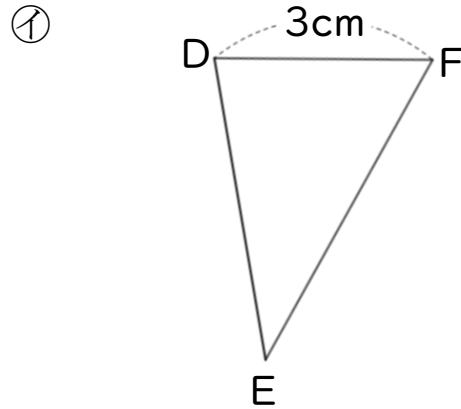
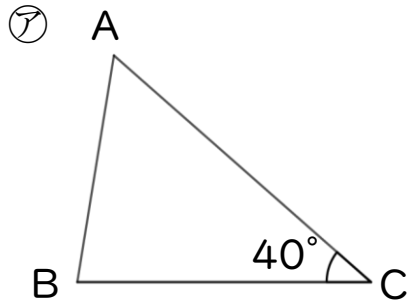
◎ 対応する辺や角探し



日にち： 月 日

名まえ _____

・ ㊦と㊧の三角形は合同です。



① 辺BCに対応する辺はどれですか。

答え： 辺DE

② 角Aに対応する角はどれですか。

答え： 角F

③ 角Bと大きさの等しい角はどれですか。

答え： 角D

④ 辺ABの長さは何cmですか。

答え： 3cm

⑤ 角Eの大きさは何度ですか。

答え： 40°

