



小数のわり算21

◎ 帯小数÷真小数の文章題



日にち： 月 日

名まえ _____

・ 次の問いに答えましょう。(うすい字は、なぞりましょう。)

1 6.3mの重さが、0.9kgのホースがあります。このホースの1kgあたりの長さは何mになるでしょうか。



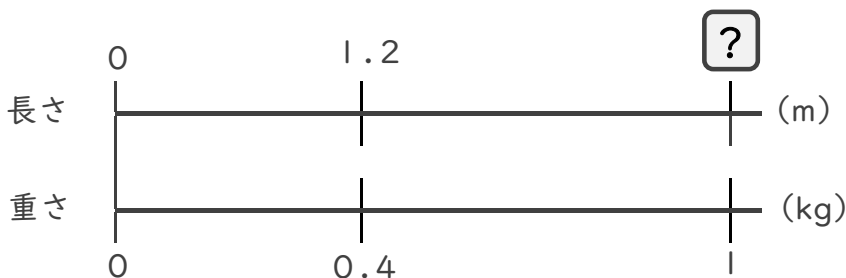
$$\square \times 0.9 = 6.3$$

$$\square = 6.3 \div 0.9$$

$$\square =$$

答え： _____ m

2 1.2mの重さが、0.4kgの金属があります。この金属の1kgあたりの長さは何mになるでしょうか。



$$\square \times \quad =$$

$$\square =$$

$$\square =$$

答え： _____



小数のわり算21

◎ 帯小数÷真小数の文章題




日にち： 月 日

名まえ

・ 次の問いに答えましょう。(うすい字は、なぞりましょう。)

1 6.3mの重さが、0.9kgのホースがあります。このホースの1kgあたりの長さは何mになるでしょうか。



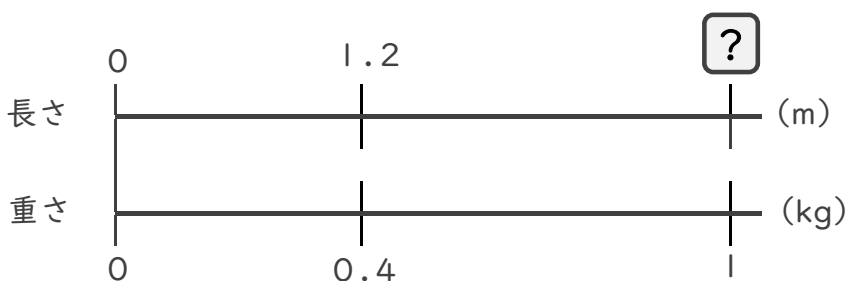
$$\square \times 0.9 = 6.3$$

$$\square = 6.3 \div 0.9$$

$$\square = 7$$

答え： 7 m

2 1.2mの重さが、0.4kgの金属があります。この金属の1kgあたりの長さは何mになるでしょうか。



$$\square \times 0.4 = 1.2$$

$$\square = 1.2 \div 0.4$$

$$\square = 3$$

答え： 3 m