



分数のたし算とひき算 I

◎ 数直線と大きさの等しい分数

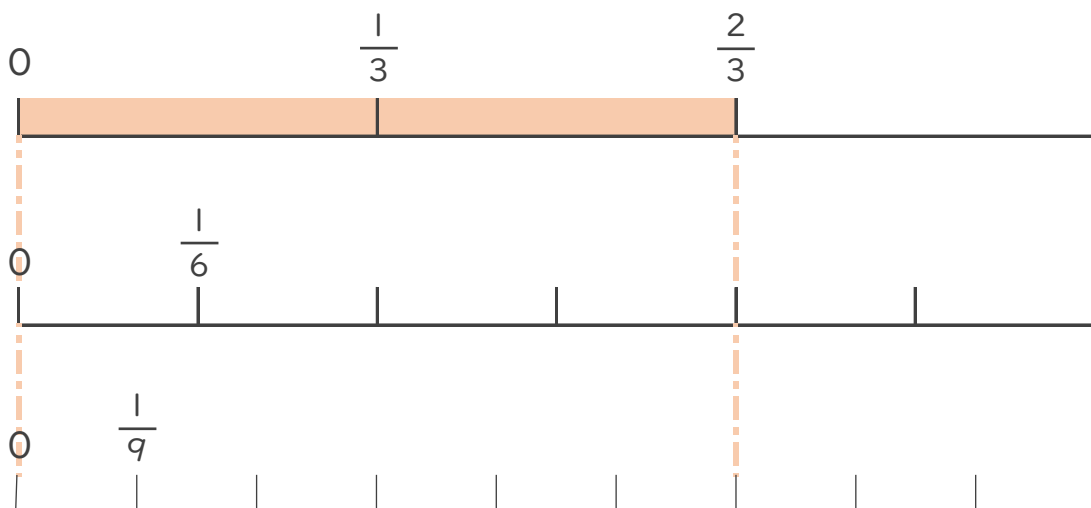


日にち： 月 日

名まえ _____

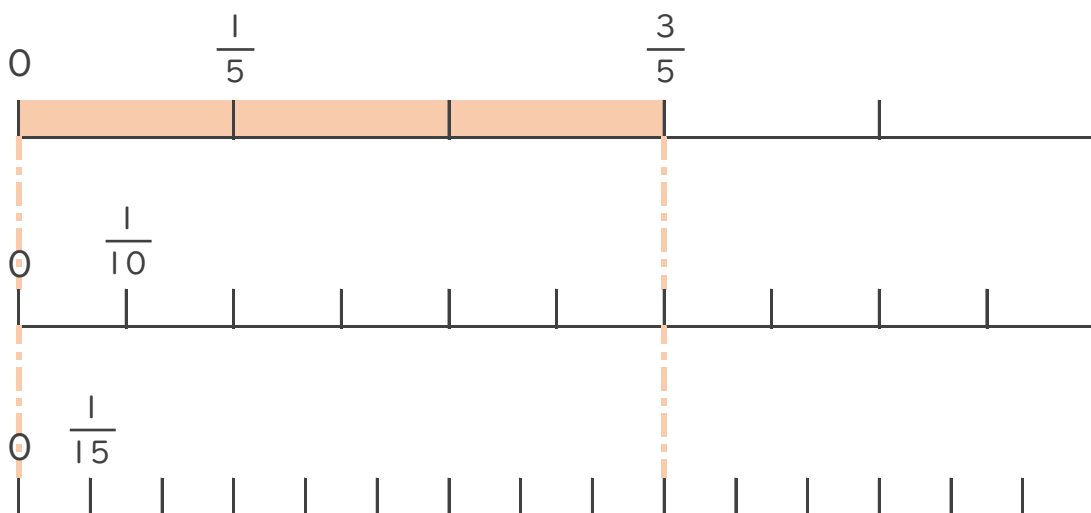
1 $\frac{2}{3}$ と大きさの等しい分数を2つ見つけましょう。

(うすい字は、なぞりましょう。)



答え $\frac{4}{6}$ と $\frac{6}{9}$

2 $\frac{3}{5}$ と大きさの等しい分数を2つ見つけましょう。



答え



分数のたし算とひき算 I

◎ 数直線と大きさの等しい分数

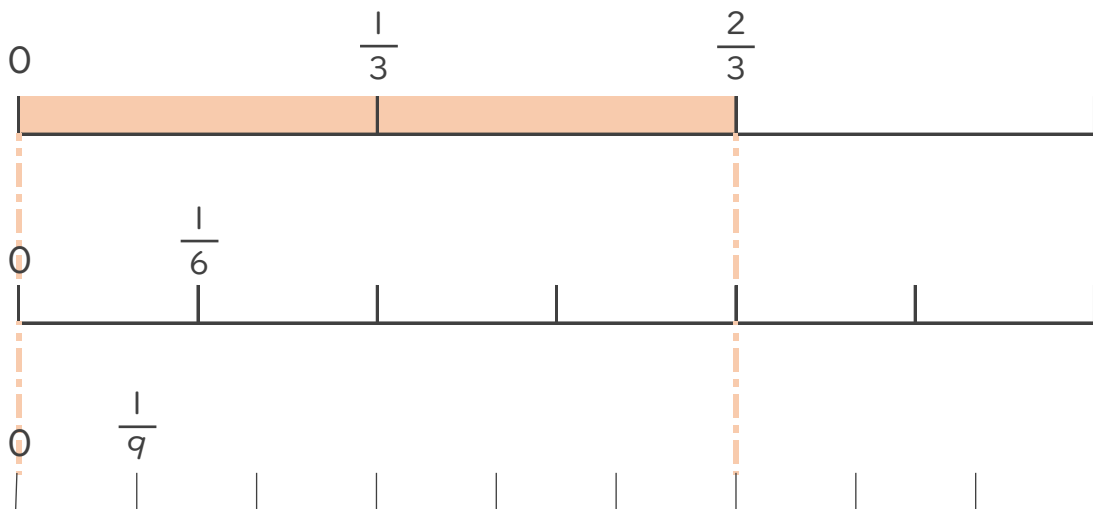


日にち： 月 日

名まえ _____

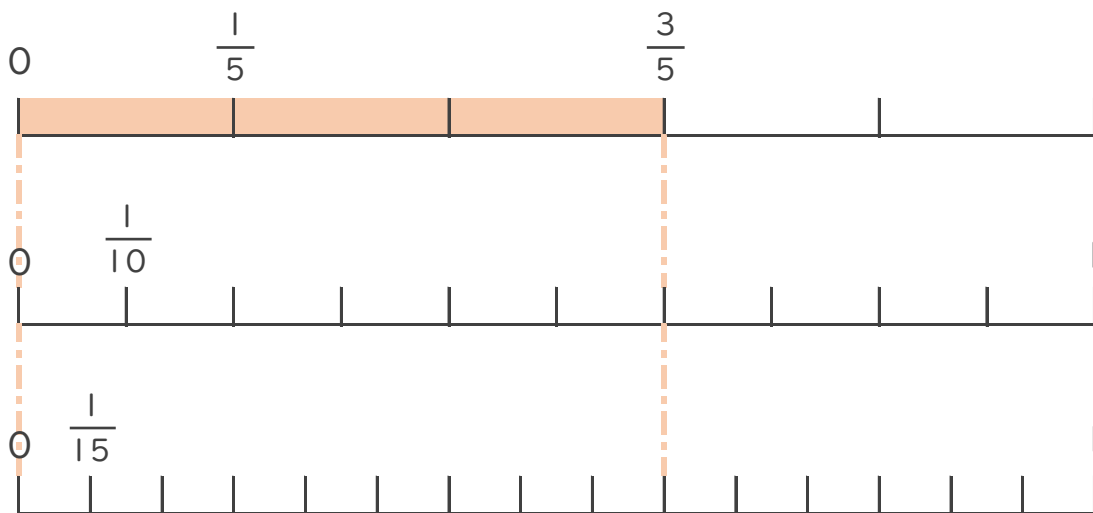
1 $\frac{2}{3}$ と大きさの等しい分数を2つ見つけましょう。

(うすい字は、なぞりましょう。)



答え $\frac{4}{6}$ と $\frac{6}{9}$

2 $\frac{3}{5}$ と大きさの等しい分数を2つ見つけましょう。



答え $\frac{6}{10}$ と $\frac{9}{15}$