





# 直方体や立方体の体積 3

直方体の体積を求める公式

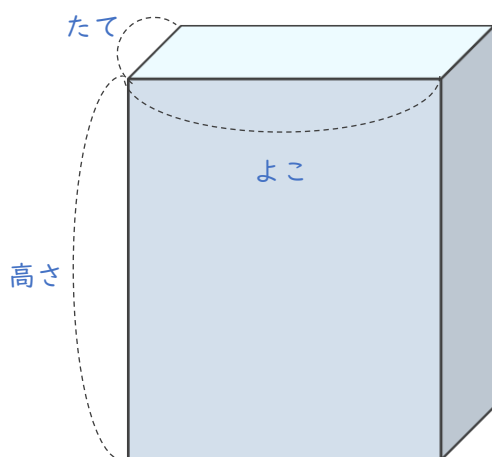


日にち：        月        日

名まえ \_\_\_\_\_

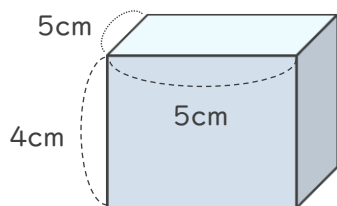
次の式は、直方体の体積を求める公式です。□にあてはまる言葉を書きましょう。

直方体の体積 = たて × 横 × 高さ

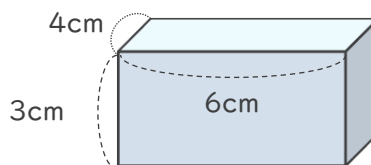


2 直方体の体積を求めましょう。

①



②



式：  $5 \times 5 \times 4 = 100$

式：  $4 \times 6 \times 3 = 72$

答え (  $100\text{cm}^3$  )

答え (  $72\text{cm}^3$  )

