



直方体や 立方体の体積 3

◎ 直方体の体積を求める公式



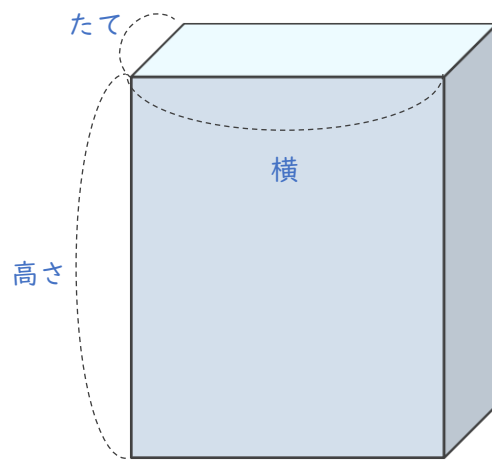
日にち： 月 日

名まえ _____

1 次の式は、直方体の体積を求める公式です。

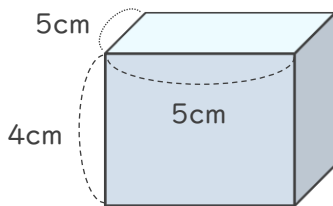
にあてはまる言葉を書きましょう。

直方体の体積 = × ×

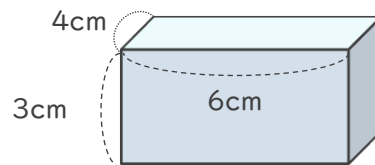


2 直方体の体積を求めましょう。

①



②




式：

式：

答え（ ）

答え（ ）



直方体や 立方体の体積 3

◎ 直方体の体積を求める公式



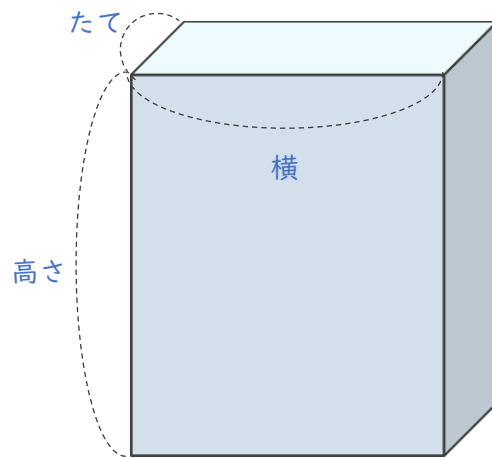
日にち： 月 日

名まえ _____

1 次の式は、直方体の体積を求める公式です。

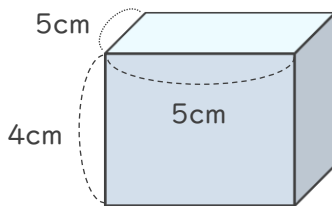
にあてはまる言葉を書きましょう。

$$\text{直方体の体積} = \boxed{\text{たて}} \times \boxed{\text{横}} \times \boxed{\text{高さ}}$$

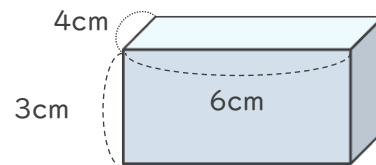


2 直方体の体積を求めましょう。

①



②



式： $5 \times 5 \times 4 = 100$

式： $4 \times 6 \times 3 = 72$

答え (100cm^3)

答え (72cm^3)

