



小数のわり算20

◎ 真小数÷帯小数の文章題

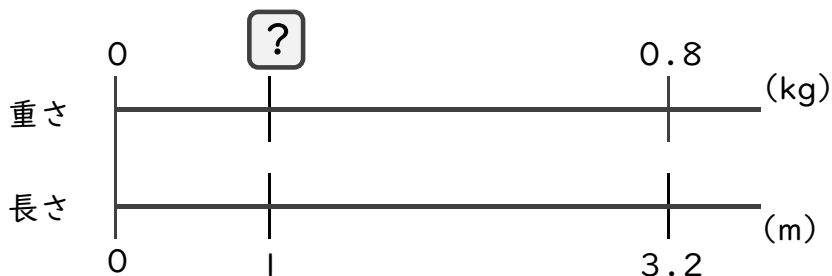


日にち： 月 日

名まえ _____

・次の問いに答えましょう。(うすい字はしっかりなぞりましょう)

1 3.2mの重さが、0.8kgのホースがあります。このホースの1mあたりの重さは何kgになるでしょうか。



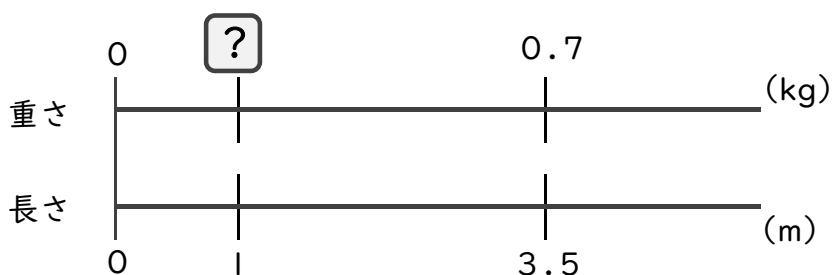
式： × 3.2 = 0.8

= 0.8 ÷ 3.2

=

答え： _____ kg

2 3.5mの重さが、0.7kgのホースがあります。このホースの1mあたりの重さは何kgになるでしょうか。



式： × _____ =

=

=

答え： _____



小数のわり算20

◎ 真小数÷帯小数の文章題

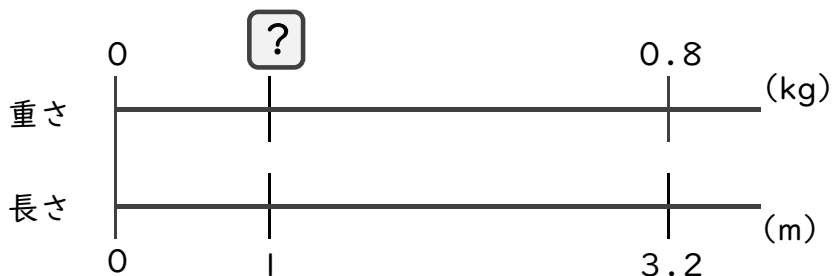


日にち： 月 日

名まえ _____

・次の問いに答えましょう。(うすい字はしっかりなぞりましょう)

1 3.2mの重さが、0.8kgのホースがあります。このホースの1mあたりの重さは何kgになるでしょうか。

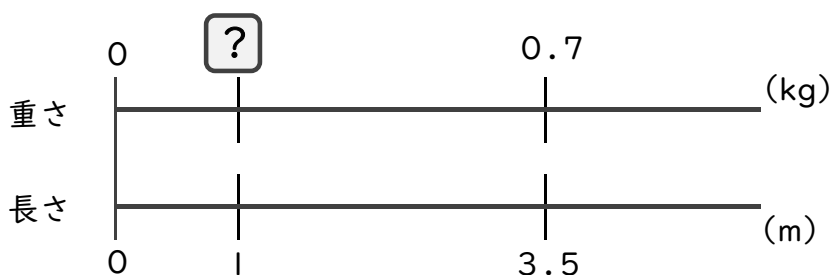


式： × 3.2 = 0.8

= 0.8 ÷ 3.2

= 0.25 答え：0.25 kg

2 3.5mの重さが、0.7kgのホースがあります。このホースの1mあたりの重さは何kgになるでしょうか。



式： × 3.5 = 0.7

= 0.7 ÷ 3.5

= 0.2 答え：0.2 kg