



# 小数のわり算20

◎ 真小数÷帯小数の文章題

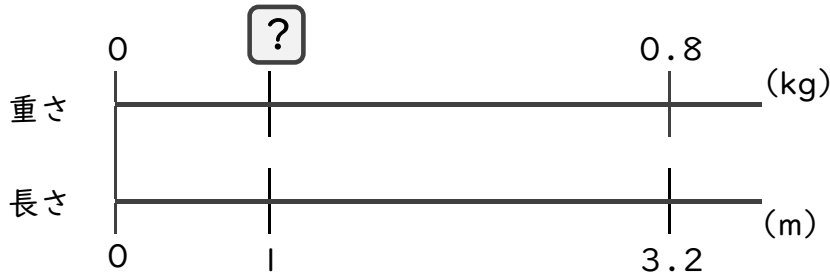


日にち：        月        日

名まえ \_\_\_\_\_

・ 次の問いに答えましょう。(うすい字は、なぞりましょう。)

1 3.2mの重さが、0.8kgのホースがあります。このホースの1mあたりの重さは何kgになるでしょうか。



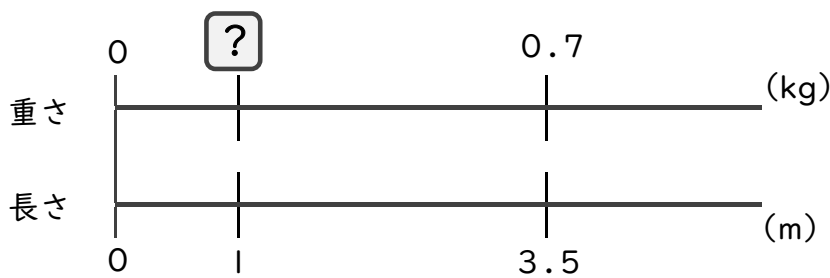
式： × 3.2 = 0.8

= 0.8 ÷ 3.2

=

答え： \_\_\_\_\_ kg

2 3.5mの重さが、0.7kgのホースがあります。このホースの1mあたりの重さは何kgになるでしょうか。



式： ×        =

=

=

答え： \_\_\_\_\_



# 小数のわり算20

◎ 真小数÷帯小数の文章題

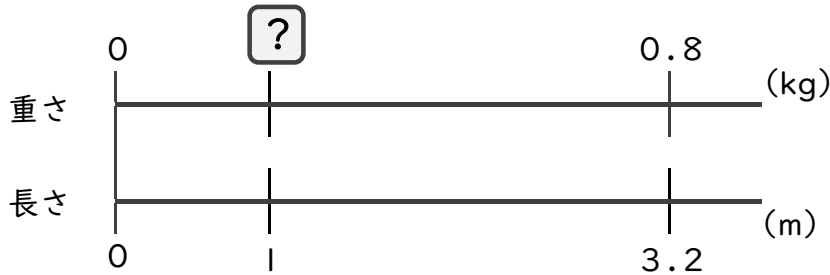


日にち：            月            日

名まえ \_\_\_\_\_

・ 次の問いに答えましょう。(うすい字は、なぞりましょう。)

1 3.2mの重さが、0.8kgのホースがあります。このホースの1mあたりの重さは何kgになるでしょうか。

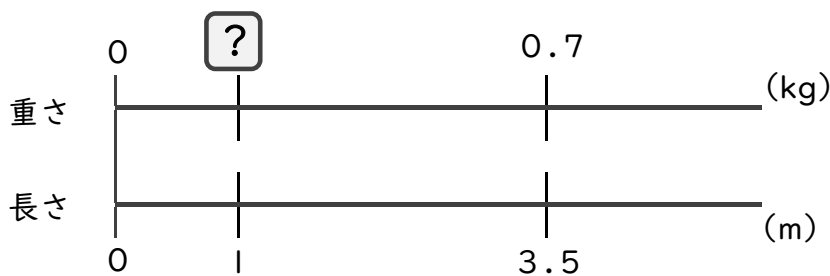


式： × 3.2 = 0.8

= 0.8 ÷ 3.2

= 0.25      答え：0.25 kg

2 3.5mの重さが、0.7kgのホースがあります。このホースの1mあたりの重さは何kgになるでしょうか。



式： × 3.5 = 0.7

= 0.7 ÷ 3.5

= 0.2      答え：0.2 kg