



小数の倍2

◎ 短いリボンは長いリボンの何倍？

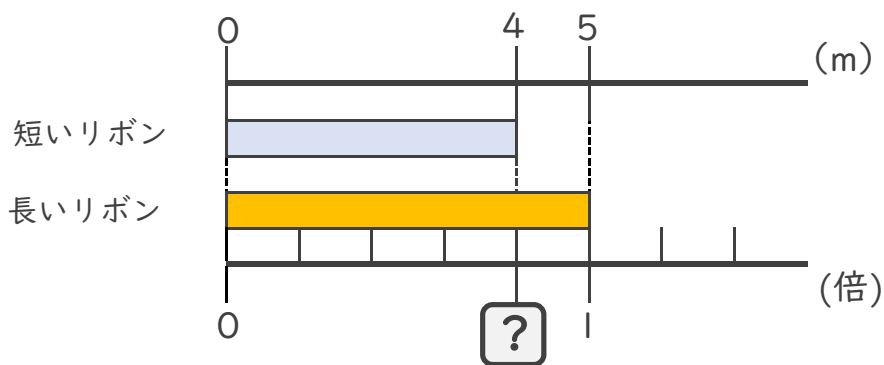


日にち： 月 日

名まえ _____

・ 次の問いに答えましょう。

① 短いリボンは長いリボンの何倍でしょうか？



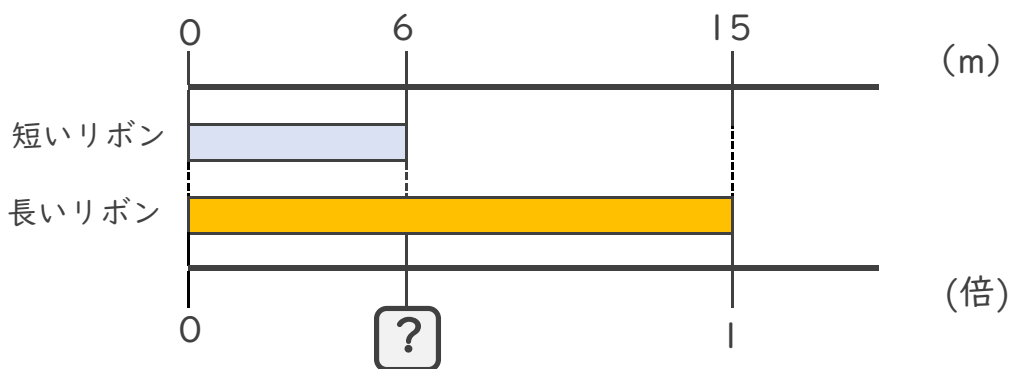
式： $5 \times \square =$

$\square = \div$

$\square =$

答え： _____ 倍

② 短いリボンは長いリボンの何倍でしょうか？



式： $\times \square =$

$\square = \div$

$\square =$

答え： _____





小数の倍2

◎ 短いリボンは長いリボンの何倍？

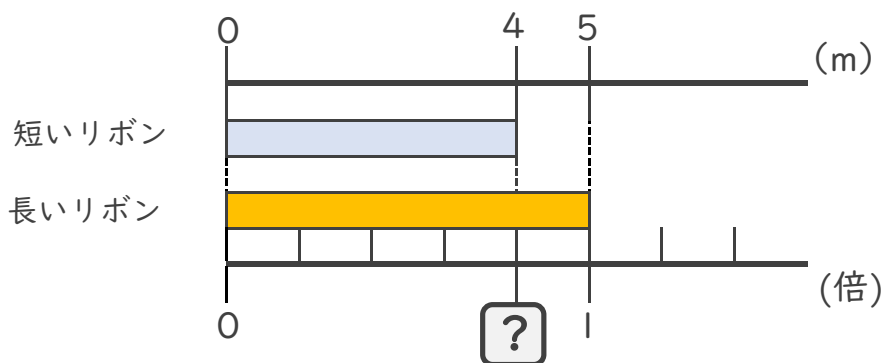


日にち： 月 日

名まえ _____

・ 次の問いに答えましょう。

① 短いリボンは長いリボンの何倍でしょうか？



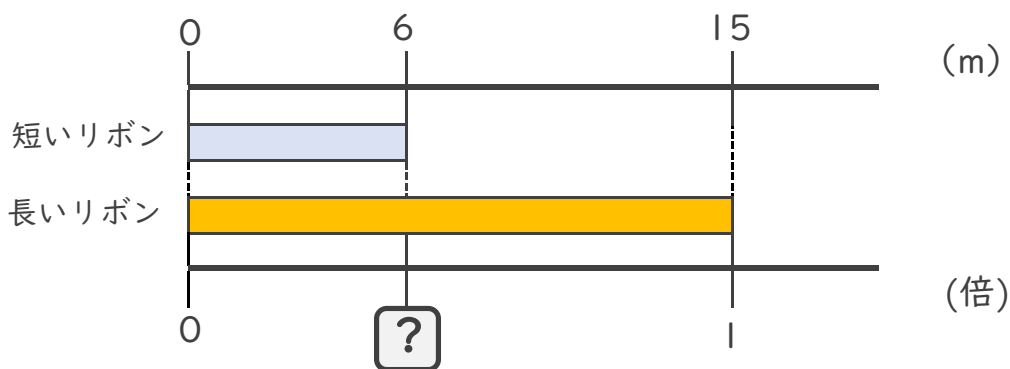
式： $5 \times \square = 4$

$\square = 4 \div 5$

$\square = 0.8$

答え： 0.8倍

② 短いリボンは長いリボンの何倍でしょうか？



式： $15 \times \square = 6$

$\square = 6 \div 15$

$\square = 0.4$

答え： 0.4倍

