



# 小数の倍2

◎ 短いリボンは  
長いリボンの何倍？

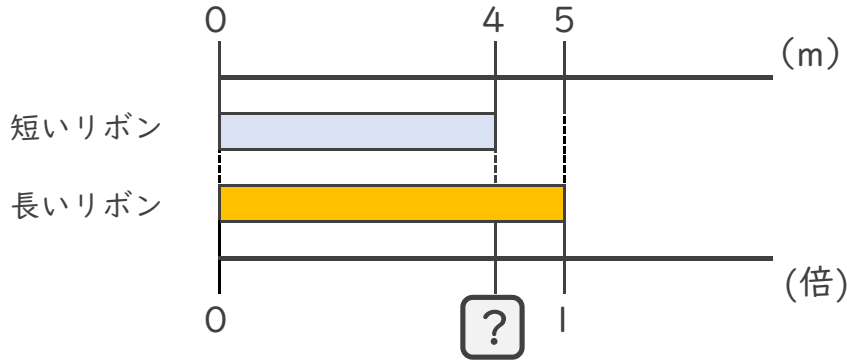


日にち：        月        日

名まえ \_\_\_\_\_

・ 次の問いに答えましょう。(うすい字は、なぞりましょう。)

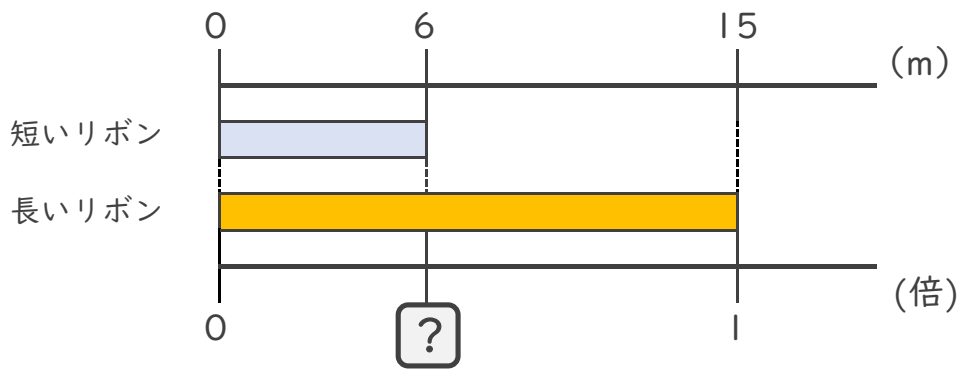
① 短いリボンは長いリボンの何倍ですか。



式：  $5 \times \square =$   
 $\square = \div$   
 $\square =$

答え： \_\_\_\_\_ 倍

② 短いリボンは長いリボンの何倍ですか。



式：  $\times \square =$   
 $\square = \div$   
 $\square =$

答え： \_\_\_\_\_





# 小数の倍2

◎ 短いリボンは  
長いリボンの何倍？

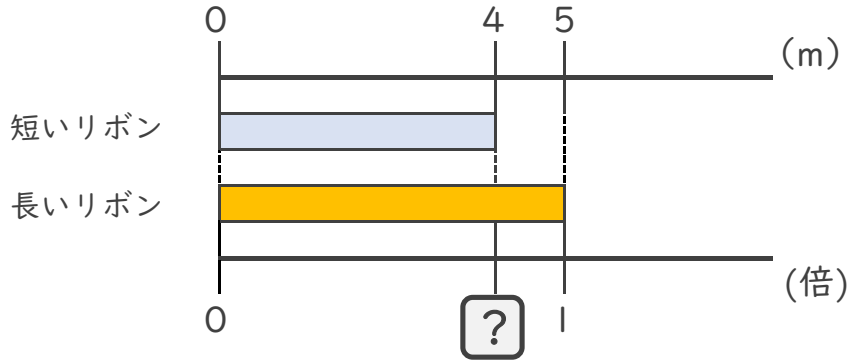


日にち：        月        日

名まえ \_\_\_\_\_

・ 次の問いに答えましょう。(うすい字は、なぞりましょう。)

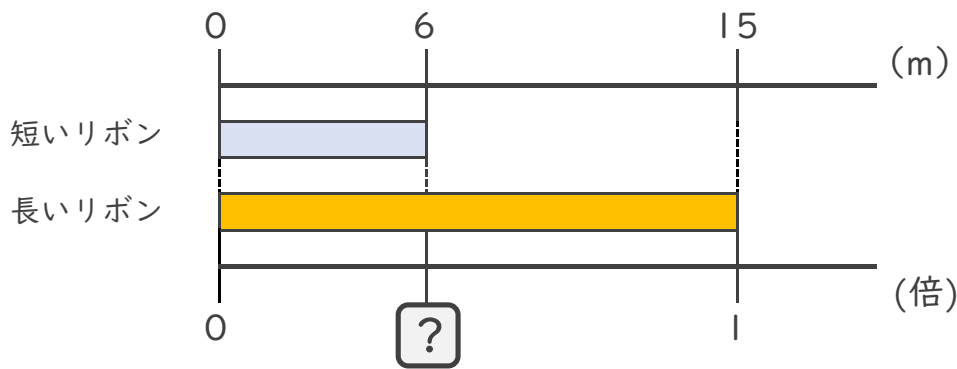
① 短いリボンは長いリボンの何倍ですか。



式：  $5 \times \square = 4$   
 $\square = 4 \div 5$   
 $\square = 0.8$

答え： 0.8倍

② 短いリボンは長いリボンの何倍ですか。



式：  $15 \times \square = 6$   
 $\square = 6 \div 15$   
 $\square = 0.4$

答え： 0.4倍

