



角柱と円柱 ①

◎ 立体を調べる

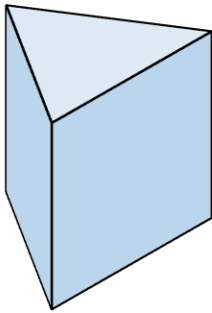


日にち： 月 日


名まえ _____

・ 次の立体を、立体を^{かこ}囲む面に注目して、2つのグループに分けて に
① ~ ⑤ を書きましょう。

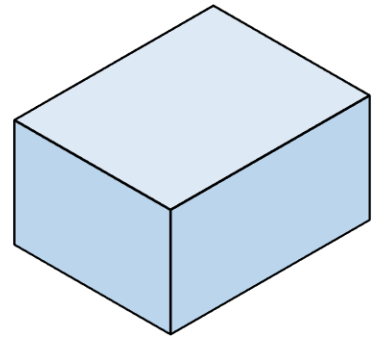
①



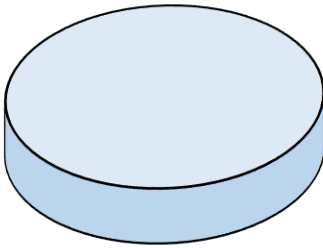
②



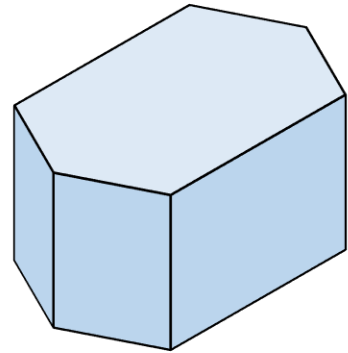
③



④



⑤



1つめのグループ

2つめのグループ





角柱と円柱 ①

◎ 立体を調べる

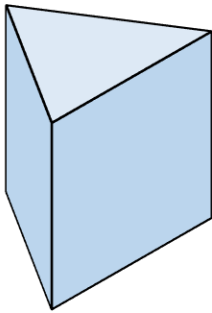


日にち： 月 日


名まえ _____

・ 次の立体を、立体を^{かこ}囲む面に注目して、2つのグループに分けて に
① ~ ⑤ を書きましょう。

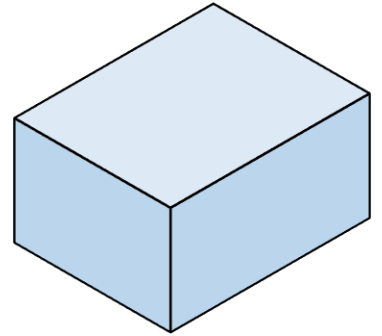
①



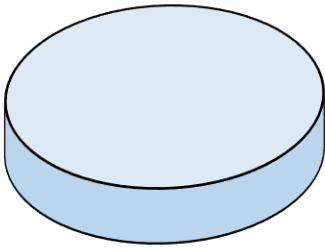
②



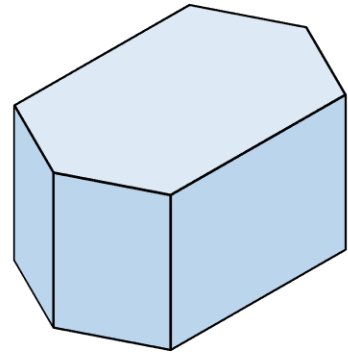
③



④



⑤



1つめのグループ

①、③、⑤

2つめのグループ

②、④

