



割合 3

◎ 色々なもとにする量の割合を求める

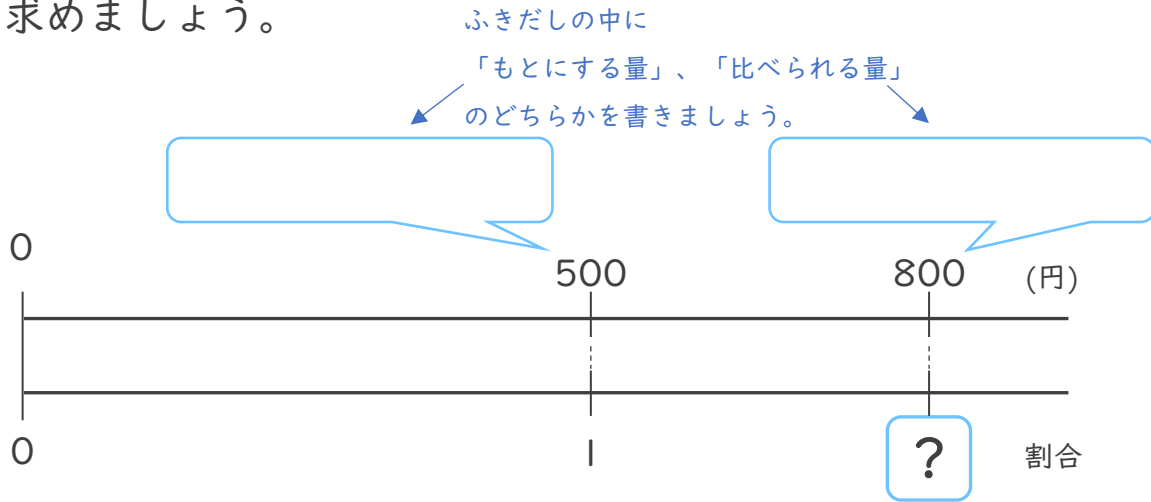


日にち： 月 日

名まえ _____

- ・ あゆみさんは500円、みさきさんは800円持っています。
 次の問いに答えましょう。

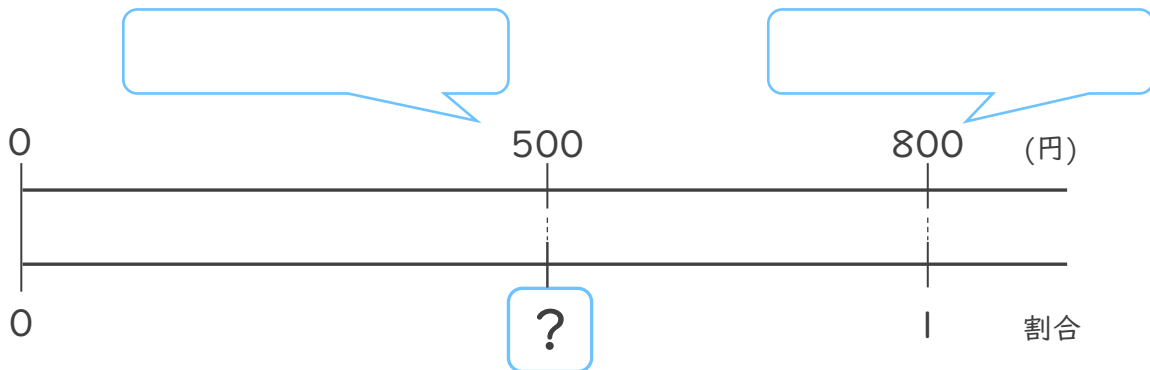
- ① あゆみさんをもとにして、みさきさんの持っているお金の割合を求めましょう。



式：

答え： _____

- ② みさきさんをもとにして、あゆみさんの持っているお金の割合を求めましょう。



式：

答え： _____



割合 3

◎ 色々なものにする量の割合を求める



日にち： 月 日

名まえ _____

・ あゆみさんは500円、みさきさんは800円持っています。

つぎ と こた
次の問いに答えましょう。

① あゆみさんをもとにして、みさきさんの持っているお金の割合を求めましょう。

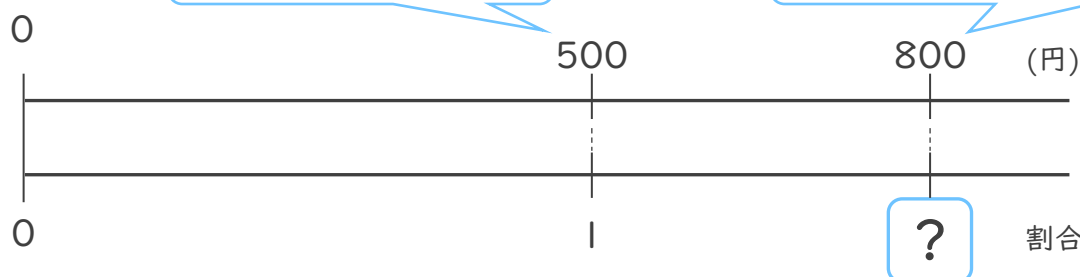
ふきだしの中に

「もとにする量」、「比べられる量」

のどちらかを書きましょう。

もとにする量

比べられる量



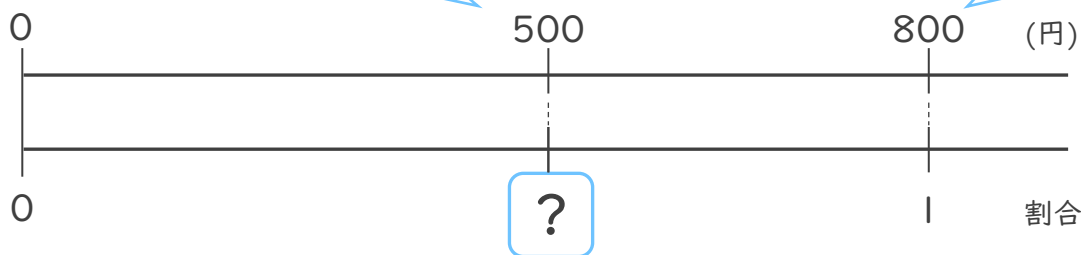
式： $800 \div 500 = 1.6$

答え：1.6

② みさきさんをもとにして、あゆみさんの持っているお金の割合を求めましょう。

比べられる量

もとにする量



式： $500 \div 800 = 0.625$

答え：0.625

