



直方体や 立方体の体積 2

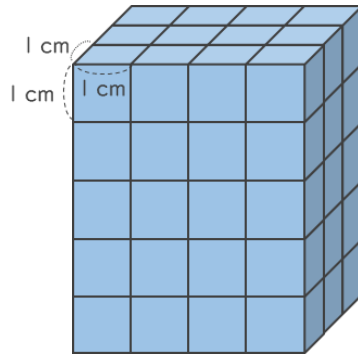
3

◎ 1 cm^3 の立方体の何こ分？

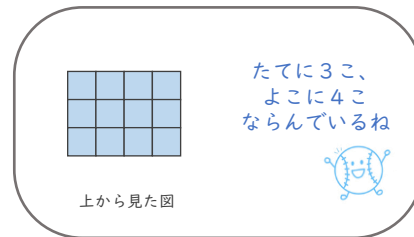
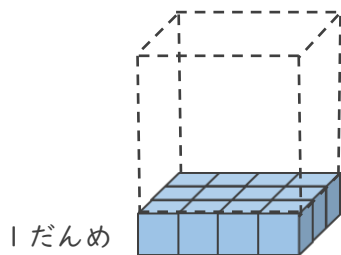
日にち： 月 日

名まえ _____

- ・ 1 辺が 1 cm の立方体を使って、立方体を作りました。次の問いに答えましょう。
(うすい字はなぞりましょう。)



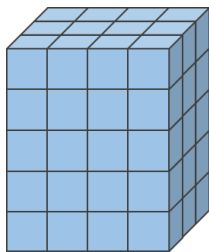
- ① 1 だんめには、 1 cm^3 の立方体が何こありますか。



式： $\overset{\text{たての数}}{3} \times \overset{\text{よこの数}}{4} = 12$

答え (12こ)

- ② 1 cm^3 の立方体は全部で何こありますか。



式： $\overset{\text{たての数}}{3} \times \overset{\text{よこの数}}{4} \times \overset{\text{だんの数}}{5} = 60$

答え (60こ)

- ③ 直方体の体積は何 cm^3 ですか。

答え (60cm^3)

