



# 小数のかけ算 16

◎ 長方形の面積

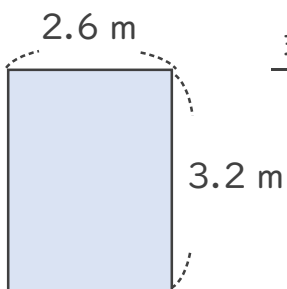


日にち：            月            日

名まえ \_\_\_\_\_

1. 次の長方形の面積は何㎡でしょうか。

①

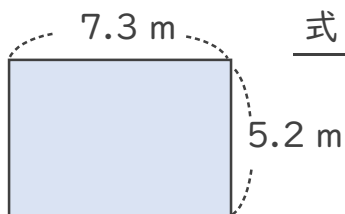


式： \_\_\_\_\_

答え： \_\_\_\_\_

<筆算>


②

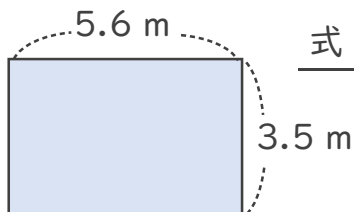


式： \_\_\_\_\_

答え： \_\_\_\_\_

<筆算>


③



式： \_\_\_\_\_

答え： \_\_\_\_\_

<筆算>






# 小数のかけ算 16

◎ 長方形の面積

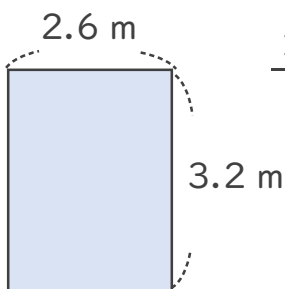


日にち：            月            日

名まえ \_\_\_\_\_

1. 次の長方形の面積は何㎡でしょうか。

①



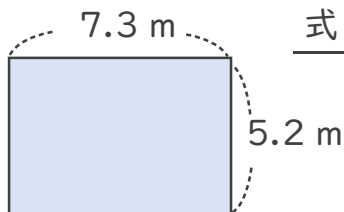
式：  $3.2 \times 2.6 = 8.32$

答え：  $8.32 \text{ m}^2$

<筆算>

		3.2
	×	2.6
		192
		64
		8.32

②



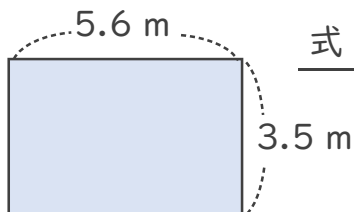
式：  $5.2 \times 7.3 = 37.96$

答え：  $37.96 \text{ m}^2$

<筆算>

		5.2
	×	7.3
		156
		364
		37.96

③



式：  $3.5 \times 5.6 = 19.6$

答え：  $19.6 \text{ m}^2$

<筆算>

		3.5
	×	5.6
		210
		175
		19.60

