

小数のわり算 18

◎ あまりのあるわり算
(商が整数)



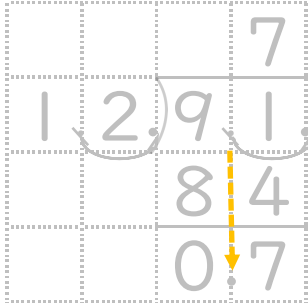
日にち： 月 日

名まえ

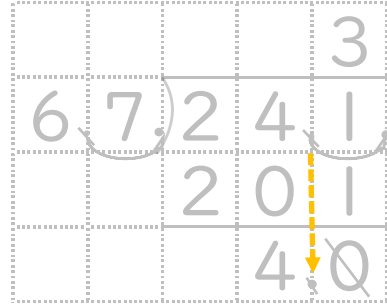
・ 商は一の位まで求めて、あまりも出しましょう。

(うすい文字は、しっかりなぞりましょう)

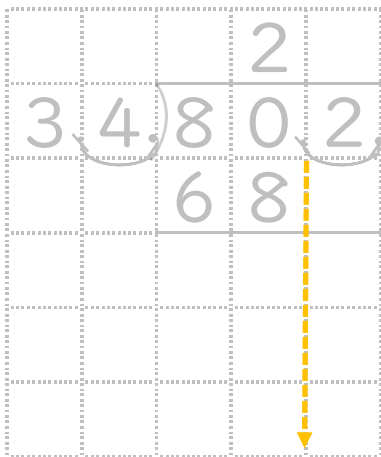
① $9.1 \div 1.2$



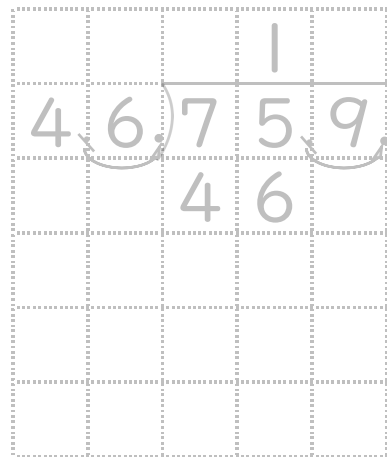
② $24.1 \div 6.7$



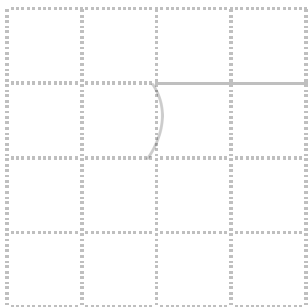
③ $80.2 \div 3.4$




④ $75.9 \div 4.6$




⑤ $8.6 \div 2.6$



⑥ $7.1 \div 2.2$





小数のわり算 18

◎ あまりのあるわり算
(商が整数)



日にち： 月 日

名まえ

・ 商は一の位まで求めて、あまりも出しましょう。

(うすい文字は、しっかりなぞりましょう)

① $9.1 \div 1.2$

			7
1	2	9	1
		8	4
		0	7

② $24.1 \div 6.7$

			3
6	7	2	4
		2	0
		4	0

③ $80.2 \div 3.4$

			2	3
3	4	8	0	2
		6	8	
		1	2	2
		1	0	2
		2	0	

④ $75.9 \div 4.6$

			1	6
4	6	7	5	9
		4	6	
		2	9	9
		2	7	6
		2	3	

⑤ $8.6 \div 2.6$

			3
2	6	8	6
		7	8
		0	6

⑥ $7.1 \div 2.2$

			3
2	2	7	1
		6	6
		0	5