



小数のわり算 18

◎ あまりのあるわり算
(商が整数)

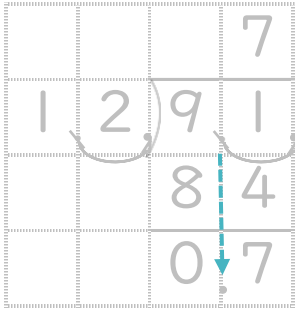


日にち： 月 日

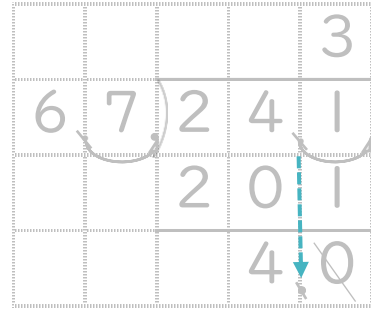
名まえ _____

- ・ 商は一の位まで求めて、あまりも出しましょう。
(うすい字は、なぞりましょう。)

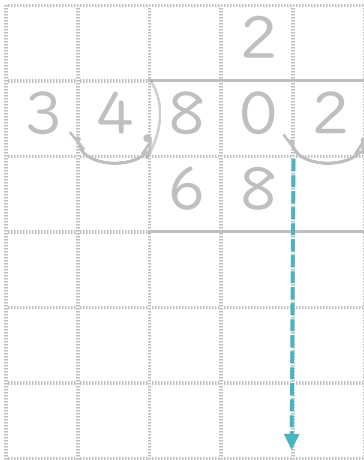
① $9.1 \div 1.2$



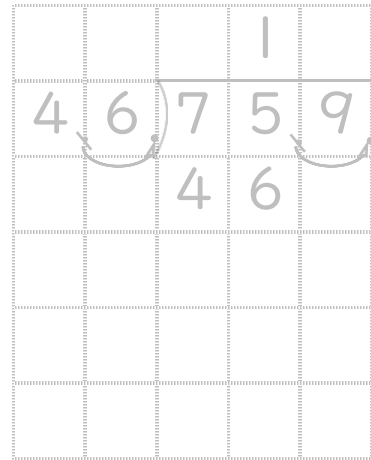
② $24.1 \div 6.7$




③ $80.2 \div 3.4$




④ $75.9 \div 4.6$



⑤ $8.6 \div 2.6$



⑥ $7.1 \div 2.2$





小数のわり算 18

◎ あまりのあるわり算
(商が整数)

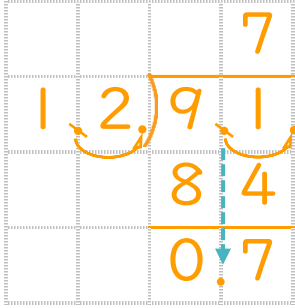


日にち： 月 日

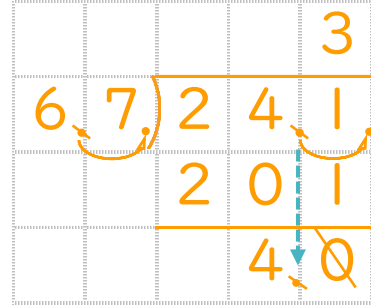
名まえ _____

- 商は一の位まで求めて、あまりも出しましょう。
(うすい字は、なぞりましょう。)

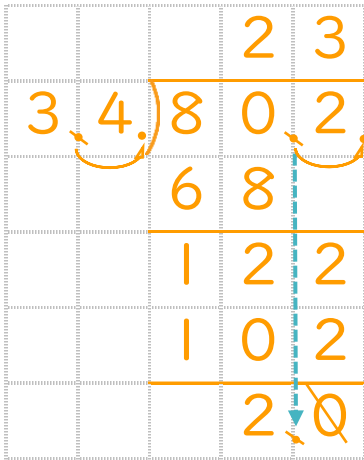
① $9.1 \div 1.2$



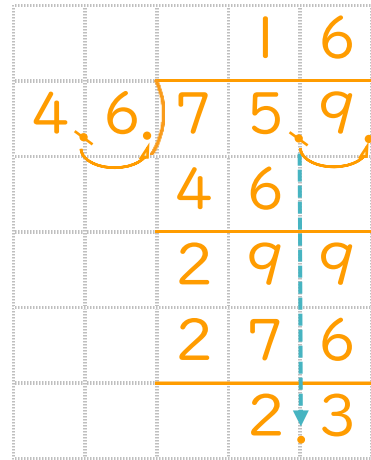
② $24.1 \div 6.7$



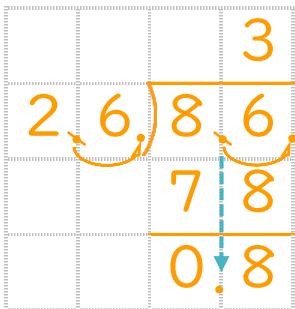
③ $80.2 \div 3.4$



④ $75.9 \div 4.6$



⑤ $8.6 \div 2.6$



⑥ $7.1 \div 2.2$

