



割合 00

● もとにする量を求める

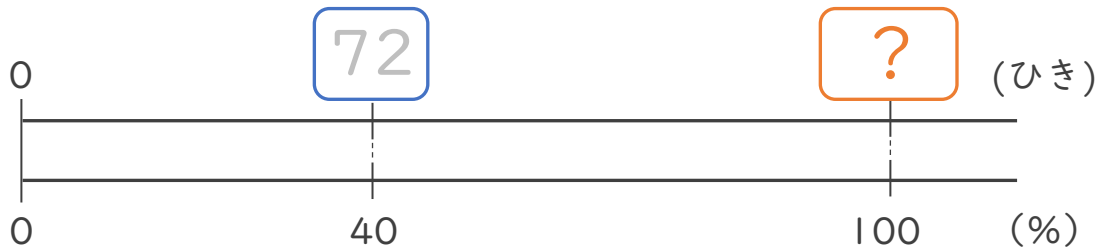


日にち： 月 日

名まえ _____

・ □ にあてはまる数を求めましょう。（うすい字はなぞりましょう。）

① □ ひきの 40% は 72ひきです。



40%を小数で表そう！

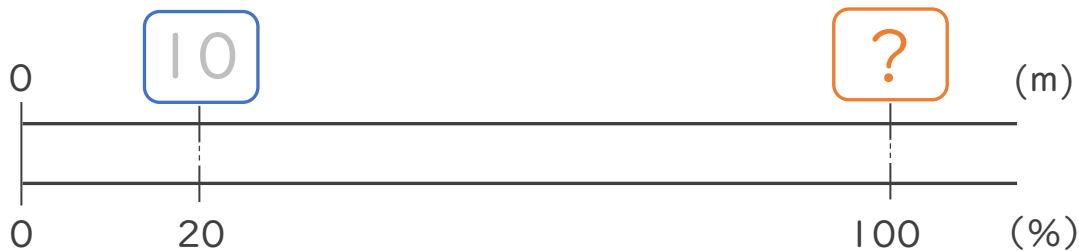


式： ÷ =

比べられる量 割合 もとにする量

答え： _____

② バスに10人乗っています。これは、^{10人}バスの定員の20%にあたります。
このバスの定員は何人ですか。



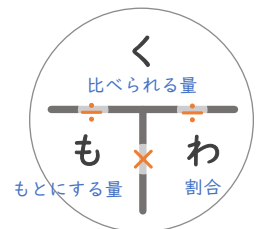
式： ÷ =

比べられる量 割合 もとにする量

答え： _____ 人

比べられる量 ÷ 割合 = もとにする量

で求められるね！





割合 00

● もとにする量を求める

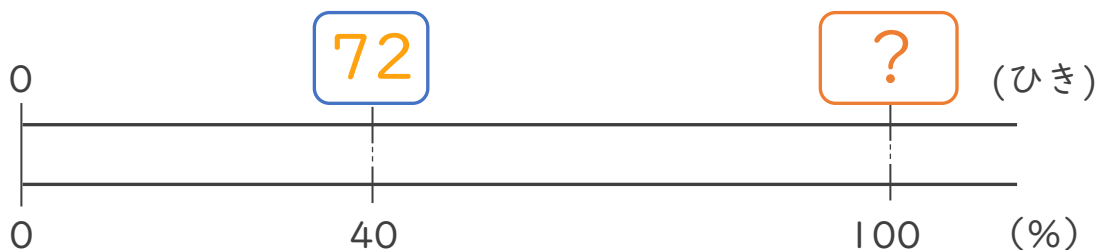


日にち： 月 日

名まえ _____

・ □ にあてはまる数を求めましょう。(うすい字はなぞりましょう。)

① □ ひきの 40% は 72ひきです。



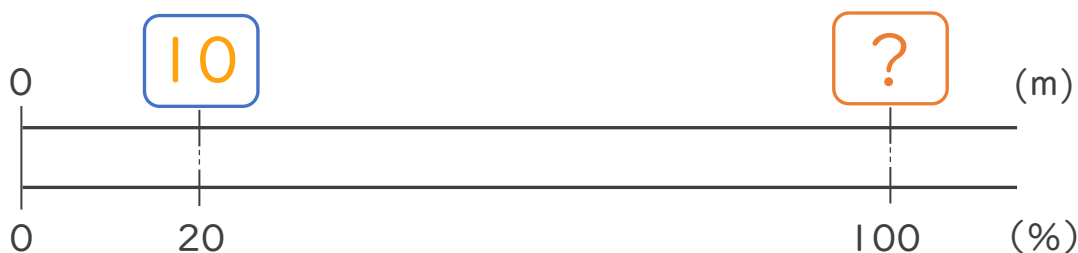
40%を小数で表そう!



$$\text{式： } \underbrace{72}_{\text{比べられる量}} \div \underbrace{0.4}_{\text{割合}} = \underbrace{180}_{\text{もとにする量}}$$

答え： 180

② バスに^{10人}10人乗っています。これは、バスの定員の20%にあたります。
このバスの定員は何人ですか。



$$\text{式： } \underbrace{10}_{\text{比べられる量}} \div \underbrace{0.2}_{\text{割合}} = \underbrace{50}_{\text{もとにする量}}$$

答え： 50人

比べられる量 ÷ 割合 = もとにする量

で求められるね!

