



# 割合 8

● もとにする量・割合・  
比べられる量を見分ける

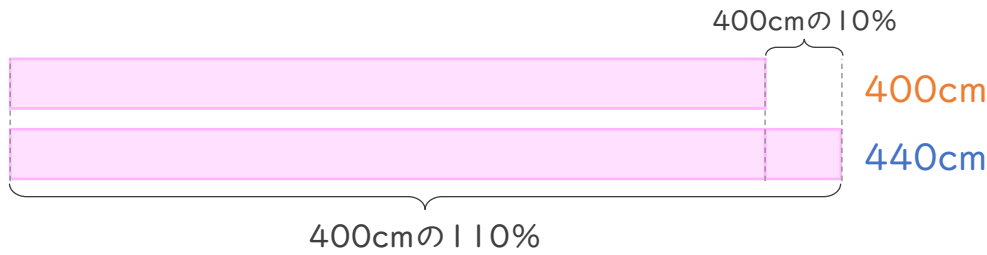


日にち：            月            日

名まえ \_\_\_\_\_

次の文について、問題に答えましょう。

440cm は 400cm の 110% です。




① 上の文で、もとにする量、<sup>りょう</sup>比べられる量、<sup>わりあい</sup>割合は、それぞれ何ですか。

もとにする量・・・ (            )

比べられる量・・・ (            )

割合・・・ (            )

② 下の図で、□にあてはまる数を書きましょう。



③ 次の□にあてはまる言葉を書きましょう。

割合 =  ÷





## 割合 8

● もとにする量・割合・  
比べられる量を見分ける

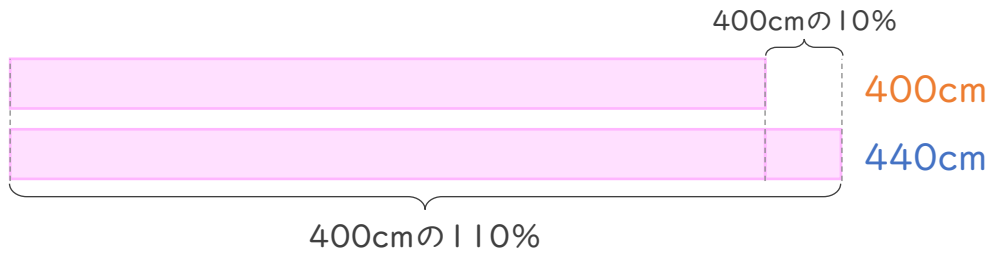


日にち：            月            日

名まえ \_\_\_\_\_

次の文について、問題に答えましょう。

440cm は 400cm の 110% です。



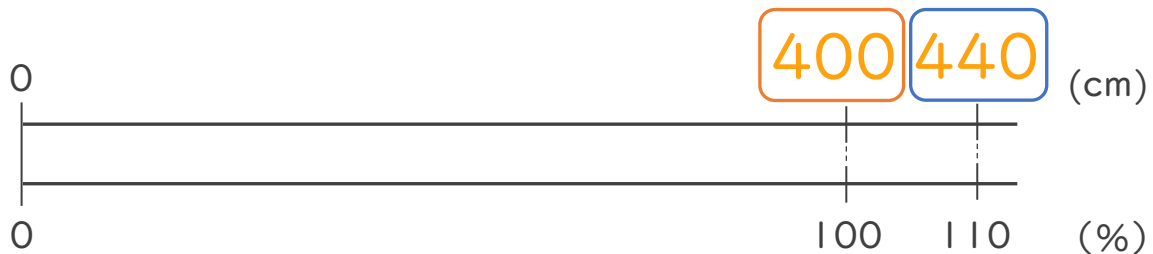
① 上の文で、もとにする量、<sup>りょう</sup>比べられる量、<sup>わりあい</sup>割合は、それぞれ何ですか。

もとにする量・・・ ( 400cm )

比べられる量・・・ ( 440cm )

割合・・・ ( 110% )

② 下の図で、 にあてはまる数を書きましょう。



③ 次の  にあてはまる言葉を書きましょう。

割合 =  比べられる量 ÷  もとにする量

