



小数の倍3

◎ リボンを小数倍した長さ

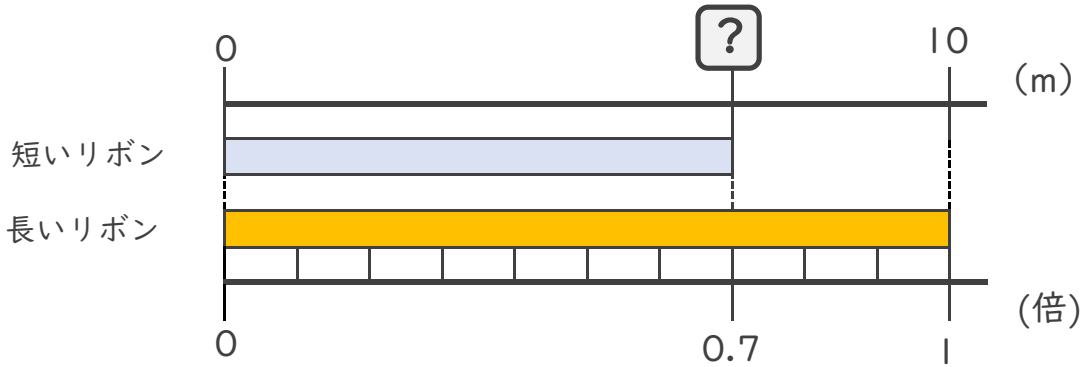


日にち： 月 日

名まえ _____

・ 次の問いに答えましょう。

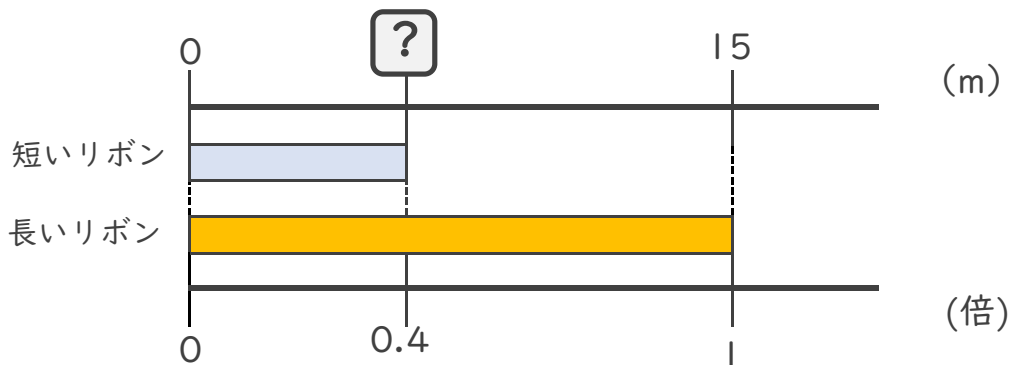
① 短いリボンは長いリボンの0.7倍の長さです。短いリボンの長さをもとめましょう。



式： $10 \times 0.7 =$

答え： _____ m

② 短いリボンは長いリボンの0.6倍の長さです。短いリボンの長さをもとめましょう。



式：

答え： _____





小数の倍3

◎ リボンを小数倍した長さ

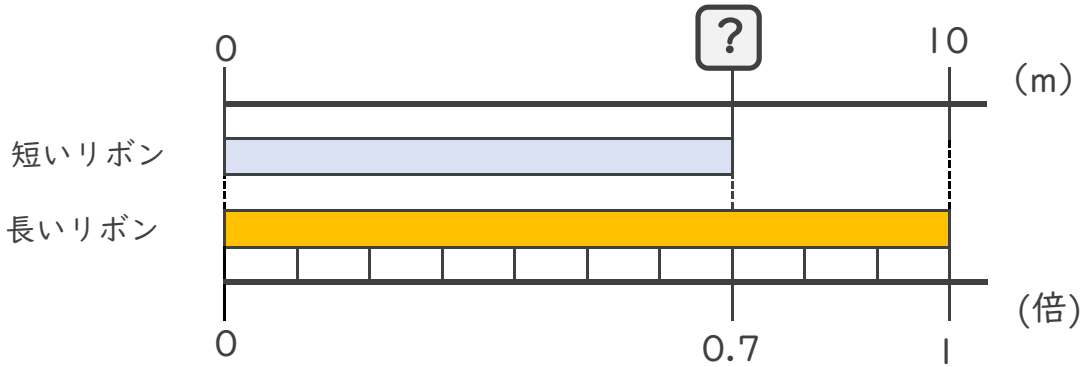


日にち： 月 日

名まえ

・ 次の問いに答えましょう。

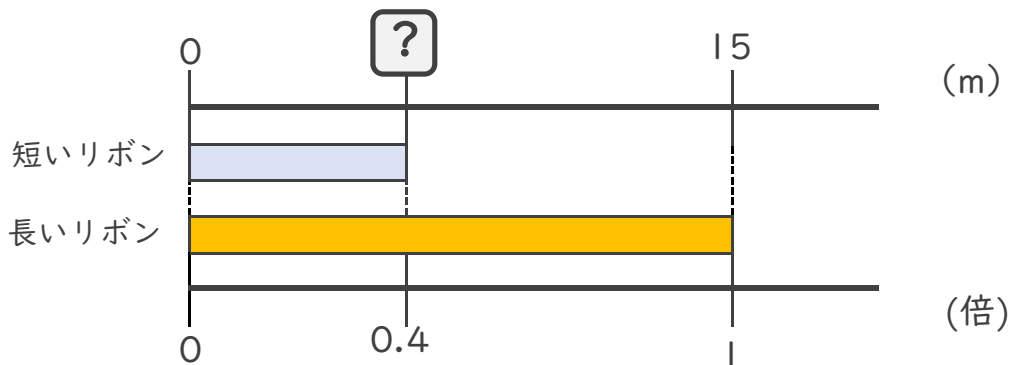
① 短いリボンは長いリボンの0.7倍の長さです。短いリボンの長さをもとめましょう。



式： $10 \times 0.7 = 7$

答え： 7m

② 短いリボンは長いリボンの0.4倍の長さです。短いリボンの長さをもとめましょう。



式： $15 \times 0.4 = 6$

答え： 6m

