



# 小数の倍3

㊦ リボンを小数倍した長さ

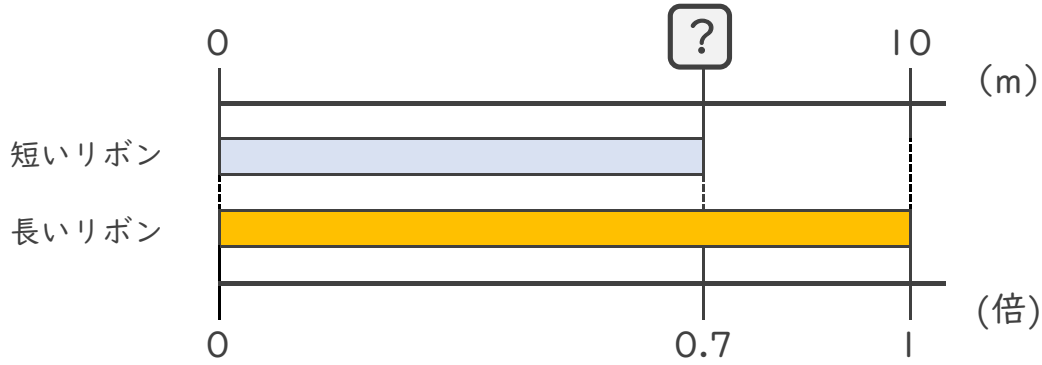


日にち：        月        日

名まえ \_\_\_\_\_

・ 次の問いに答えましょう。

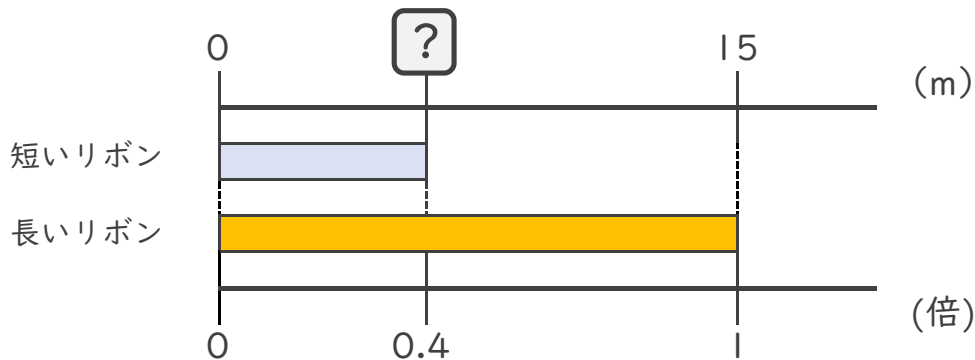
- ① 短いリボンは長いリボンの0.7倍の長さです。  
 短いリボンの長さをもとめましょう。



式：  $10 \times 0.7 =$

答え：        m

- ② 短いリボンは長いリボンの0.6倍の長さです。  
 短いリボンの長さをもとめましょう。



式：

答え： \_\_\_\_\_





# 小数の倍3

㊦ リボンを小数倍した長さ

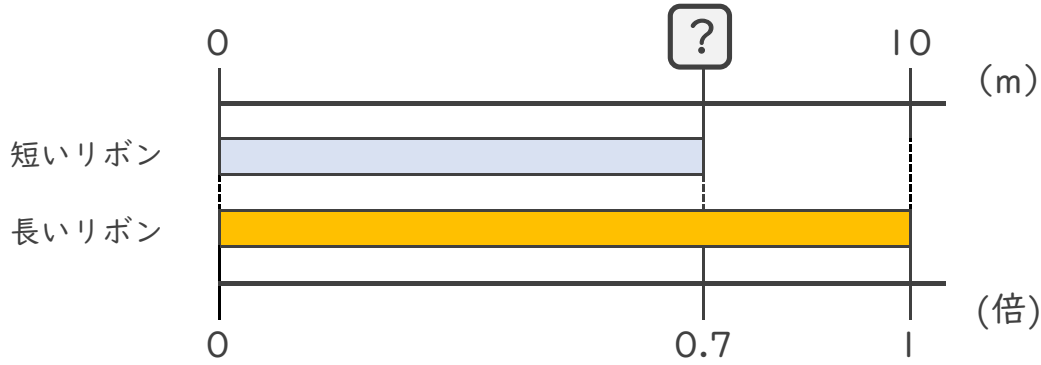


日にち：        月        日

名まえ \_\_\_\_\_

・ 次の問いに答えましょう。

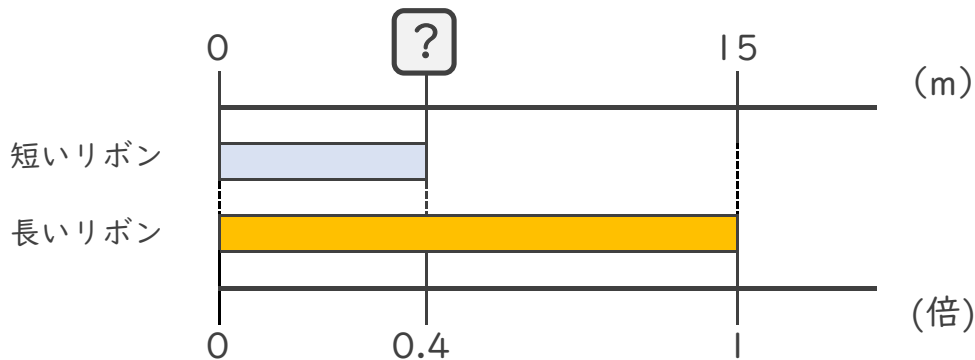
- ① 短いリボンは長いリボンの0.7倍の長さです。  
 短いリボンの長さをもとめましょう。



式：  $10 \times 0.7 = 7$

答え： 7m

- ② 短いリボンは長いリボンの0.4倍の長さです。  
 短いリボンの長さをもとめましょう。



式：  $15 \times 0.4 = 6$

答え： 6m

