



小数の倍 4

何倍かを求める文章題

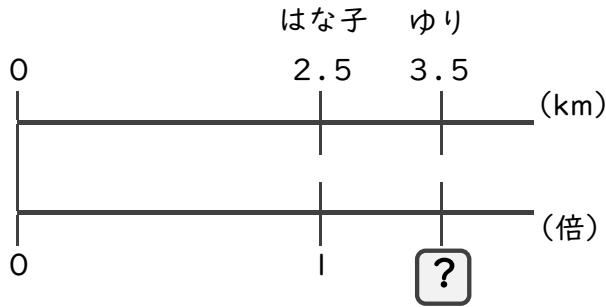


日にち： 月 日
名まえ _____

・次の問いに答えましょう。(うすい字は、しっかりなぞりましょう)

1 はな子さんはリボンを2.5m、ゆりさんは3.5m持っています。

はな子さんが持っているリボンをもとにすると、ゆりさんが持っているリボンの長さは何倍ですか。



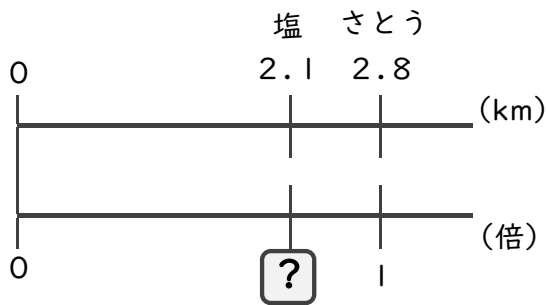
式： × =

= ÷

=

答え： _____ 倍

2 さとうが2.8kg、塩が2.1kgあります。さとうの重さをもとにすると、塩の重さは何倍ですか。



式： × =

= ÷

=

答え： _____



小数の倍 4

何倍かを求める文章題

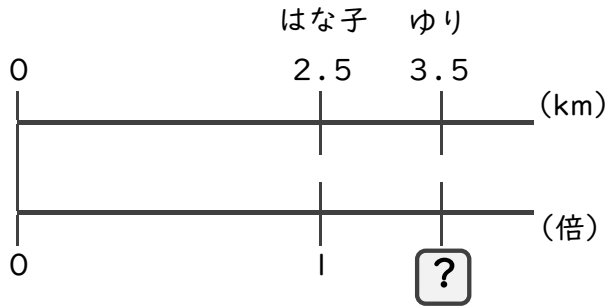


日にち： 月 日
名まえ

・次の問いに答えましょう。(うすい字は、しっかりなぞりましょう)

1 はな子さんはリボンを2.5m、ゆりさんは3.5m持っています。

はな子さんが持っているリボンをもとにすると、ゆりさんが持っているリボンの長さは何倍ですか。



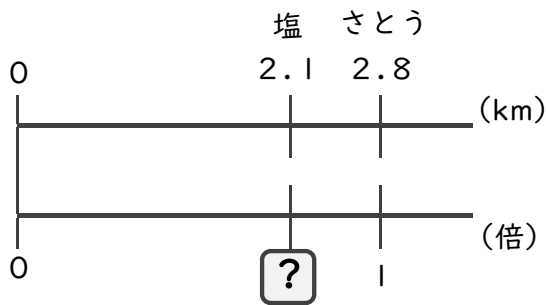
式： $2.5 \times \square = 3.5$

$\square = 3.5 \div 2.5$

$\square = 1.4$

答え： 1.4 倍

2 さとうが2.8kg、塩が2.1kgあります。さとうの重さをもとにすると、塩の重さは何倍ですか。



式： $2.8 \times \square = 2.1$

$\square = 2.1 \div 2.8$

$\square = 0.75$

答え： 0.75 倍