



割合 ①

● 何倍になっているかで比べる



日にち： 月 日


名まえ _____

・ しょうさんと あきらさんは、バスケットボールのシュートの練習れんしゅうをしています。次の表つぎ ひょうを見て問いみとに答えこたましょう。

シュートの練習の記録

	入った回数 (回)	シュートした回数 (回)
しょうさん	3	12
あきらさん	9	15

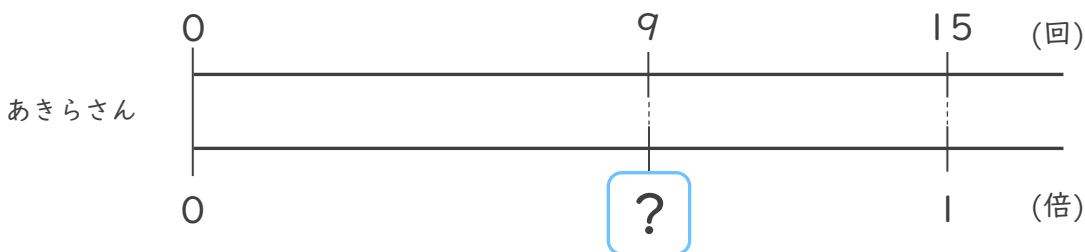
① しょうさんの入った回数は、シュートした回数の何倍ですか。



式：

答え： _____

② あきらさんの入った回数は、シュートした回数の何倍ですか。



式：

答え： _____

③ しょうさんと あきらさんでは、どちらがよく成功しましたか？

答え： _____





割合 ①

● 何倍になっているかで比べる



日にち： 月 日

名まえ _____

・ しょうさんと あきらさんは、バスケットボールのシュートの練習れんしゅうをしています。次の表つぎ ひょうを見て問いみとに答えこたましょう。

シュートの練習の記録

	入った回数 (回)	シュートした回数 (回)
しょうさん	3	12
あきらさん	9	15

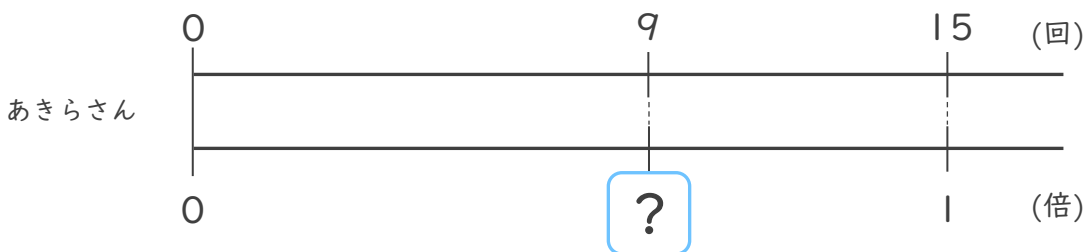
① しょうさんの入った回数は、シュートした回数の何倍ですか。



式： $3 \div 12 = 0.25$

答え： 0.25倍

② あきらさんの入った回数は、シュートした回数の何倍ですか。



式： $9 \div 15 = 0.6$

答え： 0.6倍

③ しょうさんと あきらさんでは、どちらがよく成功しましたか？

答え： あきらさん

