



角柱と円柱 5

4

● 円柱とは

日にち： 月 日

名まえ _____

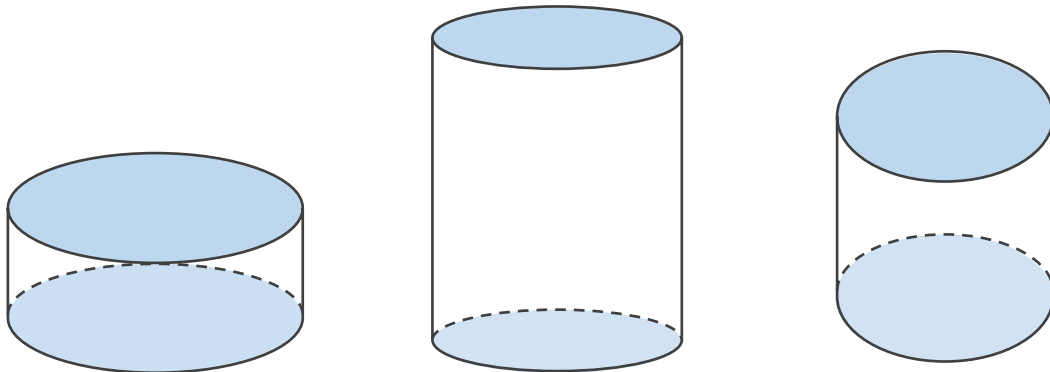
1 下の図について、次の□にあてはまる言葉を書きましょう。

① 下の図のような立体を □ といいます。

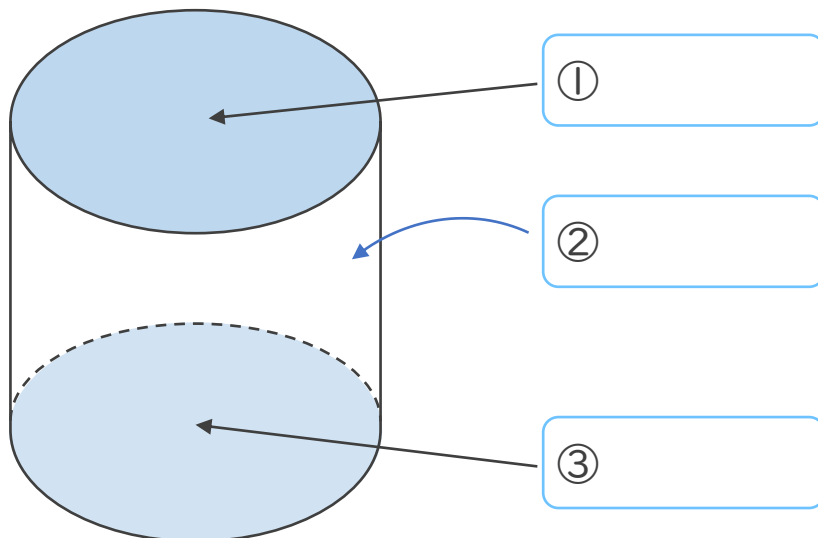
② 形も大きさも同じで、平行な2つの面を □ といいます。

③ 周りの面を □ といいます。

④ 円柱の側面は、平面ではなく □ になっています。



2 □ に名前を書きましょう。





角柱と円柱 5

4

● 円柱とは

日にち： 月 日

名まえ _____

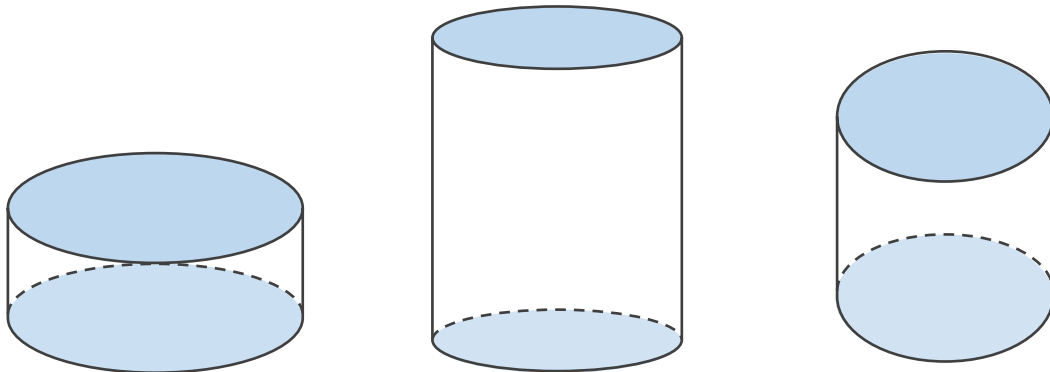
1 下の図について、次の□にあてはまる言葉を書きましょう。

① 下の図のような立体を えん ちゆう
円柱 といいます。

② 形も大きさも同じで、平行な2つの面を ていめん
底面 といいます。

③ 周りの面を そくめん
側面 といいます。

④ 円柱の側面は、平面ではなく きょくめん
曲面 になっています。



2 □に名前を書きましょう。

